


# 綜合練習 2

放大 1 把鐘面平均分成 12 份，看圖回答問題。


解答 ①



(1) 橘色的部分佔  $(\frac{3}{12})$  個鐘面，  
白色的部分佔  $(\frac{9}{12})$  個鐘面，  
 $(\frac{9}{12}) > (\frac{3}{12})$ 。(答案用分數表示)

(2) (白) 色的部分佔比較多。

放大 ②



(1) 橘色的部分佔  $(\frac{8}{12})$  個鐘面，  
白色的部分佔  $(\frac{4}{12})$  個鐘面，  
 $(\frac{8}{12}) > (\frac{4}{12})$ 。(答案用分數表示)

(2) (橘) 色的部分佔比較多。

放大 2 填填看看。

- 解答 ① 1 公斤的鐵塊和 1 公斤的棉花，哪一個比較重？  
(一樣重)
- ② 全世界最小的企鵝是「小藍企鵝」，體重大約是 1 (公斤)。(填入公斤或公克)
- ③ 全世界最大的企鵝是「皇帝企鵝」，體重大約是 45 (公斤)。(填入公斤或公克)

放大 6 下面是「烏吉電視台」星期一的節目表，看表回答問題。

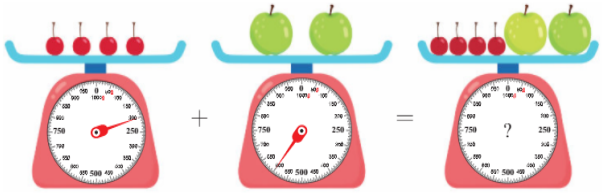
6:00	早安元氣	12:45	水果總動員
7:00	一起學英文	14:00	藝文最前線
7:30	烏吉手語新聞	14:30	奇幻科學研究室
8:00	好煮醫	15:30	生活好聲音
9:00	健康新生活	16:30	房屋大改造
10:00	瘋音樂	17:00	圍棋王子
10:30	烏吉國際新聞	17:30	機器貓的世界
12:15	一週大小事	18:00	烏吉晚間新聞



- 放大 ① 上午 6 時播放的節目是「早安元氣」。
- 解答 下午 6 時播放的節目是「烏吉晚間新聞」。
- ② 小至想要收看圍棋王子，他要什麼時候打開電視才會看得見？  
(下午 5 時或 17 時)
- ③ 一週大小事的播放時間是多久？  
 $12\text{時}45\text{分} - 12\text{時}15\text{分} = 30\text{分}$

答：30 分鐘

放大 3 看圖填填看看。

解答



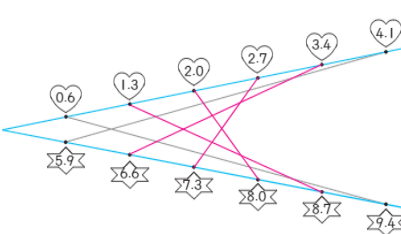
1 個  重 (50) 公克  
1 個  重 (300) 公克  
指針會指在 (800) 公克

放大 4 在  $\square$  中填入  $>$ 、 $<$  或  $=$ 。

- 解答
- ①  $\frac{3}{7} + \frac{4}{7} = 1$       ②  $\frac{7}{8} - \frac{1}{8} > \frac{2}{8} + \frac{3}{8}$   
 ③  $1 - \frac{1}{4} > \frac{2}{4}$       ④  $\frac{5}{4} < 5 \times 4$   
 ⑤  $3 - 0.8 < 1.5 + 0.9$       ⑥  $0.3 + 0.7 = \frac{3}{10} + \frac{7}{10}$

放大 5 把答案加起來是 10 的小數連起來。

解答



放大 7 把做法用算式記下來，並驗算。(做法僅供參考)

- 解答 ① 園遊會要到了，三年忠班同學分組進行不同的準備工作。工作人員數分配如下：  
美術組 8 個人、食材組 7 個人、機動組 9 個人
- (1) 老師買了 126 顆巧克力，平均分給食材組同學，  
每個人可分到幾顆巧克力？

$$126 \div 7 = 18$$

驗算：

$$\begin{array}{r} 18 \\ \times 7 \\ \hline 126 \end{array}$$

答：18 顆

- 放大 ② 老師準備了 112 張色紙，平均分給美術組同學來布置走廊，  
每個人可分到幾張色紙？

$$112 \div 8 = 14$$

驗算：

$$\begin{array}{r} 14 \\ \times 8 \\ \hline 112 \end{array}$$

答：14 張

- 放大 ③ 機動組同學負責搬飲料，1 個人要搬幾瓶，  
才能搬完 108 瓶飲料？

$$108 \div 9 = 12$$

驗算：

$$\begin{array}{r} 12 \\ \times 9 \\ \hline 108 \end{array}$$

答：12 瓶