





一〇九學年度第二學期數學第二冊第七單元評量試題




國こ小こ年ねん班ばん座ざ號ごう姓せい名な

一、填ま填ま看み：每格5分，共40分



(1) 1個，可か以を換か成に ( 5 ) 個。



(2) 1個，可か以を換か成に ( 10 ) 個。



(3) 1個和を 10個，共あ可か以を換か成に ( 4 ) 個。

(4) 2個，可か以を換か成に ( 20 ) 個，也た可か以を換か成に ( 4 ) 個。

(5) 一い個い撲く滿まん賣ばい 40元えん。

①全ぜん部ぶ用よ  付つ，需ひ要よ ( 4 ) 個。

②全ぜん部ぶ用よ  付つ，需ひ要よ ( 8 ) 個。

③全ぜん部ぶ用よ  付つ，需ひ要よ ( 40 ) 個。

二、數か數か看み，各お有あ多おほ少おほ元えん？共20分

(1)



( 35 ) 元えん

(2)



( 21 ) 元えん

(3)




( 63 ) 元えん

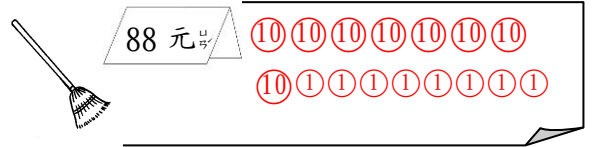
(4)



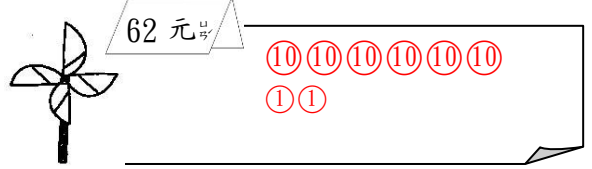
( 93 ) 元えん

三、用表あらわ示し 、表あらわ示し ，畫か畫か看み：每題8分，共16分 (畫法僅供參考)

(1)



(2)



四、看み圖ず圈くわん圖ず看み：每題6分，共24分

(1) 想おぼ買か一い個こ 89元えん的の帽ぼう子し，下した面の的の錢かね夠あ不あ夠あ？



( 夠あ ， 不あ夠あ )

(2) 想おぼ買か一い枝し 58元えん的の原はら子し筆ふで，下した面の的の錢かね夠あ不あ夠あ？



( 夠あ ， 不あ夠あ )

(3) 想おぼ買か一い杯はい 55元えん的の奶な茶ちや，下した面の的の錢かね夠あ不あ夠あ？



( 夠あ ， 不あ夠あ )

(4) 想おぼ買か一い個こ 71元えん的の鉛えん筆ふで盒はこ，下した面の的の錢かね夠あ不あ夠あ？



( 夠あ ， 不あ夠あ )