


一〇九學年度第二學期數學第二冊第九單元評量試題

國こ小こ _____ 年ねん _____ 班ばん _____ 座ざ號ごう _____ 姓せい名な _____


一、看圖算算看，並回答下面問題：
題：每格3分，共36分

(1)




圖形	三角形	長方形	正方形	圓形
個數(個)	4	0	3	4

(2)



圖形	三角形	長方形	正方形	圓形
個數(個)	8	4	0	1

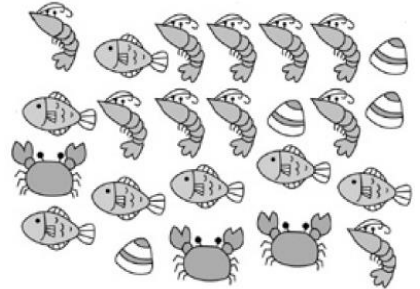
(3)



圖形	三角形	長方形	正方形	圓形
個數(個)	3	3	2	3

二、分分看，並回答下面問題：
每答4分，共44分

新
鮮
海
產
店



(1)把分好的結果記錄在下面表：

種類	蝦子	魚	蚌殼	螃蟹
「正」畫記	正正	正T	正	下
數量(個)	10	7	4	3

(2)哪一種海產的個數最多？

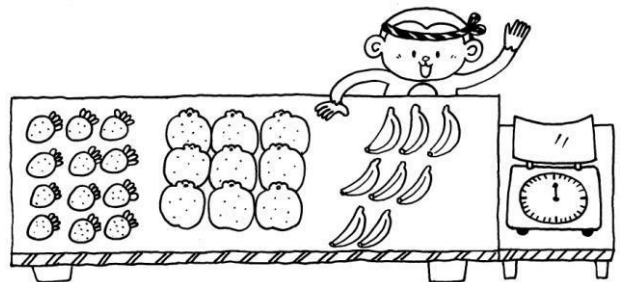
(蝦子)

(3)哪一種海產的個數最少？

(螃蟹)

(4)最多和最少的海產相差 (7) 個。

三、數數看，將紀錄填到下面表格中，並回答問題：每答4分，共20分



(1)把水果的數量記在下面表中：

水果	草莓	橘子	香蕉
個數(個)	12	9	8

(2)水果攤共有 (29) 個水果。

(3)這三種水果中，最多的和最少的相差 (4) 個。