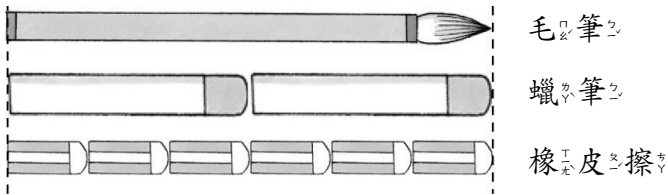


一〇九學年度第二學期數學第二冊第三單元評量試題

國こ小こ _____ 年ねん _____ 班ばん _____ 座ざ號ごう _____ 姓せい名な _____

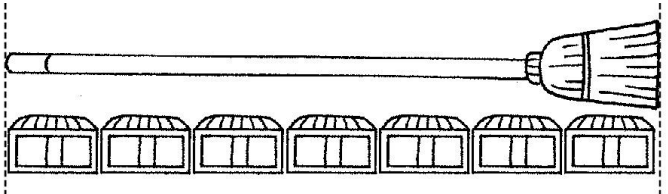
一、下した面めん的の物もの品ぶつ各おの有あ多おほ長なが？ 填ま填ま看み： 每まい格かく5分ふん， 共くわい20分ふん

(1)



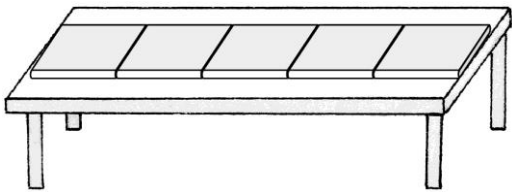
1枝し毛け筆ひつ和と(2)枝し蠟ろう筆ひつ一いっ樣やう長なが也なり和と(6)個こ橡くわい皮ひ擦すり一いっ樣やう長なが。

(2)



和と(7)個こ一いっ樣やう長なが。

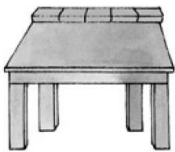
(3)



桌こ子こ和と(5)本ぽん一いっ樣やう長なが。

二、數かず數かず看み， 有あ多おほ長なが？ 每まい題だい6分ふん， 共くわい24分ふん

(1)




桌こ子こ的の邊へり和と(5)個こ積たか木ぎ一いっ樣やう長なが。

(2)



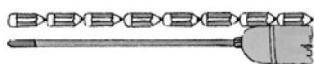
鉛えん筆ひつ和と(6)個こ迴まわ紋もん針はり一いっ樣やう長なが。

(3)



課か本ほん的の邊へり和と(7)條じょう橡くわい皮ひ筋ぢん一いっ樣やう長なが。

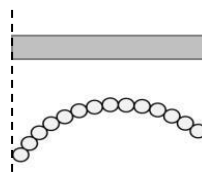
(4)



掃はき把つか和と(8)枝し鉛えん筆ひつ一いっ樣やう長なが。

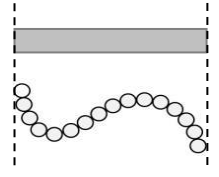
三、用もち一いっ樣やう長なが的の紙かみ條じょう比ひ一いっ比ひ， 下した面めん串くわい珠しゆ由より長なが到た短みじか填ま入い 1~4： 每まい題だい5分ふん， 共くわい20分ふん

(1)



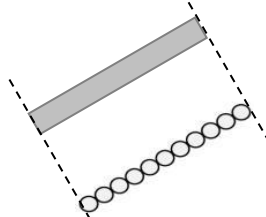
(3)

(2)



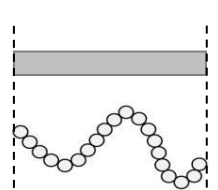
(2)

(3)



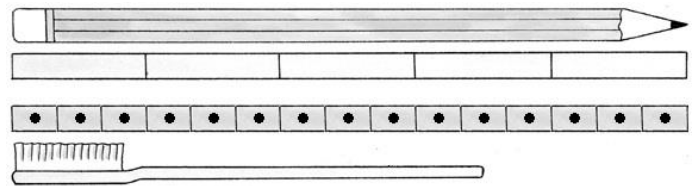
(4)

(4)



(1)

四、看み圖ず填ま填ま看み： 每まい格かく6分ふん， 共くわい24分ふん

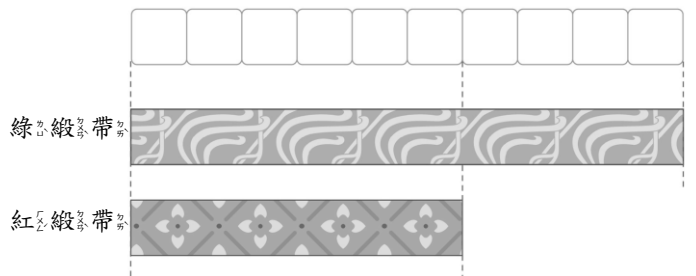


(1)鉛えん筆ひつ和と(5)個こ一いっ樣やう長なが。

(2)鉛えん筆ひつ和と(15)個こ一いっ樣やう長なが。

(3)牙が刷しゆ的の長なが大おほ約やく在あ在あ(10)個こ和と(11)個こ之の間ま。

五、看み圖ず做しよ做しよ看み： 每まい題だい4分ふん， 共くわい12分ふん



(1)綠きよ緞とん帶たい和と(10)個こ一いっ樣やう長なが。

(2)紅べに緞とん帶たい和と(6)個こ一いっ樣やう長なが。

(3)綠きよ緞とん帶たい比ひ紅べに緞とん帶たい長なが(4)個こ。