

台南市立歸仁國中 100 學年度第一學期三年級第一次複習考

社會科試卷範圍：第一～二冊

王淑錦、向敬鋁、曾鈺真 老師

班級： 年 班 姓名： 座號： 號

一、選擇題：1.-6.、20.-29.、42.-51.題每題一分，7.-19.、30.-41.、52.-63.題每題二分，共一〇〇分

- 1.《家庭暴力防治法》公布施行以來，民眾對於家庭暴力防治議題的關切程度及求助於政府部門的意願亦大幅增加，其間政府亦不斷修法來確保家庭暴力受害者的照顧，發現有違反保護令之被告或犯罪嫌疑人等繼續侵害家庭成員生命、身體或自由之情況急迫時，可以逕行拘提之，而受害者或其親屬可向哪一機關聲請保護令？
(A) 法院 (B) 法務部 (C) 警察局 (D) 縣市政府。

2.如圖為陳在天在幸福里公佈欄看到的標語競賽票選活動，但是

標語競賽票選

1. 打破冷漠，重建熱情互動！
2. 自動自發，才有美好未來！
3. 有特色，才是王道！
有共識，計畫可靠！

票選主題卻出現亂碼而看不清楚，根據標語內容判斷，主題最有可能為下列何者？ (A) 學習方法建立 (B) 人際關係培養 (C) 社會教育體現 (D) 社區總體營造。

- 3.某博士生被控連續虐貓致死案，經地方法院審理後，法官因其漠視生命，無視動物承受的恐懼及痛苦，依《動物保護法》將其判處一年六個月有期徒刑。請問：法官的判決提醒人們應重視下列哪一項理念？ (A) 延續生命的價值 (B) 尊重萬物的生命 (C) 維持生物的多樣性 (D) 宣揚宗教的慈悲精神。

- 4.如圖是幸福國中二年1班班會記錄的部分內容。根據「學生自治」的範圍與多數決的原則來判斷，關於各項提案的決議，下列敘述何者正確？

提案一	討論啦啦隊競賽隊服樣式。
決議	贊成A款20人，B款11人，A款通過。
提案二	推選模範生代表。
決議	張小明12票，李小芬3票，張小明當選。
提案三	討論上學時改穿便服到校。
決議	贊成32人，反對0人，下週起改穿便服到校。

(A) 提案一無效，因提案內容違反學校校規 (B) 提案二無效，因張小明得票數沒有過半 (C) 提案三無效，因提案內容違反學校校規 (D) 提案三有效，因贊成人數多於反對人數。

- 5.根據文中所述，這些相關兒少團體應是屬於哪一類型的人民團體？

某傳媒企圖以動畫新聞爭取收視群眾，詳細模擬性侵犯及犯罪經過，雖是虛擬卻可能引發青少年的模仿，相關兒童及少年團體已經聯合至此傳媒公司前進行抗議，以避免造成青少年的不良後果。

(A) 教育團體 (B) 職業團體 (C) 社會團體 (D) 政治團體。

- 6.有鑑於氣候變遷問題日益嚴重，社會大眾節能減碳的環保意識抬頭，少肉多蔬食、隨手拔插頭、多用環保杯筷、確實回收資源、以大眾運輸系統或自行車代步等，已普遍被民眾所接受。請問：由上述內容最能看出何種層次的社會變遷？ (A) 社會制度、價值理念 (B) 物質文明、社會制度 (C) 器物生活、物質文明 (D) 器物生活、價值理念。

- 7.社會規範是因應人類互動所發展出來的行為準則，使社會得以維持秩序，其中有些規範具有強制力，違反者會受到國家的處罰。請問：下列何者是具有強制力的社會規範？ (A) 響應賑災捐款 (B) 除夕返鄉圍爐 (C) 對長輩要尊敬 (D) 接受國民教育。

- 8.司馬遷《史記》對夏代做有系統記載，但因沒有實物證據而遭質疑，直到二里頭宮殿遺址出現才證明夏代的存在。上述說明了下列何種文化內涵層次的重要性？ (A) 器物生活 (B) 制度層次 (C) 觀念傳承 (D) 風俗習慣。

- 9.家住臺東的王同學大學選擇念大氣科學系，原因是臺東氣候詭異多變，他期許自己未來回鄉服務，為家鄉的居民做好天氣預報工作，以預防或減輕天氣變化帶來的災害；這種熱愛鄉土的情懷最符合下列何種概念？ (A) 社區意識 (B) 社區營造 (C) 社區參與 (D) 社區組織。

- 10.桃園縣政府衛生局宣布家中如有身心障礙人士、失智老人等需要長期照護的人，不必舟車勞頓到醫院換管、復健，都可申請居家護理人員到宅協助。請問：上述桃園縣政府衛生局的作法可以落實下列何種社會福利措施？ (A) 社會救助 (B) 國民就業 (C) 社會保險 (D) 福利服務。

- 11.5月15日是國際家庭日。教育部推動「愛家515—一家人無距離」活動，呼籲全民響應「眼耳口手心5到行動」，活動內容如圖。請問：根據圖中內容

愛家515—一家人無距離

1. 看著家人要很有感情(眼)
2. 注意傾聽(耳)
3. 隨時讚美(口)
4. 擁抱支持(手)
5. 關心包容(心)

判斷，政府推動此活動的目的乃是要健全家庭的何種功能？ (A) 生育 (B) 教育 (C) 經濟 (D) 心理。

- 12.阿良的父親在簽閱學校的家庭聯絡簿時，不禁想起過去他在求學時期繳交作業的情形做對照，如圖所示，請問：圖中所表現出的對照內容，最符合下列何項內涵？ (A) 資訊發展與社會變遷的影響 (B) 社會問題與家庭功能的式微 (C) 終身學習與社會教育的落實 (D) 學生素質與教育改革的成敗。

20年前的家庭聯絡簿： 5月5日 1. 明天記得交書法練習本跟週記本，一併齊放在老師的辦公桌。 家長簽名 _____	現在的家庭聯絡簿： 5月5日 1. 明天前將英文作業的電子檔，各自上傳到老師的電子信箱。 家長簽名 _____
---	--

13.「商朝貴族認為神明與祖先時時刻刻操縱人的禍福安危，因此需要向他們祭拜和祈求，並且大多使用青銅鑄造的祭器。」由此可知商朝貴族的祭祀行為是在滿足哪一個需求層次？（A）生理需求（B）安全需求（C）愛與歸屬需求（D）自我實現需求。

14.如圖是小豪以「文化特性」為主題的課堂報告中，用來



輔助說明的圖形。根據內容判斷，他最有可能在說明文化的哪一個特性？（A）累積性（B）普遍性（C）差異性（D）制約性。

15.近來，臺大醫院研發出篩選優良基因技術，可以讓大眾訂做「完美寶寶」。看是想要雙眼皮、男或女、高或矮、IQ多少都能訂製。新技術雖然可以為許多不孕夫婦生出健康的下一代，但是卻引發了相當大的爭議。此項爭議主要來自下列哪一種層面的考量？（A）風俗習慣（B）宗教信仰（C）倫理道德（D）法律規條。

16.「直升機父母」是最近興起的新名詞，指的是父母對於孩子教養出現「過度介入、焦慮」的父母。他們像直升機一樣，盤旋在孩子頭上的天空，隨時隨地照顧著孩子。在上個世代，多半有四到五個孩子分散父母注意力，但這世代卻最多只有兩個小孩。由此可知，「直升機父母」所出現的焦慮感是因為哪一項家庭功能逐漸萎縮？（A）保護與照顧（B）教育（C）經濟（D）生育。

17.報載彰化縣一位販售飯糰十多年的陳姓老闆，收到國稅局所寄課稅通知書，受文者居然是「飯糰」，令人匪夷所思。國稅局辯稱，由於稅務員稽查不到業者，所以按址寄出通知書時，收件人就以「招牌」代替，因而還有受文者寫成「雞排」、「鹽酥雞」、「紅茶」，成為地方笑談。請問：政府課稅、人民納稅，屬於文化的哪一層次？（A）公德層次（B）器物層次（C）制度層次（D）理念層次。

臺東菜販陳樹菊女士感念於年幼時家境貧困，經常仰賴他人救濟才得以生活，長大後立志行善回饋社會，於是她累積平日賣菜的微薄所得，捐獻給孤兒院、給學校蓋圖書館並認養阿尼色弗之家的院童，最近獲選為美國《時代》雜誌西元2010年最具影響力的百大英雄人物，足以為社會典範，試回答第18.－19.題：

18.上文所述，陳樹菊女士的行為最能表現哪一種素養？（A）增進公共利益（B）培養公共道德（C）維持社會秩序（D）促進社區參與。

19.陳樹菊女士立志幫助他人的善行，可以達成馬斯洛需求層次理論的哪一項需求目標？（A）安全（B）自我尊重（C）自我實現（D）社會需求。

報載某公司員工因不滿該公司管理模式與低薪待遇，一千多名員工發起連續罷工，時日過長已嚴重影響出貨進度，最近公司擬將與員工自組的團體針對加薪事宜進行談判。討論同意提高加薪幅度以使員工願意復工。試回答第20.－21.題：

20.由文中敘述可判斷員工自組的團體是屬於哪一種類型？（A）社會團體（B）職業團體（C）政治團體（D）公益團體。

21.根據選文中畫底線的部分判斷，公司與員工之間的互動應屬於哪一種社會互動模式？（A）交換（B）合作（C）同化（D）衝突。

22.臺灣的原住民包含高山族與平埔族，至今高山族群多仍保留豐富的原住民文化，而平埔族群的文化與母語則多已散失，究其原因為何？（A）平埔族長期漢化的影響（B）平埔族被漢人全數消滅（C）平埔族已融入高山族群（D）平埔族全數移民至海外。

23.日本殖民時期，臺灣第一位文官總督田健治郎（任期西元1919～1923年），修正後藤新平「臺灣人不需要高等教育」的偏見，頒佈新「臺灣教育令」，實施臺人和日人共學的制度。他強調「一視同仁」的教化措施，以及「日臺人融合政策」，這些政策與下列哪一選項的精神最相符合？（A）漸進主義（B）內地延長主義（C）差別待遇（D）隔離政策。

24.美國著名記者Tillman Durdin在其所著《無分別的兇殘》一書中，描寫西元1950年初開始在臺灣上演的整肅運動：「不分青紅皂白的殺人開始於西元1949年（民國38年），任何人稍對黨、政、軍各單位，甚或對私人，表示一些不滿，都可能以『親共』的罪嫌加以判刑處決。」上述臺灣這段時期發生的事被稱為下列何者？（A）清鄉運動（B）白色恐怖（C）制裁臺獨（D）文化大革命。

25.康熙年間，陳永華病逝的消息傳至清廷，翰林學士李光地竟具疏賀清帝曰：「臺灣未可卒圖者，實由永華經理有方。今天心厭亂，使之殞命，從此亡可之待。」請問：陳永華病逝後，李光地認為哪一統治臺灣之政權滅亡指日可待？（A）荷蘭（B）西班牙（C）明鄭（D）日本。

26.根據西班牙文獻記載，17世紀時西班牙曾在臺灣興建多處教堂，如Todos Los Santos、San Luis Beltran、San Juan Bautista、San Jose、Senar、Santo Domingo、San Francis等教堂。請問：這些教堂主要分布於何處？（A）臺南、高雄（B）臺中、彰化（C）基隆、淡水（D）臺東、花蓮。

27.卡斯在《芝山岩的鄉野傳奇》一書中看到如圖的照片，介紹如下：「清乾隆51年，漳州人所帶領的天地會會眾起事，轉戰八芝蘭一帶時，參加戰役的死傷



勇士，及受戰役波及的死難鄉民，無法辨認的，約莫五、六十人，由居民募款安葬於此，稱為『大墓公』。咸豐年間的漳泉械鬥，無法辨認或無眷屬的死者又合葬於此。」請問：上文書中提到的起事應該是下列哪一事件？（A）郭懷一事件（B）朱一貴事件（C）林爽文事件（D）戴潮春事件。

28.日治時期，臺灣總督府採取新渡戶稻造（Nitobe Inaz，西元1862～1933年）對某項產業改良意見書，引進新品種，設立新式工廠，致力其產業的現代化。更規定原料採取區域制度，甚至任意決定其收購價格。根據上述內容，此項產業可能為下列何者？（A）蔗糖（B）茶葉（C）稻米（D）樟腦。

29.臺南縣學甲慈濟宮保生大帝神像是來自大陸白礁慈濟宮祖廟，於康熙年間由李姓者自白礁迎來奉祀。每年農曆三月十一日該廟都會舉行「上白礁謁祖」的祭祀活動，藉著送保生大帝回白礁祖廟謁靈，來表達後人飲水思源的心意。請問：根據保生大帝的信仰，學甲的先民最可能是來自何地？（A）廣東（B）廣西（C）漳州（D）泉州。

台南市立歸仁國中 100 學年度第一學期三年級第一次複習考

社會科試卷範圍：第一～二冊

王淑錦、向敬鋁、曾鈺真 老師

班級： 年 班 姓名： 座號： 號

30. 西元 1875 年有位清朝官員下令解除對臺灣的一些禁令。因為他認為若要徹底落實「撫蕃」工作，則必須將過去限制漢人攜眷入臺、禁止漢人進入山地、禁止漢人娶原住民女子為妻等禁令加以解除。請問：這位官員最可能是下列何人？ (A) 沈葆楨 (B) 劉銘傳 (C) 唐景崧 (D) 劉永福。

31. 小華在圖書館閱讀有關臺灣在光復之後所發生的某一事件之報導，將其背景整理如表，根據表中內容，此事件最可能為下列何者？

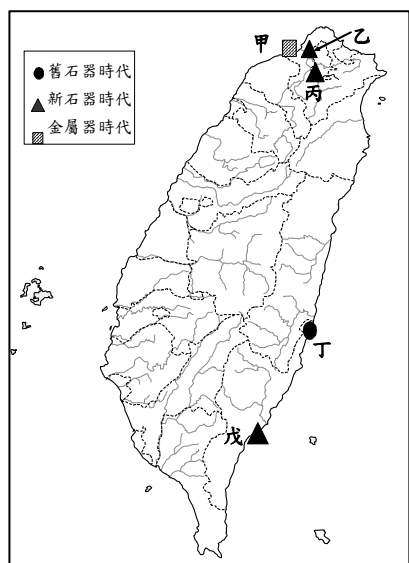
社會上	軍警作威作福，失業增加
經濟上	物價高漲，米價飛貴，統制經濟，與民爭利
政治上	政府政策失當，部分公務員貪污失職及能力薄弱
文化上	臺灣與中國隔閡頗久，中國政府不夠了解臺灣實況

(A) 雷震事件 (B) 苗栗事件 (C) 二二八事件 (D) 美麗島事件。

32. 小青與同學去臺北縣八里河岸公園騎單車時，發現當地有一座介紹臺灣已知最早煉鐵作坊的史前博物館，請問：此座擁有臺灣最早煉鐵技術的博物館主要是在介紹下列哪一個文化？ (A) 長濱文化 (B) 圓山文化 (C) 卑南文化 (D) 十三行文化。

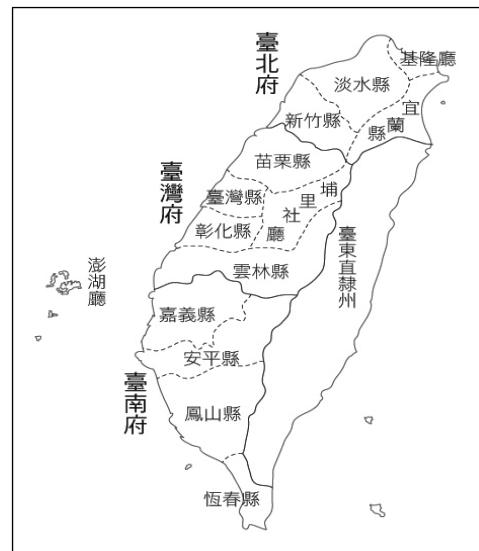
33. 八堡圳從清康熙四十八年(西元 1709 年)開鑿，到清康熙五十八年(西元 1719 年)完成，花了整整十年的時間，工程浩大。水圳完成後，共可灌溉一萬多甲的農地，為清代臺灣最大的水利工程。請問：八堡圳的完成促進哪個平原的開發，使當地的居民廣受恩澤？ (A) 嘉南平原 (B) 宜蘭平原 (C) 彰化平原 (D) 花東平原。

34. 在臺灣，漢人的建材大都以木材為主，如木造的房屋、棺木等。歷史老師在上課時介紹了一個古老的文明，他們住的主要是石板屋，連棺木都是石板棺。德馨想利用週休二日的假期，親眼去見證這個與漢人文化不同的文明遺址。請問：德馨應至如圖處去尋訪？ (A) 甲 (B) 乙 (C) 丙 (D) 丁 (E) 戊。



35. 亞達翻閱書籍時，看見書上寫著：「5 月 26 日學校開學了。因為尚未有書，我們給每個小孩一張紙，讓他們寫字母，分辨母音和子音…。我們已經開了一間學校給新港的孩子。我們不只教他們基督教的基本教義，還教他們讀、寫。」根據以上的描述，亞達閱讀的應是下列哪一本書？ (A) 《十三行的史前生活概說》 (B) 《西班牙的遠東經營》 (C) 《荷據下的福爾摩沙》 (D) 《陳永華對臺灣的政教經營》。

36. 利用地圖來複習歷史，可加深史事的印象及理解，歐辰翻閱圖集時，看到了如圖的行政區域劃分圖。請問：這幅圖最有可能是說明下列何人的政績？ (A) 陳永華 (B) 沈葆楨 (C) 丁日昌 (D) 劉銘傳。

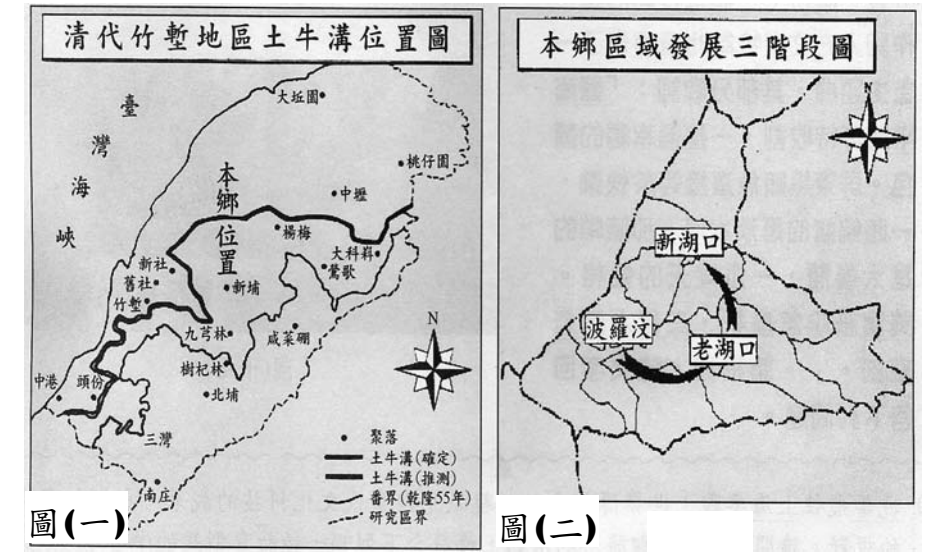


37. 夏沫在書中看到一段資料，描述如下：「這時期的人，居住在湖邊，主食都是一些貝類、魚、蝦，人們食用貝肉、魚蝦後，便將這些貝殼隨手亂丟，形成了厚厚的貝殼堆積層。」夏沫嚮往這種閒適而且三餐又有美味海鮮可吃的生活。請問：夏沫嚮往中的文化應是下列何者？ (A) 長濱文化 (B) 大坌坑文化 (C) 圓山文化 (D) 十三行文化。

38. 原住民在宗教信仰方面，與漢人的傳統習俗非常相像，皆認為祖靈最能影響族人的吉凶禍福，因此最受敬畏。而某原住民部落的族人在祭祀祖靈時，是將裝有清水的壺、罐置於公廨裡，用以象徵祖靈的存在，稱為「祀壺信仰」。此應是哪一族的傳統？ (A) 撒奇萊雅族 (B) 西拉雅族 (C) 太魯閣族 (D) 阿美族。

39. 歷史課時，同學在討論日治時期的某一項重要措施。派大星：「傳統的中國社會以壺漏、日晷等計時，若車班延誤稱『誤點』，但日人治臺時漸漸改稱『慢分』，由『點』到『分』，實有重大的觀念改變。」章魚哥：「日本人在火車站的頂樓設有鐘塔，用以告知時刻。直到今日臺灣許多大城市的火車站，仍然設有大時鐘。」請問：歷史課中所討論的應該是日治時期的哪一項措施？ (A) 時間觀念的建立 (B) 守法守規的養成 (C) 放足斷髮的實施 (D) 衛生習慣的改良。

卡斯想在假日到新竹湖口老街一遊，於是上網搜尋了關於湖口鄉的資料，並找到了圖(一)、圖(二)的兩張地圖。試回答第 40. - 42. 題：



40. 請問：圖(一)中所顯示的界線，應該是清代哪一政策所造成的歷史遺跡？ (A) 開港通商 (B) 渡臺禁令 (C) 開山撫番 (D) 畫界封山。
41. 資料中提到，圖(二)中的波羅汶是清代新竹湖口最早被開發的地區，但是後來因為鐵路線經過老湖口境內，火車站加上湖口老街的興建，使得老湖口在各方面得以迅速發展，成為湖口鄉最熱鬧的政經文教中心，波羅汶的地位也就跟著降低。請問：上述的發展可說是與下列何人的政策有關？ (A) 沈葆楨 (B) 丁日昌 (C) 劉銘傳 (D) 唐景崧。

42. 卡斯根據地圖，到波羅汶走走時，看到了如圖的石碑遺跡，請問：這應該是哪一時期的遺留？ (A) 荷西治臺時期 (B) 鄭氏治臺時期 (C) 清領時期 (D) 日治時期。

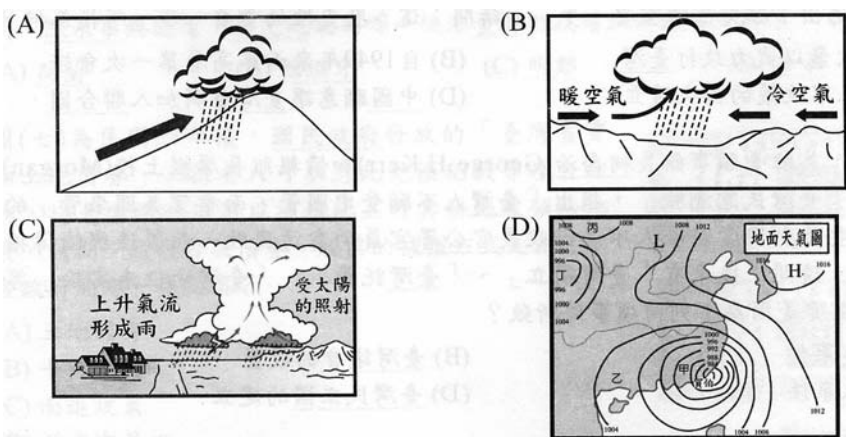


43. 右表為中央氣象局發布

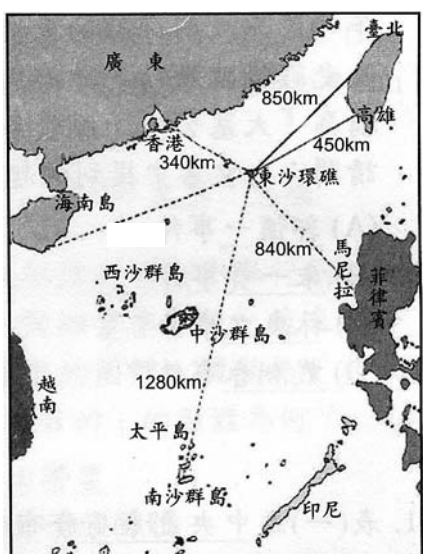
臺北、桃、竹、苗地區和宜蘭稻田休閒中。
臺中、彰化整地育苗中，局部開始插秧。
雲林、嘉義、臺南陸續進行插秧工作。
高雄進入插秧盛期，屏東插秧近尾聲。

的西元 2010 年 1 月下旬的農業氣象旬報農情資料，根據表中內容推斷，造成各地一期稻作進度不一的原因為何？ (A) 一月時臺北因東北季風帶來水氣造成陰雨綿綿，不適合進行插秧 (B) 南部地區因河川為荒溪型，所以要在河川尚有水流時完成插秧 (C) 受緯度影響，各地一月溫度不同，緯度低者較溫暖適合農業活動 (D) 一月時中國沿岸流強盛，導致流經的沿岸地區農業活動受阻。

44. 「中央氣象局表示，一波結構完整的鋒面今天將抵達臺灣，全臺都有大雨的機會，預估降雨持續一個禮拜。」上文中的降雨類型屬於下列何者？



45. 如圖為東沙環礁國家公園的位置圖，若要在地圖放上比例尺，應選擇下列何者？ (A) 0 100 200km (B) 0 50 100km (C) 0 500 1000km (D) 0 225 450km。

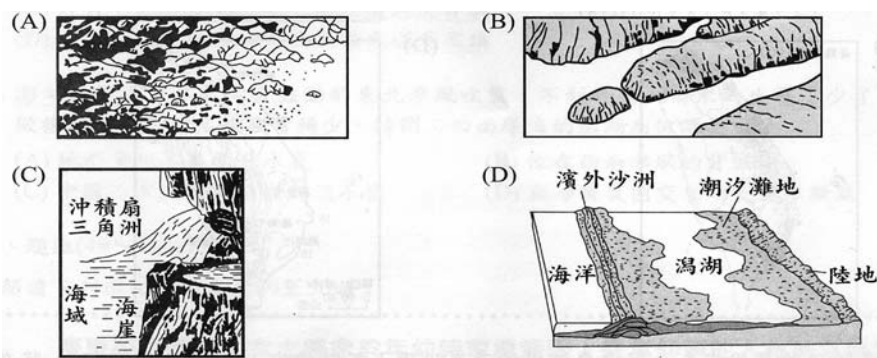


46. 瓜地馬拉 Pacaya 火山 26 日晚間 6 點猛烈爆發，正在瓜地馬拉首都 (15°N, 90°W) 參加研討會的卡斯馬上打電話向臺灣家人報平安。請問：臺灣家人接到電話的時間是臺灣當地的幾點？ (A) 26 日晚上 8 點 (B) 27 日凌晨 1 點 (C) 27 日凌晨 3 點 (D) 27 日早上 8 點。
47. 如表是臺灣 96 學年度到 105 學年度的國民中學新生人數統計表，根據表中資料分析，下列敘述何者正確？

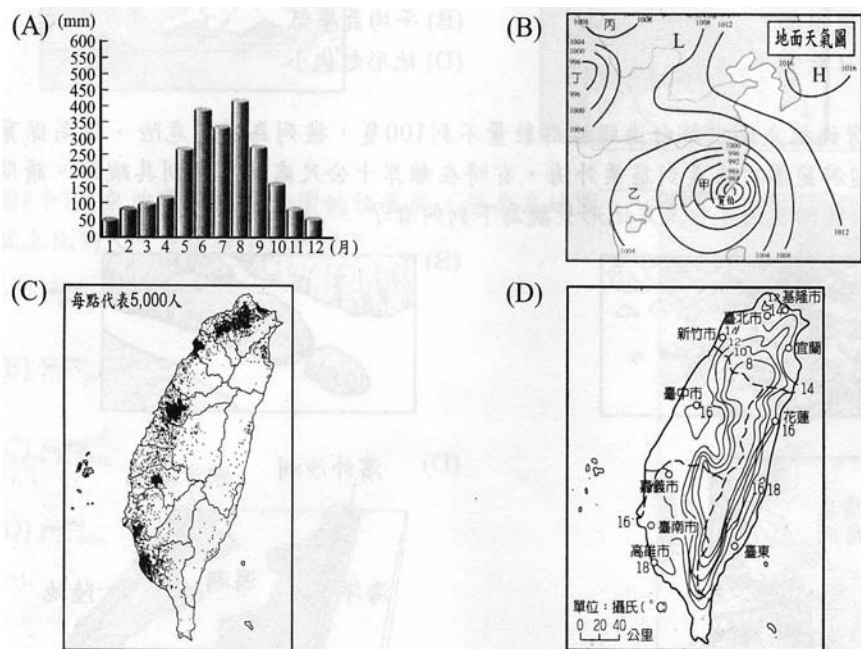
近十年來國民中學新生人數統計表 (95 年教育統計資料)

學年度	96 學年	97 學年	98 學年	99 學年	100 學年	101 學年	102 學年	103 學年	104 學年	105 學年
國一新生人數	316,876	317,383	312,662	286,666	269,508	285,267	275,445	242,061	229,327	214,625

- (A) 出生率呈現上升趨勢 (B) 與現代女性晚婚晚育有極大關係 (C) 臺灣女性人口數有逐年減少的現象 (D) 臺灣總人口數自 97 學年度起逐年增加。
48. 高鐵雲林段因地層下陷引發行車安全問題，而其原因之一就是超抽地下水以灌溉農田。目前提出的解決策略之一是在下陷區設置「太陽能光電專區」，由廠商向農民租用農地，將水田轉變為太陽能發電廠，除可減緩農業用水需求又可發展綠能產業。請問：雲林發展太陽能發電產業的優勢為何？ (A) 平均氣溫高 (B) 平均氣壓低 (C) 降水日數少 (D) 地形起伏小。
49. 又名臺灣媽祖魚的中華白海豚族群數量不到 100 隻，被列為極度危險、最高保育的動物，洄游範圍從嘉義到苗栗外海，有時在離岸十公尺處即可見到其蹤跡。請問：中華白海豚洄游的主要海岸地形景觀為下列何者？



50. 臺灣一鄉一特色的相關報導：「電光地區位於菲律賓海板塊、歐亞大陸板塊交接的斷層帶，因而有豐沃的火山泥，有條從海岸山脈汨汨流下的泥水溪，含有豐富的礦物質水源。所產的『日初米』，淡淡的芋香與彈牙的口感為其特色，在市場上頗受好評」。請問：「日初米」的產地為下列哪個地形區？ (A) 花東縱谷平原 (B) 嘉南平原 (C) 宜蘭平原 (D) 埔里盆地。
51. 今年 6 月中，臺北松山機場與上海虹橋機場雙城對飛首航。從臺北出發的航班應朝向何方飛行才能飛抵上海？ (A) 東方 (B) 南方 (C) 北方 (D) 西方。
52. 濁水溪流域的湖山水庫完成後，將與集集攔河堰聯合運用，豐水期優先使用集集堰的河水，枯水期水量不足時，將使用湖山水庫的水。水利署若要根據豐、枯水期調配兩者的供水量，應參考下列何圖？



台南市立歸仁國中 100 學年度第一學期三年級第一次複習考

社會科試卷範圍：第一～二冊

王淑錦、向敬鋁、曾鈺真 老師

班級： 年 班 姓名： 座號： 號

53. 卡斯是

電視臺特派記者，負責報導慶典活動，如表是他預定的採訪內容，請問：他應該去圖中的何地採訪？

6月	秀姑巒溪泛舟觀光活動
7月	鯉魚潭水舞
8月	阿美族豐年祭
10月	林田山音樂饗宴
12月	太魯閣峽谷音樂節



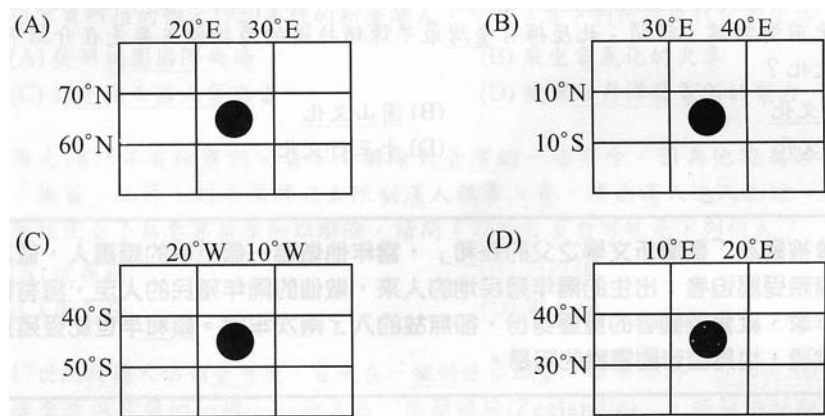
(A) 甲 (B) 乙 (C) 丙 (D) 丁。

54. 卡斯擔任旅行社的行程企劃，圖中的活動是他對哪個島嶼的行程計畫呢？



(A) 甲 (B) 乙 (C) 丙 (D) 丁。

55. 熱帶地區由於氣候終年高溫多雨，樹木並不會發生生長停滯之現象，因此大部分的樹木看不到年輪。請問：在下列何處的樹木大部分是看不到年輪的？



56. 「嘉義果農從日本引進甜心番茄種植，甜度達 12 度以上，但是因種苗一株要 40 元，是一般品種的 6 倍，加上種植面積小、產量少，目前一臺斤要價 500 元，要嚐鮮的民眾得多花些錢。」以上這則農業新聞反映出臺灣農業的哪項發展趨勢？ (A) 臺灣農民技術低落，無法大面積栽培以致產量少 (B) 臺灣耕地不足，農民只好提高農產品售價以求溫飽 (C) 農家耕地狹小，農民以產量少但單價高的作物為主 (D) 為了提升農業競爭力，朝向品質高的精緻農業發展。

57. 臺灣電機電子業公會理事長表示：從富士康調整 80 萬名基層員工薪資來看，意味著中國生產成本將會不斷上揚，在成本考量下，臺資電子廠離開中國將成一趨勢。根據上述，哪間公司最可能也會因同樣的考量而從中國出走呢？ (A) 達浮妮製鞋公司 (B) 89 度 C 麵包工廠 (C) 拾速石化塑膠公司 (D) 業聯鋼鐵公司。

58. 家住臺北市的婷尹一家人準備到宜蘭縣三星體驗採蔥、礁溪泡溫泉、冬山河畔野餐，若爸爸要開車前往，為了縮短車程時間，她應該建議爸爸選擇哪條道路呢？ (A) 中山高速公路 (B) 福爾摩沙高速公路 (C) 蔣渭水高速公路 (D) 中橫公路。

59. 家瑋在旅展拿到某縣市的觀光資源手冊中提到：「本地有豐富的大理石、玫瑰石、水晶等，從過去的賣礦石到發展石材工業，近幾年更推出石雕藝術季，結合自然資源與藝術。」這應該是圖中何處的資料呢？ (A) 甲 (B) 乙 (C) 丙 (D) 丁。



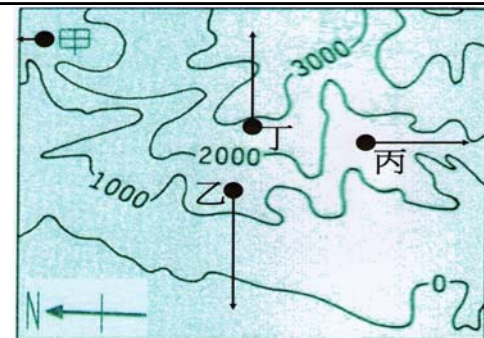
60. 學力高中生態研究社計畫於 7 月間前往圖中某國家公園，考察其生物物種數量，他們所攜帶的裝備除了研究器具外，尚有暖暖包、毛帽、毛襪、羽毛睡袋、禦寒手套、外套等衣物，請問：他們所前往的國家公園位於圖中何處？



(A) 甲 (B) 乙 (C) 丙 (D) 丁。

61. 小歪和同學去爬山，結果在山區迷路了，發了一通如表的簡訊求救，根據資料判斷，小歪他們最

時間：下午 6 點
此地標高：1150 公尺
說明：我們正要下山，在我們的右手邊可看到遠處海邊的日落，天色漸暗，我們又沒帶手電筒，請趕快來救救我們！



可能在圖中哪一個地區？

(A) 甲 (B) 乙 (C) 丙 (D) 丁

62. 未來臺灣將成立五大直轄市，五大直轄市的人口高達一千三百七十萬人，占全台人口數近六成，為了解決往後的直轄市都市內部的交通壅塞和環保節能考量，下列哪一項做法最適宜？ (A) 廣設捷運系統 (B) 建設高速鐵路 (C) 多設道路，鼓勵自行開車 (D) 徵收土地興建聯外的高速公路。

63. 請問：太魯閣地形陡峭，其成因與下列何圖關係最密切？

