

臺南市立歸仁國中 102 學年度三年級第一次複習考

社會科試卷範圍：第一～二冊

陳威年、李淑芬、許慧嫻 老師

班級： 年 班 姓名： 座號： 號

一、選擇題：1.-6.、33.-42.、43.-51.題每題一分，7.-21.、22.-34.、52.-63.題每題二分，共一〇〇分

- 1.世裕在求職廣告中看見下列四個職場的做法，哪一個職場已經營造「性別平等」的環境？(A) 男性可請育嬰假照顧小孩 (B) 女性在工作期間不得結婚或懷孕 (C) 男性擔任外勤工作，女性擔任內勤工作 (D) 一律雇用年輕女性擔任櫃檯小姐。
- 2.「性騷擾」是指對他人有意圖的身體接觸，或有性別歧視或性含意的言語或肢體行為，讓人感覺不舒服，甚至讓人感到厭惡。下列關於性騷擾觀念的描述，何者正確？(A) 性騷擾只會發生在女性身上，男性不必擔心有性騷擾的問題 (B) 同性別之間不會發生性騷擾 (C) 性騷擾只會發生在陌生人之間，家人、親友之間不會構成性騷擾 (D) 不論是開玩笑的黃色笑話，或是不當的身體接觸，只要讓人感到不舒服，就是性騷擾。
- 3.下列談論的「生命的特性」，哪一項是錯誤的？(A) 帽子歌后鳳飛飛病逝，卻遺留了永恆的經典歌曲陪伴世人，這是生命的「獨特性」(B) 沒有人能預測未來，我們只能好好把握當下，面對突如其來的變化，這是生命的「無常性」(C) 人生無法回到過去，我們要一直向前邁進，這是生命的「不可回逆性」(D) 生命終有盡頭，不可能長生不老，要好好思考如何活得更精彩，這是生命的「有限性」。
- 4.依照馬斯洛「需求層次理論」，下列哪一位同學的敘述是最高層次的需求？(A) 凱筑：希望每天都不必為三餐苦惱 (B) 彥柔：好希望可以 and 班上同學成為好朋友 (C) 方城：我的夢想是成為一位優秀的飛行員 (D) 思瑜：要拿我的東西之前要先徵求我同意。
- 5.新婚不久的藝人Ella前陣子和朋友聚會時，拿著家中的照片向朋友介紹：「前面兩位是我爸媽，後面那兩位是我公婆，而旁邊高高壯壯的是我舅舅，下方的小女孩是我堂妹」。請問Ella所介紹的這些人和Ella間的親屬關係，何者正確？(A) 爸媽：直系姻親 (B) 公婆：配偶的血親 (C) 舅舅：直系血親 (D) 堂妹：擬制血親。
- 6.請判斷下列會議發生的情況，哪幾個屬於「秩序問題」？(甲)開會時，有人臨時插話，搶著發言(乙)討論聚餐地點時，有人提議順便進行摸彩(丙)進行提案表決時，突然有人昏倒(丁)討論班遊地點時，有人發言批評幹部不適任(戊)表決班服時，有同學不舉手投票。(A) 甲丙丁 (B) 丙丁戊 (C) 乙丁戊 (D) 甲乙丁。
- 7.歸仁皮國中一年甲班正在討論班遊地點，以下是他們的開會情形，請問過程中哪幾個是錯誤的？

(甲)由主席宣布開會，共有三位同學提出討論方案，大華在會議中以口頭方式提出他的想法，(乙)大華的提案需經過一位同學以上附議才開始討論。當大家正熱烈討論時，小美突然提到跳蚤市場要義賣的物品，(丙)小花向主席提出權宜問題，請主席裁決。過了五分鐘之後，大家提出的班遊地點依序為虎頭埤、梅嶺、走馬瀨進行表決，依照會議規則，(丁)應由走馬瀨先表決。表決結果虎頭埤與梅嶺相同票數，(戊)主席擁有裁決班遊地點的權力。

(A) 甲乙丙 (B) 乙丙丁 (C) 乙丁戊 (D) 甲丁戊

- 8.嘉文在公民課中介紹有關「社區總體營造」的做法，其中

哪一項的敘述是錯誤的？(A) 此計畫強調居民自動自發關心社區事務，並找出社區營造的目標 (B) 政府是推動社區營造的協助角色，提供經費與專業人士諮詢 (C) 「社區總體營造」成功推動後，可加速社區工業化發展 (D) 白米社區的傳統木屐、高雄的橋頭糖廠，都是「社區總體營造」成功的例子。

- 9.美國學者迦納提出「多元智慧理論」，認為人有多種能力與智慧。請問下列何者為「多元智慧理論」最主要的內涵？(A) 強調學習應多元發展，找出自己的優勢智慧，發展自己的潛能 (B) 每個人都應培養至少八種智慧，在不同的時刻會運用不同的智慧解決問題 (C) 此理論著重於少數能力的培養，並非每個人都有突出的能力，要了解自己的底限 (D) 透過多元智慧的啓迪，可開發個人較為擅長的潛能，但對自己的學習效果仍然有限。
- 10.花花：「丁丁不要再講話了！我要把你的名字記下來，快回座位。」丁丁：「花花，自從你當上風紀，講話就很不客氣，你若記我名字，我們連朋友都做不成。」從上述對話可知，花花可能面臨到下列何種狀況？(A) 角色扮演 (B) 角色互動 (C) 角色錯亂 (D) 角色衝突。
- 11.李安所執導的《少年Pi的奇幻漂流》，擊敗《林肯》導演史蒂芬史匹柏，勇奪奧斯卡的最佳導演獎，李安在獲獎後表示很感謝參與這部電影製作的各國同仁共同努力。從上述說明，可以看見哪兩種社會互動模式？(A) 合作、衝突 (B) 衝突、競爭 (C) 競爭、合作 (D) 競爭、順應。
- 12.下列是團體與其團體類型的配對。請問：哪一個是錯誤的？(A) 台南市麻豆區農會—社會團體 (B) 荒野保護協會—社會團體 (C) 民主進步黨—政治團體 (D) 中華電信工會—職業團體。
- 13.國內公益彩券經銷商的遴選，規定必須為原住民、身心障礙者或低收入單親家庭，才具備申請資格。請問：上述做法主要是基於下列何種理念而實施的？(A) 維護公眾利益 (B) 秉持理性與尊重 (C) 促進階級流動 (D) 追求社會正義。
- 14.「補天穿」是客家族群為了感念女媧補天相助的特殊節慶。每逢「天穿日」，客家人便會放下工作，讓大地休養生息，從現代環保概念來看，適度給予大自然修補恢復的時間，更能讓環境生生不息、資源永續發展。請問「補天穿」是屬於文化中的哪一項內涵？(A) 器物層次 (B) 制度層次 (C) 理念層次 (D) 風俗層次。
- 15.文化是人類所特有，是指某一群人所共享的生活、思考與溝通的方式。請問下列何者屬於「文化」的範疇？(A) 亞馬遜河的特有物種—「食人魚」(B) 海馬特殊生殖方式—由公海馬孵出小海馬 (C) 越南特有美食—「生春捲」(D) 地球於固定週期會由西向東自轉。
- 16.社會規範有許多種，某些社會規範以國家公權力為後盾，具有強制力，能較有效約束社會成員的行為。請問下列哪幾項規範屬之？(甲)開車要遵守交通規則(乙)酒後駕車(丙)隨手亂丟垃圾(丁)在捷運上飲食(戊)結婚前的訂婚儀式 (A) 甲乙丙丁 (B) 甲乙丁戊 (C) 乙丙丁戊 (D) 甲乙丙戊。
- 17.公民課時，老師請同學討論「文化內涵的發展」，下列

同學的對話中，哪一位同學的觀念正確？(A)心好：文化三層次的發展速度不一致而產生的落差現象，稱為「文化衝突」(B)之瑜：文化三層次中，通常「制度層次」發展得比其他層次快速(C)雅珍：文化三層次中，最具體、容易被觀察到的是「器物層次」(D)佩琪：文化三層次是單獨存在的，彼此不會相互影響。

18. 社會上有許多規範，每種規範的約束力不盡然相同。下列對社會規範約束力的敘述，何項正確？(A)社會規範會彼此影響，如不奉養父母是違反風俗習慣，但現代這種行為會觸犯刑法《遺棄罪》(B)法律僅能約束一個人的外在行為，無法約束他的內在良心(C)要維持社會秩序的穩定，只有仰賴法律才能發揮約束力(D)在現代的開放社會，風俗習慣、倫理道德及宗教信仰對人們的約束作用比傳統社會來的大。

19. 「國民年金」是我國於 97 年 10 月 1 日開辦的社會保險制度，主要納保對象是年滿 25 歲、未滿 65 歲，在國內設有戶籍，且沒有參加勞保、農保、公教保、軍保的國民。國民年金提供「老年年金」、「身心障礙年金」、「遺屬年金」三大年金給付保障，及「生育給付」、「喪葬給付」二種一次性給付保障。被保險人只要按時繳納保險費，在生育、遭遇重度以上身心障礙或死亡事故，以及年滿 65 歲時，就可以依規定請領相關年金給付或一次性給付，以保障本人或其遺屬的基本經濟生活。請問這種社會福利政策與下列何者相同？(A)老人日間照顧(B)認識新移民課程(C)全民健康保險(D)中山保險公司。

客家庄 12 大節慶之一的「客家踩街嘉年華」，九月中旬在平鎮三崇宮熱鬧進行。在這次活動中，有 63 支隊伍是以客家特色組成來參加踩街活動。踩街的隊伍裡，包含有身穿客家花布的三太子、濟公與啦啦隊，甚至是直接裝扮成客家歌謠的主角，讓整個踩街隊伍猶如嘉年華慶典活動，非常熱鬧。

客家踩街的目的是希望讓勤儉樸實、晴耕雨讀的客家特有文化能再次重現，也希望讓大家了解平鎮獨特的客家文化，並能永續傳承。看完上述文章，試回答第 20. - 21. 題：

20. 踩街的隊伍裡，包含有身穿客家花布的三太子、濟公與啦啦隊，甚至是直接裝扮成客家歌謠的主角，這些因宗教、族群等差異而形成的團體，所發展出來的文化，稱之為何？(A)主流文化(B)傳統文化(C)流行文化(D)次文化。

21. 對於上則報導，下列哪種意涵最為貼切？(A)對各種客家節慶的介紹(B)提供民眾參與慶典的休閒活動(C)將台灣特有的文化傳承並發揚光大(D)不同地區的族群有不同的文化。

22. 台灣於 2002 年加入「WTO」，成為世界貿易組織的一員，請問台灣最早在哪一時期就開始成為國際貿易轉運站？(A)新石器時期(B)金屬器時期(C)荷據時期(D)葡萄牙統治時期。

23. 忠翰與家人利用暑假到東部旅遊，請問：他們可順道參訪那二項文化活動或遺址？(甲)矮靈祭(乙)猴祭(丙)卑南文化遺址(丁)大盆坑文化遺址。(A)甲丙(B)乙丙(C)甲丁(D)乙丁。

24. 歷史老師拿出一張契約，內容是羅馬字拼注原住民語言的文字，要同學發表看法，請問下列何人說法「錯誤」？(A)甲生：是荷蘭人為原住民製造的文字(B)乙生：此文字稱為新港文(C)丙生：為了傳天主教(D)丁生：使原住民在十七世紀進入歷史時代。

25. 甄環是生活在清代治臺前期的姑娘，在她十六歲時，父

母親想將她出嫁，消息一出，來求親的男子高達數十人，而且所出的聘金一個比一個高，原因是「男多女少」。請問：造成這種現象的原因為何？(A)清廷頒布海禁政策(B)平埔族母系社會的影響(C)受渡臺禁令的影響(D)臺灣婦女喜歡做單身貴族。

26. 臺灣新版的五百元鈔票上，印有臺灣梅花鹿的圖片。這種鹿是僅產於臺灣島上的特有亞種，與臺灣歷史與文化有著密不可分的關聯。請問：臺灣史上哪一個時期曾大量外銷鹿皮以換購軍用物資？(A)荷治時期(B)鄭氏時期(C)清領前期(D)清領後期。

27. 雍正 12 年時，丁小羽他在現今臺中一帶工作，過年到了他要回屏東老家與父母團聚。請問：他從臺中回屏東沿途會經過哪些行政區？(A)彰化縣→諸羅縣→臺灣縣→鳳山縣(B)諸羅縣→臺灣縣→鳳山縣(C)天興州→承天府→萬年州(D)噶瑪蘭廳→淡水廳→臺灣縣→鳳山縣。

28. 清光緒 17 年，福泰從台北搭上了火車，體驗了台灣前所未有的創舉(第一段鐵路)，完成了他人人生第一次的火車之旅。請問，他的目的地有可能是下列何處？(A)新竹(B)台南(C)基隆(D)台中。

29. 「開港通商後，西方文化再度傳入，主要媒介人物為傳教士，以(甲)天主教長老教會最為重要。他們以(乙)通商口岸為傳教據點，通常利用(丙)醫療與(丁)教育的方式推展傳教事業，也因此讓台灣社會增添不少西方色彩。」請問，以上敘述中，(甲)至(丁)畫線部分，何者有誤？(A)甲(B)乙(C)丙(D)丁。

30. 台灣向來政治、經濟重心都在南部，到了清領時期，逐漸轉移到北部，請問，這種發展是在什麼事情之後出現？又，最主要與哪樣商品的盛產有關？(A)開港通商；茶葉(B)設立行郊；樟腦(C)台灣建省；蔗糖(D)北部文風日盛；稻米。

31. 瑞詰在欣賞「世界各國國旗圖鑑」時，看到一面很特別的國旗(如圖)，出現在台灣歷史上。請問，這應出現在什麼時候？(A)日本推行皇民化運動時(B)清朝甲午戰敗後(C)西來庵事件爆發時(D)中日戰爭結束後。



32. 小呆在研讀日治時期「某事件」時發現：事件平定後，迫使總督府徹底檢討「理蕃」體制。總督府認為，在歷經長期的綏撫政策後，原住民仍產生接二連三的抵抗行為，應與決策、執行兩者之間缺乏共識有很大的關係；而「理蕃警察」的素質低落，更是引爆事件的直接原因。請問，這「事件」應是指(A)霧社事件(B)牡丹社事件(C)苗栗事件(D)西來庵事件。

33. 「自(甲)1930年代起，日本為了配合(乙)南進政策的需要，企圖使台灣成為南進的補給基地，開始推動工業化，經濟政策調整為(丙)『工業台灣，農業南洋』。從此，積極發展(丁)紡織、食品加工等輕工業，使台灣逐漸向工業社會推進。」請問，上述中(甲)至(丁)畫線部分，何者有誤？(A)甲(B)乙(C)丙(D)丁。

34. 小萱在閱讀「日本殖民體制下的台灣」一書時，讀到「...首任文官總督就任後，旋即發表其施政方針，一面強調台灣是日本領土的一部份，有異於殖民地；一面則揭櫫重視教育及提高台灣人政治地位政策。...」請問，上述內容發生的時間點應是(A)台灣總督府始政時(B)第二次世界大戰結束後(C)中日戰爭爆發後(D)第一次世界大戰結束後。

35. 閩東是日治時期的臺灣人，他沒有念過什麼書，卻有機

臺南市立歸仁國中 102 學年度三年級第一次複習考

社會科試卷範圍：第一～二冊

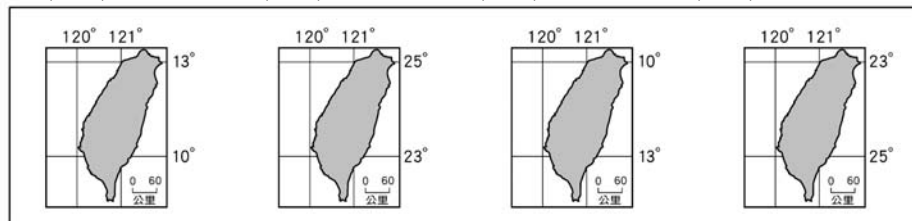
陳威年、李淑芬、許慧嫻 老師

班級： 年 班 姓名： 座號： 號

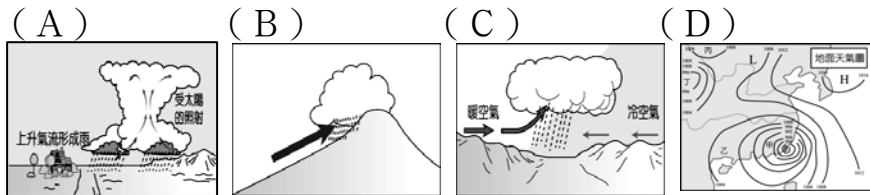
- 會接觸到新知識，這主要是哪一個團體舉辦了許多啟迪民智的活動？ (A) 臺灣文化協會 (B) 臺灣民眾黨 (C) 臺灣議會設置請願運動 (D) 臺灣地方自治聯盟。
36. 民國 39 年進行國民政府遷臺後第一次地方自治選舉，請問：臺灣史上第一次地方自治選舉的時間與意義為何？ (A) 1934 年，成立臺灣議會，議員全部民選 (B) 1928 年，臺灣總督由人民普選產生 (C) 1941 年，地方民意代表全部開放民選 (D) 1935 年，地方民意代表改為半數官派、半數民選。
37. 「小心新流感！有發燒症狀應立刻就醫...」今年初，在中國爆發新流感 H7N9 疫情，衛生署長邱文達多次在媒體前宣導正確防疫步驟。回顧歷史，臺灣早期原為瘴癘之地，瘟疫廣泛流傳，直到何時才開始建立醫療衛生系統，可防治霍亂、傷寒、鼠疫等傳染病？ (A) 清領前期 (B) 清領後期 (C) 日治時期 (D) 中華民國在臺灣。
38. 兩岸分治初期，國軍部隊常製作空飄汽球，施放至中國大陸。請問：我國製作的空飄汽球，應出現的標語是？ (A) 人民公敵蔣介石 (B) 解救苦難的大陸同胞 (C) 解放臺灣受難的小朋友 (D) 三通四流，和平統一。
39. 近年來，台灣地區因工資上漲，導致需要大量勞力的產業，部份外移到工資較低廉的東南亞地區。請問：為了台灣經濟整體發展和提升國際間的競爭能力，下列四個方案中，哪一個是最適宜的治本方法？ (A) 大量引進外籍勞工 (B) 提高關稅 (C) 大量興建核能發電廠 (D) 推動產業升級。
40. 由劉德華演唱的歌曲〈黑蝙蝠中隊〉「...女老師懷了孕，想在今夜說。飛將軍有任務，說要馬上走.....誰知那晚飛將軍他一去不復返...」，歌詞描述由《中美共同防禦條約》而成立的我國空軍秘密偵察部隊—「黑蝙蝠中隊」，所發生的淒美愛情故事。請問：促使黑蝙蝠中隊成立的主要原因是？ (A) 古寧頭戰役 (B) 韓戰爆發 (C) 中美斷交 (D) 兩岸三通。

化？ (A) 開始架設電報線，方便民眾聯絡 (B) 開始有台灣巡撫，提升了行政層級 (C) 開始興築鐵路，交通更便利 (D) 渡台禁令廢除，更多移民來台。

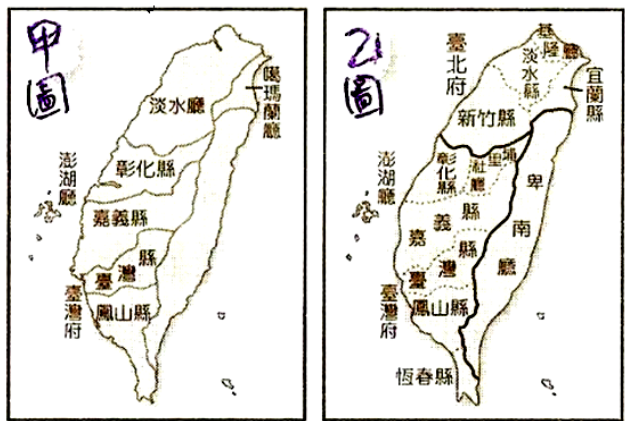
43. 我們通常將通過哪一個地點的經線稱為本初子午線？ (A) 中國北京 (B) 日本東京 (C) 英國倫敦 (D) 美國紐約。
44. 地理知識大競賽時，主考官出示以下四張地圖，請同學選出正確的台灣經緯度位置，答案會是哪一張？ (A) (B) (C) (D)



45. 歸仁國中今年的畢業旅行將到野柳海洋公園。請問：學生從台南搭車北上台北的路程中，「不會」經過下列哪一地形區？ (A) 台北盆地 (B) 新竹丘陵 (C) 嘉南平原 (D) 宜蘭平原。
46. 超級風暴「珊珊」襲擊肆虐美國東岸，災區滿目瘡痍有如戰場，重災區紐約市正努力恢復供電及清理殘骸與垃圾。美國政府官員若要了解災區土地前後的變化情形，應該使用哪一種地圖？ (A) 等高線地形圖 (B) 衛星雲圖 (C) 分層設色圖 (D) 衛星影像圖。
47. 阿威畢業旅行時，沿途拍攝了許多照片留念。他拍攝的這張照片(如圖)，臺灣哪一個港口，最可能是利用這種地形開闢而成的？ (A) 基隆港 (B) 花蓮港 (C) 高雄港 (D) 臺中港。
48. 承寬放學回家時碰到一場雨，這場雨降雨時間很短暫，只有十五分鐘，且回到家時，發現附近街道竟然沒下雨，請問：承寬所碰到的降雨類型為何？



依據如圖，試回答第 41. - 42. 題：



41. 如圖為清領時期台灣行政區圖，請問，由甲圖演變為乙圖的主要關鍵是： (A) 英法聯軍 (B) 牡丹社事件 (C) 中法戰爭 (D) 甲午戰爭。
42. 承上題，由甲圖演變為乙圖後，台灣社會產生了什麼變

49. 某部落格報導：「每當入秋，嘉義鰲鼓濕地就開始熱鬧起來，因為北方避冬的候鳥將展翅高飛，而臺灣正是南線航道的中點，有的候鳥就會在嘉義鰲鼓濕地降落休息補充體力...」。請問：候鳥群來臺避冬是利用哪一個方向來的風？ (A) ↘ (B) ↙ (C) ↑ (D) ↗。
50. 位於臺灣海峽的澎湖群島雖然四面環海，但是雨量不足，為臺灣降雨量最少的地區，主要是受下列哪一項因素影響？ (A) 地勢低平 (B) 受山地阻擋 (C) 緯度較低 (D) 位於夏季季風的背風側。
51. 臺灣的年平均降雨量約為 2500mm，然而每人每年可分配

到的水量卻低於世界平均值，是世界缺水的地區之一。請問：下列哪一種現象不是造成臺灣水資源不足的原因？（A）河川東西分流（B）河流坡陡流急（C）人口密集（D）降雨季節分布不均。

52.爸爸說：「台北的工作機會比較多、生活也較便利。」；但小允說：「台東空氣清新無污染、放學還可以跟同學去溪邊玩。」；妹妹說：「台東交通不方便，兩個小時才一班公車。」；媽媽說：「台北治安不好，以後出門要注意安全。」請問：誰說的原因屬於推力？（A）爸爸、媽媽（B）小允、爸爸（C）妹妹、媽媽（D）小允、妹妹。

53.莎莎今日在煮飯時，無意間聽到下面廣播中談到的幾段新聞，請判斷這些新聞是針對現今台灣何種人口問題製作的？

音源一：內政部宣布「幸福接二連三」圖文徵稿活動開始。

音源二：院長表示：「這個問題已成了國家競爭力的關鍵問題，未來將造成勞動力缺乏、經濟成長趨緩、及老年扶養比提高等不良現象」。

（A）少子化（B）性別比失衡（C）高齡化（D）人口分配不均。

54.歡樂王國

以前就有這樣的習俗，

	東廂城	西廂城	南廂城	北廂城
性別比	80	113	95	100

凡是生女孩的家庭則是送蛋糕、生男孩的家庭就會依禮送油飯。請從表中資料判斷，哪一個城市送出的蛋糕比例會高出油飯的比例最多？（A）東廂城（B）西廂城（C）南廂城（D）北廂城。

55.五十年代政府首先在高雄成立了第一個加工出口區，吸引許多外國廠商前來投資設廠；當時台灣提供的有利條件為下列哪兩項？（A）資金、技術（B）原料、交通（C）原料、動力（D）勞工、政策。

56.在國際產業分工的體系中，台灣長期以來一直扮演著重要的產品零件「代工」的角色，但面對中國和東南亞國家的崛起，台灣的工業未來應朝下列哪一方向發展？（A）大量引進外籍勞工（B）投資能源密集工業（C）積極研發自創品牌（D）調整市場內銷為主。

57.如表為

四家工廠各項生產成本支出比例的概況，由此

(%) 工廠	原料成本	電力成本	勞工成本	運輸費用
大發	10	55	15	15
金賺	20	25	10	45
發財	45	15	20	20
來億	15	25	50	10

判斷哪一家工廠最有可能是煉鋁工廠？（A）大發（B）金賺（C）發財（D）來億。

58.如表為台灣四大區域都市化等級別統計圖。等級越高（如第一級）代表都市化程度越高，反之（如第三級）則代表都市化程度較低。請問：以此資料判斷，何者應為台灣的東部地區？

都市化等級別	第一級都市數	第二級都市數	第三級都市數
甲	1	4	2
乙	1	1	4
丙	1	2	5
丁	0	0	2

（A）甲（B）乙（C）丙（D）丁。

59.某日凌晨在台灣東部地區發生一起重大竊案，有四名嫌

犯正在接受調查，檢察官請他們分別描述所居住的環境。請你根據所學，找出最具有地緣關係，可能就居住在東部地區的嫌犯？（A）這裡的學校規模都很大，學生也很多（B）這裡的醫院不好找，生大病往往得自求多福（C）這裡公共設施充足，藝文展覽總是一場接一場辦（D）這裡百貨公司林立，總是能買到限量版的新上市球鞋。

臺灣的景觀資源豐富多樣，目前已成立了八座國家公園。試回答第 60. - 61. 題：

60.小平過年時，想到國家公園遊玩，但又怕溼冷的天氣掃興。請問：他到哪一個國家公園遊玩最為適合？（A）甲（B）丙（C）丁（D）己。

61.小平利用寒假整理了有關國家公園的筆記報告，他的哪一項書寫內容是不正確的？（A）甲—陽明山—火山地形、溫泉（B）乙—雪霸—大理石峽谷地形、櫻花鉤吻鮭（C）丁—玉山—大型野生動物、八通關古道（D）庚—金門—閩南式建築、戰地古蹟。

依據如圖，試回答第 62. - 63. 題：

62.為了研究，我們會將自然、人文景觀類似的區域劃分為地理區便於我們找出其中關聯，因此地理區的劃分常會因為目的的不同而做調整，並非一成不變。請問：若以如圖的分區而論，下列哪一個民間所劃分的區域不隸屬圖中的相同分區？（A）北北基（B）宜花東（C）中彰投（D）南高屏。

63.«國土綜合開發計畫»中，金馬地區的重點是積極發展地方產業特色、增加就業機會，以提供國民特殊生態與文化體驗。請問：假如你是金門縣縣長，你會從哪一項產業著手？（A）高粱酒釀造（B）大理石材加工（C）島嶼浮潛遊憩（D）設置高科技園區。