

台南市立歸仁國民中學 110 學年度第二學期第三次段考二年級社會科試題

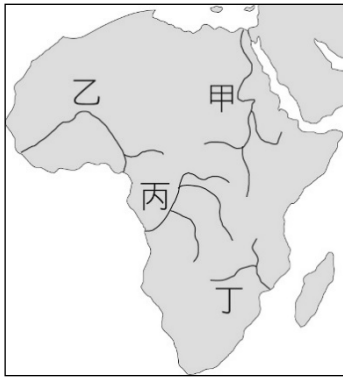
考試範圍：翰林版 地理、歷史、公民第四冊 5~6 課

二年 _____ 班 座號： _____ 姓名： _____

題型：單一選擇題 試題總共 60 題，共 5 頁 請在答案卡上依題號畫卡作答

配分：第 1~7、21~26、41~47 每題 1 分；其餘每題 2 分

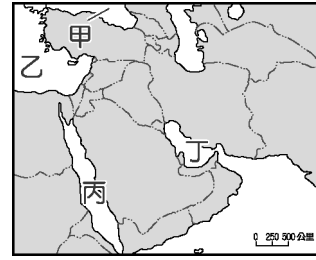
※地理 20 題，共 33 分 (01 ~ 07 每題 1 分； 08 ~ 20 每題 2 分)



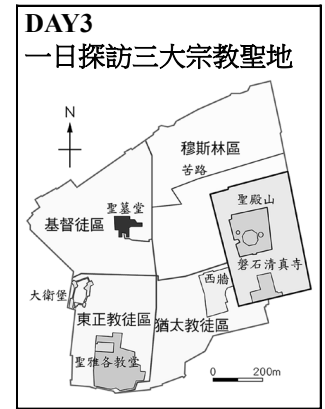
【圖一】




【圖二】



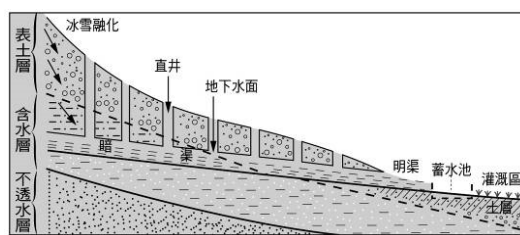
【圖三】



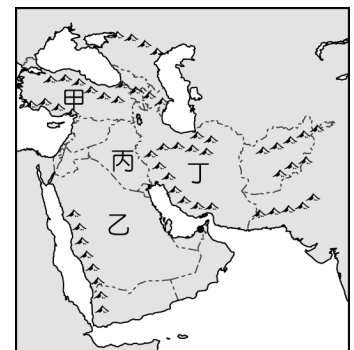
【圖四】



【圖五】



【圖六】



【圖七】


- () 01. 上附【圖一】為非洲主要河流分布圖。埃及古文明的發展與某條大河的定期氾濫息息相關，因河流氾濫帶來沃土，促成農業興盛。請問：此條河流為圖中何者？ (A)甲 (B)乙 (C)丙 (D)丁。
- () 02. 西元 2003 年伊朗曾發生芮氏規模 6.3 的大地震，造成三萬多人死亡；西元 2010 年又發生多起芮氏規模 5.5 以上的強震，使當地居民聞震色變。根據分析，伊朗因處於板塊擠壓的高原上，因而地震頻傳。攤開如上附【圖二】所示的西亞地圖，伊朗應位於圖中何處？ (A)甲 (B)乙 (C)丙 (D)丁。
- () 03. 能源問題已成為目前世界經濟發展的隱憂，其中西亞由於石油蘊藏量相當豐富，因此成為世界各國所關注的焦點，一有風吹草動便影響了國際的原油價格。請問：西亞地區以上附【圖三】中哪一個海域附近的石油蘊藏量最多？(A)甲 (B)乙 (C)丙 (D)丁。
- () 04. 嘉南旅行社主打西亞與北非的旅遊行程，在該行程的第三天出現了如上附【圖四】的介紹。請問：當日旅行團前往的地點應位在下列何處？ (A)埃及開羅 (B)土耳其伊斯坦堡 (C)伊拉克巴格達 (D)以色列耶路撒冷。
- () 05. 上附【圖五】為某組織的標誌，總部設於歐洲奧地利首都維也納，其成立目的是為了維護會員國利益，並維持石油出口產品的價格及產量水準。請問：該組織為下列何者？ (A)EU (B)WTO (C)OPEC (D)APEC。
- () 06. 上附【圖六】為西亞伊朗高原與非洲亞特拉斯山等地的某種水利設施示意圖。請問：此項水利設施所運用的水資源主要為何？ (A)雨水 (B)海水 (C)湖水 (D)地下水。
- () 07. 西亞地區氣候乾燥，上附【圖七】中哪一個國家為美索不達米亞平原的主體，該地又稱為「兩河流域」，利於農業發展，為古巴比倫文明的發源地，其沿岸平原及綠洲成為本區重要的人口集中區？ (A)甲 (B)乙 (C)丙 (D)丁。
- () 08. 西亞的產業活動早期以傳統的農牧業為主，生活方式相當純樸。近年來利用當地所盛產的石油資源，帶來大量的經濟收入。請問：西亞主要的石油蘊藏地區不包括上附【圖七】何者？(A)甲 (B)乙 (C)丙 (D)丁。
- () 09. 西亞的大部分地區覆蓋著炎熱乾燥的沙漠，呈現一片荒涼。請問：造成當地普遍乾燥的主要原因為何？ (A)副熱帶高氣壓籠罩，氣流下沉 (B)熱帶低壓盤據 (C)地勢低平，水氣不易上升凝結 (D)深居內陸，距海遙遠，海洋水氣不易到達。
- () 10. 在天方夜譚中，有一則水手辛巴達的故事。故事中遭遇船難的辛巴達想贈送財物給救命恩人，但卻被拒絕。這位恩人表示，「凡是碰到落海或困在荒島的人都會盡力搭救，並供他們食物和衣服，還有一點錢。」請問：這種精神與伊斯蘭教徒穆斯林力行五功當中的的何種文化有關？ (A)念：念清真言 (B)禮：每日祈禱 (C)齋：實施齋戒 (D)課：捐獻濟貧。
- () 11. 西亞地區和北非的埃及，一般俗稱為「中東」，當地戰事不斷，素有「火藥庫」的稱號。關於該地區的紛爭原因，下列何者「錯誤」？ (A)民族不同：猶太人與阿拉伯人的紛爭 (B)宗教不同：猶太教徒與伊斯蘭教徒紛爭 (C)石油蘊藏：石油主要分布於黑海沿岸 (D)戰略地位：位於歐、亞、非三洲接觸地帶。
- () 12. 有關於蘇伊士運河的地理位置描述，下列敘述何者正確？ (A)位於沙烏地阿拉伯 (B)位於亞非兩洲之間 (C)可溝通黑海與地中海 (D)是將波斯灣沿岸的石油運往亞洲的必經之路。



【圖八】



【圖九】



【圖十】

- () 13. 上附【圖八】是清真認證符號，信仰伊斯蘭教的信徒，可依照清真認證購買符合教義的產品。伊斯蘭教對食物有明確的規定，合乎教法規定的食物，被稱為合法(HALAL)食品。它的條件是：被宰殺的動物是健康活生的；宰殺時要減少牠的痛苦；宰殺下刀時，誦讀真主之名。請問：下列何種食物最「不可能」獲得清真認證符號？ (A)肉燥飯 (B)錫蘭紅茶 (C)牛肉麵 (D)虱目魚羹。
- () 14. 上附【圖九】是某種宗教信徒女性運動員，參加奧運比賽的照片，從照片右方運動員的穿著打扮，可判斷她屬於何種宗教？(A)伊斯蘭教 (B)印度教 (C)基督教 (D)佛教。
- () 15. 民居的類型常反映出當地的自然與人文環境特色，上附圖【十】為西亞或北非地區常見的建築物，其特點是牆很厚、門窗很小、平頂建築。請問：西亞或北非地區出現此種建築景觀的主要原因為何？ (A)盜匪特多 (B)氣候乾燥 (C)森林茂密 (D)地震頻繁。
- () 16. 為了開源節流，讓水資源得以發揮最大效益，以色列發展下列何項獨特技術？ (A)坎井 (B)開發深層地下水 (C)滴灌 (D)蓋亞斯文高壩。
- () 17. 自然環境的樣貌往往會造就一地的人文景觀。受到自然環境的影響，古西亞居民的經濟基礎主要建立在哪兩個產業之上？ (A)稻作農業、酪農業 (B)稻作農業、游牧 (C)游牧、綠洲農業 (D)綠洲農業、酪農業。
- () 18. 在西亞與北非地區也有溫帶地中海型氣候的出現，有關於此種氣候類型的降雨季節時間分布描述，下列何者正確？ (A)夏雨冬乾 (B)夏乾冬雨 (C)全年少雨 (D)全年有雨。
- () 19. 為了能更加深入了解西亞文化，小林同學想要前往西亞國家來一趟西亞景點之旅。請問：小林同學所選的景點當中，下列何者「錯誤」？ (A)以色列的死海 (B)摩洛哥瓦盧比利斯的古羅馬遺跡 (C)阿拉伯聯合大公國杜拜的帆船飯店與哈里發塔 (D)科威特的儲水塔。
- () 20. 家住台南的小林同學一家人是虔誠的穆斯林，每日必定面向聖地麥加朝拜五次，未來更計畫親自到麥加朝聖。請問：小林同學一家人到麥加朝聖前，必須申請哪一個國家的簽證？ (A)伊朗 (B)伊拉克 (C)阿拉伯聯合大公國 (D)沙烏地阿拉伯。

※公民 20 題，共 34 分 (21 ~ 26 每題 1 分； 27 ~ 40 每題 2 分)

- () 21. 為全面保障兒少權益與福利，我國制定《兒童及少年福利與權益保障法》。請問：下列何者屬於上述法律明定的兒少「福利措施」？ (A)媒體應自律，不得刊載有害兒童及少年身心健康的內容 (B)父母應禁止少年吸菸、喝酒 (C)百貨公司、大賣場等的停車場，應於靠近電梯、人行出入口等處設置孕婦、育有 6 歲以下兒童者專屬的婦幼停車位 (D)各類出版品及遊戲軟體應予以分級。
- () 22. 附圖是國二的克緬和父親的相處情形，根據情境，克緬的父親已經違反何項法律的規定？ (A)《少年事件處理法》 (B)《兒童及少年性剝削防制條例》 (C)《兒童及少年福利與權益保障法》 (D)《勞動基準法》。
- () 23. 阿強將公民課上所學的法律責任與焦點新聞配對，整理成附表。請問：表格中第一則至第三則新聞的法律責任類型依序為何？



第一則	情侶起口角，男友憤而打傷女友。
第二則	兩名年輕人共騎機車未戴安全帽。
第三則	某旅行社未依契約完成旅遊行程，導致旅客無法如期歸國。

- (A)民事、刑事、行政 (B)刑事、行政、民事 (C)刑事、民事、民事 (D)行政、刑事、民事。
- () 24. 一個人從出生到死亡各類生活型態，都包括在行政法規範內。請問：下列同學的舉例，何者屬於行政法規範的內容？ (A)彗俊：無照駕駛騎乘機車 (B)正荷：跟同學借書依約定歸還 (C)凱效：盜用同學的遊戲帳號密碼取得寶物 (D)政宇：電話訂購飲料未依約定取貨。
- () 25. 下列關於「罰金」與「罰鍰」的比較，何者敘述正確？ (A)罰金是刑罰，罰鍰是行政罰 (B)罰金是由行政機關依法科處，罰鍰是由法院宣告 (C)罰金屬於行政處分之一，罰鍰屬於主刑之一 (D)偷竊罪可能處以罰鍰，違規停車可能處以罰金。

() 26. 政府的行政行為受到行政法和行政程序的制約，對於保障人民基本權利和維護公共利益而言極為重要。下列舉例中，何者的說法正確？ (A)教育部依《國民教育法》，強制國民接受大學教育，以保障人民受教權 (B)北市政府依《噪音管制法》將夜間便利商店門鈴聲列入管制範圍，以免影響民眾睡眠 (C)衛生福利部依《全民健保法》，強制全民接受健康檢查，以保障國民健康 (D)戶政事務所依《戶籍法》規定新生兒從父姓，以保障性別平權。

() 27. 下列是四位同學在討論關於「救濟途徑」的對話，哪些人的觀念正確？

小奇：刑事案件若是由檢察官所提起的訴訟稱為公訴。

阿軒：人民只要不服行政機關的處分，就可以直接到法院提出行政訴訟。

小美：被害人委任律師向地方法院提起訴訟，此舉稱為「告訴」。

阿茂：當私人間發生權利義務糾紛時，人民可提起民事訴訟。

(A)阿軒、阿茂 (B)阿軒、小美 (C)小奇、小美 (D)小奇、阿茂。

() 28. 聯合國通過《兒童權利公約》後，各國紛紛以不同方式保護兒少權益。根據以下內容判斷，這是屬於哪一層面來落實對兒少的保護？

臺灣兒童暨家庭扶助基金會長期致力於貧困兒少的生活扶助、保護受虐及有特殊需求的兒少。

(A)政府立法保障 (B)民間團體的協助 (C)兒少的自覺 (D)企業的社會責任。

() 29. 某市的少年警察隊舉辦微電影創作大賽，主題為「曝險少年」，期許透過投稿影片的傳播，能預防少年偏差行為。請問：下列關於影片中未成年人的行為的描述，何者不符合主題？

(A)文英無正當理由經常攜帶棍棒、西瓜刀 (B)尚泰施用毒品咖啡包而尚未觸犯刑罰法律

(C)鋼太計畫偷竊物品，準備好相關工具 (D)朱里經常逃學、逃家，出入少年不當進入之場所。

() 30. 斐晴正在整理「少年刑事案件」的處理流程，下列何者為正確的流程？

(A)年滿 12~18 歲且犯罪情節輕微→少年保護官起訴→少年法院(庭)審理→處以刑罰

(B)年滿 14~18 歲且犯罪情節重大→檢察官起訴→少年法院(庭)審理→處以刑罰

(C)年滿 18 歲且犯罪情節重大→少年保護官起訴→少年法院(庭)審理→處以保護處分

(D)未滿 14 歲且犯罪情節輕微→檢察官起訴→少年法院(庭)審理→處以保護處分。

() 31. 對於這則新聞中法律責任的敘述，下列何者正確？

(A)是觸犯《刑法》規定 (B)是透過法院宣告的處罰方式

(C)是由行政機關依法科處 (D)屬於刑罰的一種。

社會要聞

一名女子當著乘客的面，在大眾運輸工具上自拍不雅照片，警方表示此行為已違反《社會秩序維護法》，最高可罰款六千元。

() 32. 下述所提及違法行為應受到的處罰，與下列何者所應負起的法律責任類型相同？

隨著現代人生活愈來愈富足，養寵物已成為一種風潮，再加上單身貴族及不生育子女的雙薪家庭戶數增加，這些需要陪伴的族群常會飼養寵物作伴，使得臺灣寵物的數量，漸漸地比 0~6 歲的嬰幼兒人數還多，也帶動了寵物市場龐大的商機。但養寵物除了經濟上的支出外，還要注意相關的法律問題，像是許多人不知道寵物用剩的藥品不可任意上網販售，否則會被主管機關處以高額罰款。飼養寵物的主人，除了花時間照顧寵物外，可能也要多費心思了解相關規定，以免觸法。

(A)未依契約規定完成施工 (B)拒絕酒測遭到吊銷駕照 (C)遭欠債不還的債主 (D)酒後駕車造成公共危險。

() 33. 一位釣客因天黑視線不良誤入商港範圍內釣魚，但他的行為已違反相關法規，將可能被處以罰鍰，警方提醒民眾千萬不要因疏忽而觸法。上述釣客若被開罰而不服，依法他應先採下列何種方式進行權利救濟？

(A)向警察機關提出請願 (B)向高等法院提出上訴 (C)向訴願管轄機關提出訴願 (D)向高等行政法院提起訴訟。

() 34. 寫下這則日記的少年應是受到何種處分？ (A)保護管束 (B)安置輔導 (C)假日生活輔導 (D)感化教育。

2 月 17 日

來到少年矯正學校已經 3 個多月了，常常在想以前的行為讓家裡的人傷透了心，之後回家，我一定會改過自新，不再讓奶奶擔心。

() 35. 學校於週會時間邀請兒童福利聯盟文教基金會的執行長對全校師生演講，附圖為其簡報其中的一頁。請問：根據圖片內容，此演講主題應與下列何者最相關？

(A)《性侵害犯罪防治法》 (B)《兒童及少年福利與權益保障法》

(C)《兒童及少年性剝削防制條例》 (D)《消費者保護法》。

◆與兒少性交易

◆販賣兒少猥褻影像

◆製造兒少為性交之光碟

◆利用兒少從事坐檯陪酒工作

題組題：

國內毒品氾濫問題日益嚴重，不少國高中生因為朋友誘惑、一時好奇、追求刺激、逃避家庭及課業壓力，而身陷毒品魔掌。依據《少年事件處理法》規定，少年如有吸食 K 他命、FM2 或一粒眠毒品的情形，給予適當的保護處分，如甲，情節嚴重者甚至可給予隔離式的乙處分。請問：

() 36. 文末所指甲、乙應為下列何者？ (A)安置輔導、感化教育 (B)保護管束、假日生活輔導 (C)訓誡、保護管束 (D)安置輔導、有期徒刑。

() 37. 負責甲、乙的執行者或單位分別為下列何者？ (A)少年法院之法官、少年保護官 (B)少年之家、少年矯正學校 (C)少年之家、少年監獄 (D)少年保護官、少年法院之法官。

阿甘和父親相依為命，但由於父子間關係不好，因此一旦阿甘需要錢，就用偷竊解決，這使得他反覆進出少年觀護所。他在高中時喪父，儘管得以合法打工，但生活仍然困難，雖有社工和朋友的幫忙，依然無法脫離錢不夠用的困境，甚至一直處在借錢的債務人身分。最後他只好回到那習慣的生活方式——偷；「年紀到了」，則到監獄坐牢服刑期。

出獄後，阿甘想對過去的自己說，「可以先尋求幫助，如果真的不行的話，找警察吧！無論如何，我會試著找尋一些新的管道，接受別人幫助，不要走偏。」

與阿甘類似的故事，在少年法院屢見不鮮。我國司法院未來將建置「行政先行」機制，在 2023 年 7 月 1 日後，先由「少年輔導委員會」結合福利、教育、心理、醫療等相關資源，對曝險少年施以適當輔導，如評估確有必要，才請求少年法院處理；故未來將實現行政輔導先行，再以司法為後盾，協助曝險少年不偏離常軌，不受環境危害。

- () 38. 根據上文判斷，阿甘喪父前的違法行為，受到何項法律規範？ (A)刑法 (B)民法 (C)社會秩序維護法 (D)少年事件處理法。
- () 39. 關於阿甘的故事，下列敘述何者正確？ (A)阿甘是生長在隔代教養家庭的環境 (B)喪父前的違法行為屬少年保護事件 (C)高中時與人借錢是受到刑法的規範 (D)短文中「年紀到了」出獄後如再犯罪會被少年法院審判。

因應新冠肺炎疫情升溫，所有自外國入境民眾皆須配合居家檢疫。民眾須留在住宿地點，隨時配戴口罩且不得外出。北市衛生局表示：有居家檢疫之民眾未遵守規定趴趴走，將依《傳染病防治法》裁處罰鍰。請問：

- () 40. 根據文末所述，未遵守居家檢疫規定所應負起的法律責任類型與下列何者相同？ (A)不小心弄壞電影院借用的 3D 眼鏡 (B)開車時手持使用行動電話 (C)欠繳房東半年房租 (D)侵入政府電腦植入病毒。

※歷史 20 題，共 33 分 (41 ~ 47 每題 1 分； 48 ~ 60 每題 2 分)

- () 41. 1958 年中國各地虛報產量的事比比皆是。其中最著名的是河北徐水縣，號稱一年收穫糧食 12 億斤，《人民日報》還報導毛澤東在當地視察時說：「你們全縣 31 萬多人口，怎麼能吃得完那麼多糧食啊？……農業社員們自己多吃嘛！一天吃五頓也行嘛！」實際上當年徐水縣的糧食畝產才 138 斤。請問：當年中國各地的浮誇風是在何種背景下所產生？ (A)土地改革 (B)文化大革命 (C)大躍進 (D)改革開放。
- () 42. 中共歷史上某一時期有一種組織是「求生產力集中，用人海戰術刺激生產，內部集中領導、集合勞動、集體生活，將所有生產、生活資料通通歸公，一切生活所需都由組織供給。」請問：上文的敘述應該是指下列何事？ (A)改革開放後的「世界工廠」 (B)大躍進時期的「土法煉鋼」 (C)「人民公社」的集體勞動 (D)重新分配地主被沒收的土地。
- () 43. 有一個時期「全國為滿足毛澤東的意願，把鋼產量比西元 1957 年增加一倍，提出『以鋼為綱』的口號，號召全民煉鋼。在農村，也修建了土法的煉鋼爐，企圖在田間煉鋼鐵。很多人把家裡的鍋子、鐵器等金屬都捐獻出來，卻由於技術不足，煉成一個個的鐵疙瘩，造成極大的浪費。」請問：上文所述是要達到何種目標？ (A)要打倒違背社會主義的走資派 (B)要推動經濟發展的土地改革 (C)要以武力解放臺灣 (D)要在短時間內趕上英國與美國工業。
- () 44. 下列四幅漫畫是中華人民共和國建立後所發生的四個事件。依發生時間先後順序排列為何？ (A)甲乙丙丁 (B)乙丁甲丙 (C)丙甲丁乙 (D)丁甲丙乙。



- () 45. 幾位同學正在討論中華人民共和國成立的相關歷史。請問：何者說法**不符史實**？ (A)成立於 1949 年，以西元紀年 (B)由中國共產黨一黨專政 (C)建立龐大的國營事業 (D)早期外交大幅傾向美國。
- () 46. 中共的文化大革命，前後為期十年，當初發生的根本原因為何？ (A)推動西化運動 (B)超英趕美 (C)爭取蘇聯協助 (D)發動政爭，爭奪領導權。
- () 47. 「一群青年學生，手持標語，高喊著打破舊思想、舊文化，他們到處砸古董，毀寺廟神像。」這種情形，發生在近代中國的哪一個時期？ (A)大躍進 (B)國共內戰 (C)文化大革命 (D)土地改革。
- () 48. 中共實行改革開放以來，雖然轉型成為世界重要的經濟體系之一，但是許多社會問題也隨之而來。請問：下列何者**並非**目前面臨的問題？ (A)失業率不斷下降 (B)貧富差距極大 (C)人權紀錄不彰 (D)人口性別比例失衡
- () 49. 臺灣受部分東南亞公約組織會員國反對，無法加入該組織，因此美國和臺灣簽訂下列何者，藉以穩定臺海局勢？ (A)《臺灣關係法》 (B)《中美共同防禦條約》 (C)《不結盟運動條款》 (D)《停戰協定》。

- () 50. 小南為了交歷史作業而撰寫越戰的報告，下列的內容中何者錯誤？ (A)美國加入戰局援助北越政權 (B)越南在第二次世界大戰後南北分裂 (C)越南在 1954 年脫離法國殖民統治 (D)美軍因國內反戰壓力而退出戰局
- () 51. 附圖為菲律賓在 1950 年代廣為宣傳的海報，圖中有一名持刀的菲律賓人怒對著某樣東西揮砍。請問：由圖可知，當時的菲律賓，應該和下列哪一個國家較為友好？(A)北韓 (B)美國 (C)蘇聯 (D)越南。
- () 52. 承上題，為表達上題的立場，菲律賓在 1950 年代應加入哪一個國際組織方能應變海報面臨的處境？(A)東南亞國家協會 (B)東南亞公約組織 (C)不結盟運動首腦峰會 (D)蘇聯共產國際。
- () 53. 一份新聞報導提到：「西元 1952 年 6 月 23 日，美國空軍大規模轟炸中國境內的鴨綠江水力發電廠；到了 7 月 11 日時，美國空軍甚至對平壤進行 大規模的轟炸。此事使中國各地掀起了抗議聲討風潮，並發起一波聲援朝鮮的活動。」請問：上述應與下列哪一史事有關？(A)太平洋戰爭 (B)珍珠港事變 (C)韓戰爆發 (D)越戰開打。
- () 54. 中共的發展並不順遂，但在鄧小平主政時期中共開始逐漸穩定。鄧小平一定程度上挽救了中國。請問有關鄧小平的敘述何者錯誤？(A)派兵鎮壓青年學生發起的六四運動 (B)推動改革開放，使中國經濟得以快速發展 (C)發起文化大革命，利用青少年組織紅衛兵奪權 (D)與美國建交，積極參與國際社會。
- () 55. 西元 1966 年，毛澤東針對某個行動講了一段話：「整個○的過程都是同資產階級反動路線較量，現在還在繼續……中國現代史上革命運動都是從學生開始，發展到與工人、農民、革命知識份子相結合，才有結果。這是客觀規律。」請問，根據你的歷史知識判斷，下列哪一敘述與○無關？(A)徹底搗毀孔家店，燒毀「萬世師表」匾額 (B)引發歐美社會不滿現狀的人呼應「砸爛舊世界」 (C)毛澤東去世，十年浩劫結束 (D)中國參加世界貿易組織，積極參與國際事務
- () 56. 冷戰時期，有許多國家抱持不結盟理念。不願捲入美蘇的戰局中。他們強調政治自主、推動彼此的經濟合作，被稱為「不結盟運動」。請問：下列哪一個國家的立場與上述相同？(A)日本 (B)越南 (C)菲律賓 (D)印尼。
- () 57. 西元 1989 年 6 月 4 日北京各大學學生聚集在天安門廣場，中國政府出動軍隊鎮壓。請問這次事件中，知識份子的訴求是什麼？(A)爭取民主自由 (B)反對改革開放 (C)打倒軍閥亂政 (D)反抗列強侵略
- () 58. 1980 年代，中共積極推動「經濟特區」，是為了解決與改善當時的經濟衰退情形，請問：當時中國經濟衰退的主因為何？(A)中共建國初期，實施土地改革失敗 (B)人民公社使民間生產意願低落，糧食產量降低，發生大饑荒 (C)文化大革命造成社會動盪，經濟衰退 (D)土法煉鋼導致過度勞動，經濟日益惡化。



題組：

2020 年 9 月 9 日，某個國際組織會員國的外交部長展開線上高峰會，會議上討論的議題有：中國對南海和平的威脅、美中競逐下與會會員國該如何自保、南海主權歸屬（北京方面宣稱擁有南海主權，但與會國的越南、菲律賓、馬來西亞也擁有南海主權）、朝鮮半島逐漸升溫的緊張關係對經濟的影響。另外會議上越南作為主席，也提醒與會國，新冠肺炎疫情會奪走各國好不容易發展起來的經濟果實。請問：

- () 59. 該國際組織應該是下列何者？(A)不結盟運動 (B)東南亞國家協會 (C)世界貿易組織 (D)東南亞公約組織。
- () 60. 目前該組織積極與鄰近的三大經濟體合作，不包括下列何者？(A)中國 (B)日本 (C)南韓 (D)臺灣。