

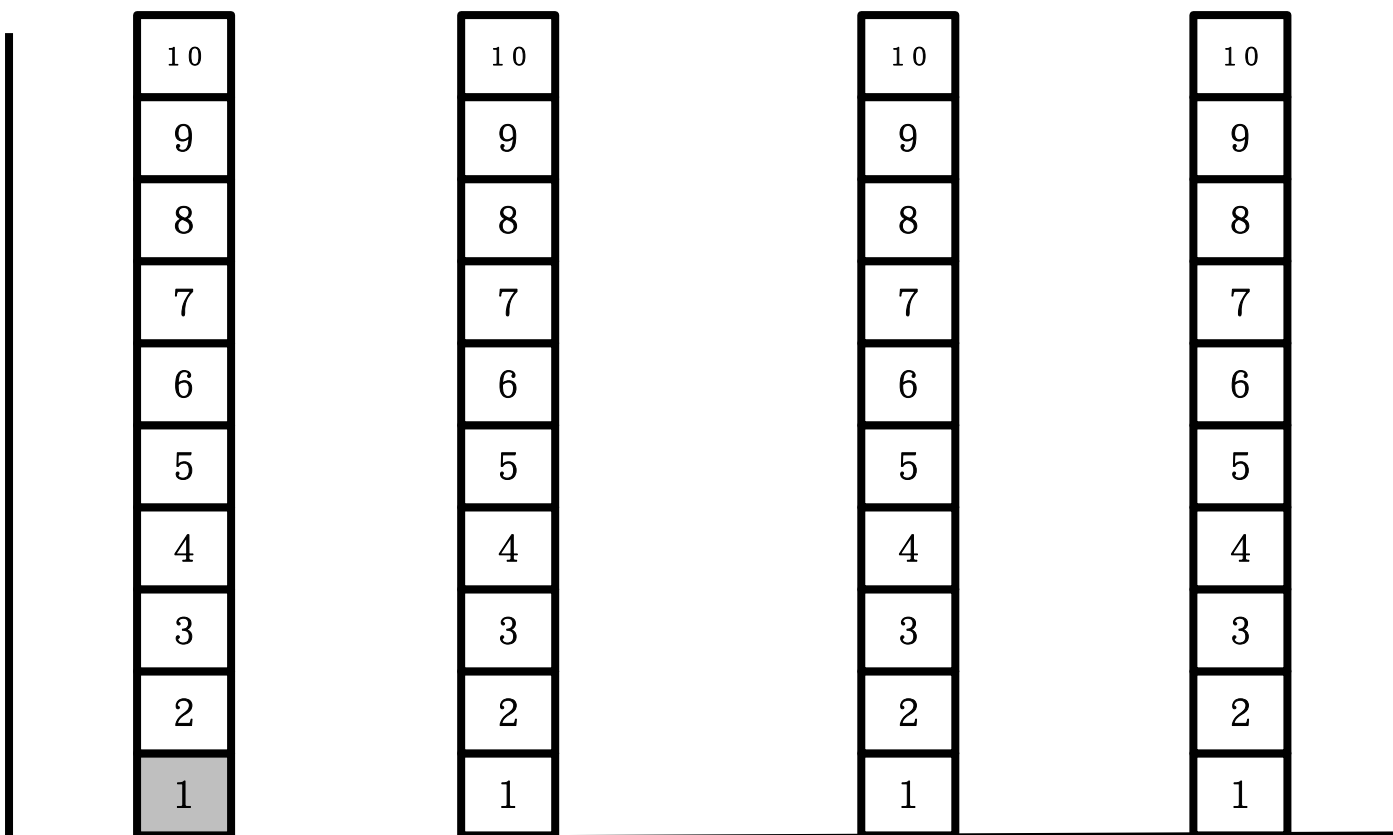



運用圖表整理數學訊息 學習單

一個圖表，圖表幫助我們可以更快瞭解每一個調查問題的結果。這個禮拜，我們就來複習利用圖表來整理蒐集回來的資料吧！

- 企鵝花園裡種了好多不同的花，我想要瞭解每一種花各種了幾朵，請你將資料整理成圖表吧！（計算時，可將已算過的花圈起來，並在圖表上塗一格）



背面還有喔！

《回家功課》

統計圖表完成了，我們就可以看圖表來回答很多的問題，現在就請你來試試看吧！

題號	問題	答案
1	 有幾朵？	
2	 有幾朵？	
3	 有幾朵？	
4	 有幾朵？	
5	花園裡哪一種花的數量最 多 ？ (請把答案圈起來)	   
6	花園裡哪一種花的數量最 少 ？ (請把答案圈起來)	   
7	哪兩種花的數量 一樣多 ？ (請把答案圈起來)	   
進階挑戰： 利用之前學到的 10 以上的加法，再數一數。		
8	 再加上  總共有幾朵？	
9	 再加上  總共有幾朵？	