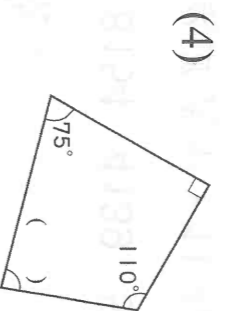
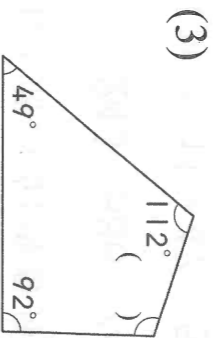
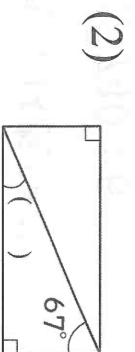
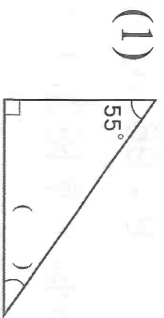


六、算算看，求出下面各圖形 () 裡的

角度：每題 3 分，共 12 分



(4) 王伯伯果園採收 78500 公克的草莓，想每 600 公克裝成一盒出售，最多可裝成幾盒？還剩下幾公克？

(5) 亮亮想把 42 個杯子蛋糕和 28 隻小熊玩偶平分放在盒子裡，每盒的杯子蛋糕一樣多，每盒的小熊玩偶也一樣多，全部分完，最多能分成幾盒？

(6) 學生有 52 個人，進行分組遊戲，每組人數要一樣多且超過 1 組。每組分成幾個人時，可以剛好分完？

(7) 15 的倍數中，最接近 130 的數是多少？

(8) 有一籃水果，大約有七十幾個，每 6 個或每 8 個裝成一盒都可以裝完，這籃水果有幾個？

七、應用題：每題 4 分，共 32 分

(1) 阿哲存了 279 元，阿菊存的錢是他的 583 倍，阿菊存了幾元？

(2) 中秋節快到了，水果行準備柚子禮盒共 55 盒，每盒重 3800 公克，共重幾公克？

(3) 有一個長方形菜園，面積是 6000 平方公尺，長是 125 公尺，寬是幾公尺？