

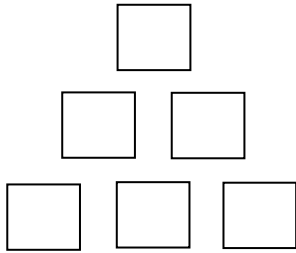
魔法數字塔

___年___班___號_____

◎ 把數字放到金字塔的格子內，讓下一層相鄰的兩個數字和或差，等於上一層的數字，完成後金字塔最上層的數，1 到 10 都有可能。而且解答不只一種喔！！

◎ 以下有許多規定題型，請你試著解解看吧！

1. 請任選六個數字排入金字塔內。



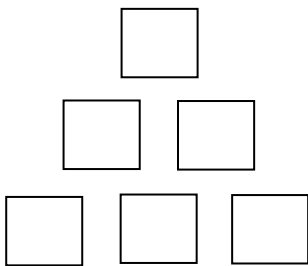
下一層相鄰兩數的和或差 = 上一層的數

$$6 - 4 \text{ (第2層)} = 2 \text{ (第1層)} \text{ (差)}$$

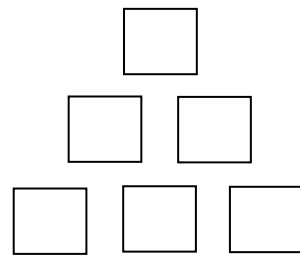
$$5 + 1 \text{ (第3層)} = 6 \text{ (第2層)} \text{ (和)}$$

$$1 + 3 \text{ (第3層)} = 4 \text{ (第2層)} \text{ (和)}$$

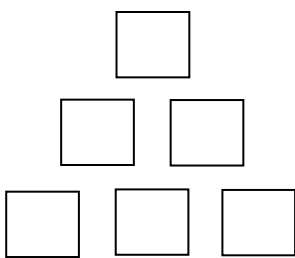
2. 請將 1~6 的數字排入金字塔內。



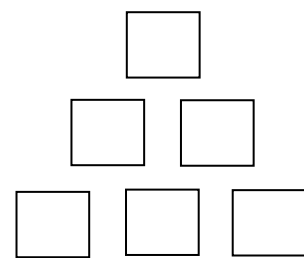
5. 請將 1、2、3、4、7、9 的數字排入金字塔內。



3. 請將 2~7 的數字排入金字塔內。



6. 請將 1、2、3、4、6、9 的數字排入金字塔內。



4. 請將 1、2、5、7、8、10 的數字排入金字塔內。7. 請將 1、4、5、6、8、9 的數字排入金字塔內。

