



一、是非題：每題 4 分，共 32 分

- (X) 1. 子女的姓氏必須跟父親相同，這是華人社會的傳統，不能改變。
法律改訂
- (X) 2. 孝道是華人社會最重視的傳統規範，如果沒有負擔父母的娛樂花費，就會受到法律懲罰。
1. 為落實性別平權，政府已修法讓夫妻可共同決定子女姓氏。
倫理道德。棄養→法律。
- (O) 3. 每個人都應該確實遵守社會規範，打造安定的社會。
- (O) 4. 政府為了維護交通安全，立法規定酒後不得駕駛汽機車。
- (O) 5. 人們可以透過宗教信仰獲得心靈的慰藉。
- (X) 6. 社會規範會約束個人行為，所以應該排斥。
6. 遵守社會規範有助於促進社會安定、和諧，應確實遵守。
- (X) 7. 一般的美國家庭會在感恩節和家人一起享用火雞大餐，是為了遵守政府制定的法律。
7. 屬於長期生活經驗累積形成的風俗習慣。
- (O) 8. 「風俗習慣」是長時間的生活經驗累積而形成的，每個國家的風俗習慣都不大一樣。

二、選擇題：每題 4 分，共 32 分

- (4) 1. 宗教禁止信徒從事某些不當行為的規範稱為什麼？(①定律②法律③規律④戒律)。
- (3) 2. 「芳瑜會到教堂聽牧師講道，每天晚上睡覺前，她也會禱告，祈求心靈平靜。」上述芳瑜的行為是受到哪一種規範的影響？(①風俗習慣②法律③宗教信仰④倫理道德)。
- (1) 3. 駕駛人遇到正在執行公務的救護車卻不禮讓通行就會受到政府機關的處罰，這是下列哪一種規範的制定內容？(①法律②宗教信仰③風俗習慣④倫理道德)。
- (2) 4. 「宗翰的母親生病了，雖然病情不是很嚴重，但是他因為工作忙碌，無法親自照護母親，內心難免感到愧疚！」由上述判斷，宗翰會感到愧疚是受到下列哪一種規範影響？(①法律②倫理道德③宗教信仰④風俗習慣)。

- (1) 5. 阿成在初一時忘記燒香拜拜，較可能對自身帶來什麼影響？(①感到良心不安②無法受法律保護③受到眾人尊敬④獲得心靈救贖)。
- (2) 6. 下列哪一個是遵守倫理道德規範的行為？(①媽媽訓話時跟她頂嘴②打電話問候生病的爺爺③趁父母不在家時欺負妹妹④排擠班上功課差的同學)。
- (4) 7. 社會規範適用的對象是下列哪一個？(①學生②警察③成年人④全體民眾)。
- (1) 8. 下列哪一項是華人社會常見的除夕習俗？(①圍爐②掛香包③猜燈謎④抓週)。

三、小雯正在和同學討論生活中有些不合時宜的規範需要改變，下列是他們列出的檢核表內容，有需要改變的在表格內畫△，不需要的畫○：每格 4 分，共 20 分

規範內容	是否需要改變
1. 廟會遊行時，陣頭隊伍常造成交通阻塞。	△
2. 中秋節全家團聚，一起賞月、吃月餅。	○
3. 傳統婚禮要花許多時間準備，費用也比較高。	△
4. 尊敬長輩，對他們的教誨要誠心接受。	○
5. 清明祭祖焚燒大量紙錢，處理不當會引起火災。	△

四、下列有關社會規範的敘述，正確的在()裡打√，錯誤的打×：每題 4 分，共 16 分

- (√) 1. 社會群體共同認可的行為標準。
- (√) 2. 維持社會秩序的準則。
- (X) 3. 新住民不必遵守規範。全體人民
- (X) 4. 一旦制定了就不會改變。



一、是非題：每題 4 分，共 28 分

- (○) 1. 法律是有強制性的社會規範，具有嚇阻與懲處犯罪行為的功能。
- (○) 2. 兒童及少年福利與權益保障法規範兒童不得過度使用 3C 產品。
- (○) 3. 國民教育法規範，每個人都必須到學校接受國民基本教育。
- (×) 4. 人們可以隨意下載公開在網路上的音樂與影片。4. 下載未經授權的音樂或影片屬於違法行為。
- (○) 5. 15 歲的阿宗可能因為犯罪情節重大而被判以刑事處分。輕罪=保護處分
- (×) 6. 因為法律一旦制定後就不可以有任何改變，所以制定過程嚴謹。6. 可依法定程序進行修正或調整。可以有。
- (×) 7. 半夜大聲唱歌的阿國雖然相當吵鬧，但因為阿國的行為不構成犯罪，所以不會受到法律懲罰。7. 雖不構成犯罪，但影響他人權利的行為仍可能受到法律懲處。

二、選擇題：每題 6 分，共 42 分

- (③) 1. 下列哪一項是國家執行公權力的依據？(①風俗習慣規範②倫理道德規範③法律規範④宗教信仰規範)。
- (①) 2. 政府機關制定國民教育法的主要用意是什麼？(①保障國民五育均衡發展②教化未成年犯罪者③鼓勵民眾生育④防治家庭暴力)。德智體群美
- (②) 3. 「提案」是法律制定的首要步驟，請問下列哪一項不是合乎程序的提案來源？(①立法委員連署②總統申請③考試院提出④人民請願)。
- (④) 4. 13 歲的光遠與同學阿淵發生言語衝突，於是聯合好友一起毆打阿淵，造成阿淵頭部重傷，根據哪一部法律規定，光遠必須接受保護處分以代替刑事處罰？(①國民教育法②中華民國憲法③廢棄物清理法④少年事件處理法)。行政拘留
- (③) 5. 有關「博愛座」的敘述，下列哪一項是錯誤的？(①最早是由北歐國家提出的概念②通常大眾運輸工具上會設置③非明文規定的對象不可以使用④應該讓給身體不適的人優先乘坐)。需要的人生

- (④) 6. 下列哪一種做法可以保障自己與他人的權益不受侵犯？(①參加宗教活動②孝順父母③了解不同國家的風俗習慣④遵守法律)。
- (③) 7. 小倩家的樓上住戶正在進行室內裝潢，有時候半夜施工干擾她睡眠，小倩可以依據下列哪一項法規檢舉樓上住戶？(①環境影響評估法②公平交易法③公寓大廈管理條例④消費者保護法)。

三、下列行為分別會觸犯哪一項法律規範？將符合的代號填入()裡：每題 5 分，共 15 分

- ㄅ. 廢棄物清理法
ㄆ. 道路交通管理處罰條例
ㄇ. 兒童及少年福利與權益保障法

- (ㄆ) 1. 張大哥過馬路不想走人行天橋，直接穿越車道。
- (ㄇ) 2. 阿康伯把店內的啤酒賣給附近小學的六年級兒童。
- (ㄅ) 3. 政哲把不要的家具丟在社區的空地。

四、依下列外國專業人才延攬及僱用法介紹回答問題，選出正確答案，在口裡打✓：每題 5 分，共 15 分

法規名稱	外國專業人才延攬及僱用法
公布日期	民國 106 年 11 月 22 日
制定目的	為加強延攬及僱用外國專業人才，以提升國家競爭力，特制定本法。

1. 在擬訂外國專業人才延攬及僱用法草案後，須交付哪一個機關進行院會討論並表決是否通過？
 ㄅ. 立法院。
 ㄆ. 司法院。
2. 外國專業人才延攬及僱用法於民國 106 年 11 月 22 日由何者公布後才能施行？
 ㄅ. 總統。
 ㄆ. 立法院院長。
3. 這是政府針對何者制定的法律？
 ㄅ. 到日本讀小學的臺灣學生。
 ㄆ. 在臺灣尋職的美國籍碩士。

一、是非題：每題 4 分，共 36 分

- (○) 1. 臺灣的城鄉分布主要受到人口遷移與土地開發等因素影響。
- (×) 2. 因為鄉村與都市的功能、景觀都不相同，所以各自獨立發展，彼此沒有關聯。2. 城鄉發展相互依賴、互補，關係密不可分。
- (×) 3. 日治時期，臺灣的產業型態逐漸從工商業轉變為農業。3. 逐漸從農業轉變為工商業及服務業。
- (○) 4. 近幾年，部分鄉村地區開始發展食品加工業，增加農產品的銷售管道與當地的就業機會。
- (×) 5. 都市地區的居民大多從事農、林、漁、牧等相關工作。5. 都市居民大多從事工業及服務業等相關工作。
- (○) 6. 臺中市政府興建臺中國家歌劇院，提供居民從事藝文活動的場所。
- (○) 7. 政府透過推行「都市計畫」，對都市及其鄰近地區進行整體規畫，滿足各項生活需求。
- (○) 8. 都市地區人口多，土地利用密集，為了增加更多使用空間，逐漸朝地下化發展。
- (×) 9. 都市地區的公共空間不足，幾乎沒有綠地或公園。9. 近年來政府為滿足居民的休閒需求，在都市地區設置許多綠地、公園等休閒設施。

二、選擇題：每題 5 分，共 40 分

- (①) 1. 鄭氏時期，臺灣主要開發的區域集中在下列哪一個地方附近？(①臺南②臺中③臺北④新竹)。
- (②) 2. 小琪和家人利用假日到鄉村參加農夫體驗活動，下列哪一個較不可能是他們會參與的活動項目之一？(①綁稻草人體驗②觀賞外國樂團的大型演唱會③享用割稻仔飯④住在農舍改建的民宿)。
- (④) 3. 人口與產業往都市集中的現象稱為什麼？(①邊緣化②產業化③鄉村化④都市化)。
- (①) 4. 下列哪一個較不可能是鄉村進行社區營造的主要目的？(①鼓勵大學生出國遊學②吸引年輕人返鄉工作③發展地方觀光活動④推廣在地文化特色)。


- (④) 5. 政府利用下列哪一種方式，改善生活機能較差的老舊都市地區？(①都市更名②都市綠化③都市搬遷④都市更新)。
- (④) 6. 都市人口過度集中可能會帶來下列哪一個發展問題？(①交通擁擠②公共設施不足③居住空間狹小④以上選項都有可能)。
- (②) 7. 有關臺灣區域開發的敘述，下列哪一項是正確的？(①由中央山脈往沿海地區開發②由南部往北部開發③由東部海岸往西部平原開發④由南、北部同時往中部開發)。
- (③) 8. 在下列哪一個地方比較容易出現集村的聚落型態？(①可耕種用地多②水源充足③地方治安差④交通設施便利)。

三、下列分別是描述哪一個地區的特色與主要提供的項目？將符合的連起來：

每題 3 分，共 12 分

- | | | | |
|-------------|---|---|---|
| 1. 提供農漁牧產品 | ● | ↙ | ↘ |
| 2. 提供較多就業機會 | ● | ↙ | ↘ |
| 3. 生活機能便利 | ● | ↙ | ↘ |
| 4. 土地利用空間大 | ● | ↙ | ↘ |
| | | ↙ | ↘ |
| | | ↙ | ↘ |

四、下列屬於鄉村常見的景觀在口裡填ㄅ，屬於都市常見的景觀填ㄆ：每題 3 分，共 12 分





一、是非題：每題 4 分，共 24 分

- (○) 1. 東部地區是臺灣原住民人口比例最高的地方。
- (×) 2. 蘭嶼位在臺灣的南部區域，當地以達悟族的傳統文化為特色，發展觀光產業。2. 蘭嶼位於臺灣東部地區。
- (×) 3. 澎湖縣這些年來轉型以觀光產業為主，當地的墾丁國家公園每年都吸引許多遊客前往。3. 墾丁國家公園位於屏東縣。
- (○) 4. 高雄港是臺灣的第一大港，也是南部最重要的國際商港。
- (○) 5. 宜蘭縣早期是泰雅族跟噶瑪蘭族的聚落分布區域。
- (×) 6. 鄭氏時期，在軍隊的積極開墾下，^南北部區域逐漸成為臺灣的發展核心地區。6. 鄭氏時期軍隊屯墾的區域主要在南部地區；北部地區至清領後期才成為臺灣發展核心區域。

二、選擇題：每題 4 分，共 36 分

- (①) 1. 下列哪一個縣市不是位在臺灣北部區域的範圍內？(①苗栗縣②桃園市③新北市④宜蘭縣)。→中部
- (④) 2. 目前臺灣人口最多的縣市是下列哪一個？(①臺北市②臺中市③高雄市④新北市)。
- (②) 3. 有關高雄市的敘述，下列哪一項是正確的？(①有「文化古都」之稱②境內有造船、煉鋼和石化等重工業③臺灣精緻農業最發達的地區④正在發展航空城計畫)。→桃園
- (③) 4. 下列哪一項是臺東縣的農業特色？(①自給自足農業②全外銷農業③無污染農業④化肥農業)。
- (③) 5. 下列哪一項不是中部科學工業園區的主要發展產業？(①光電產業②生物科技產業③石化工業④精密機械產業)。→高雄
- (③) 6. 「花蓮縣的□□□□下游水量充沛，且水質純淨，加上河道陡峻，沿途有激流、漩渦與險灘，是泛舟的好去處。」請問，上述的□□□□應該填入哪一項？(①太麻里溪②南勢坑溪③秀姑巒溪④獅子頭溪)。

- (④) 7. 臺灣最早開發的區域是下列哪一個？(①北部區域②中部區域③東部區域④南部區域)。
- (②) 8. 臺灣唯一不靠海的縣級行政區是下列哪一個？(①彰化縣②南投縣③屏東縣④雲林縣)。
- (①) 9. 臺灣花卉產量最多的縣市是下列哪一個？(①彰化縣②苗栗縣③花蓮縣④屏東縣)。

三、下列關於金門與馬祖地區的介紹內容，正確的在()裡打✓，錯誤的打×：每題 5 分，共 20 分

- (×) 1. 金門列島鄰近臺灣中部區域，隸屬雲林縣管轄。
- (✓) 2. 馬祖列島的聚落多建立在灣岸旁，形成「一村一澳口」的特色景觀。
- (✓) 3. 太武山上刻著「毋忘在莒」的大石，是早期為激勵戰地軍民而設置的字碑。
- (×) 4. 到馬祖觀光時，可以欣賞到融合中西文化的黃輝煌洋樓。

四、下列臺灣著名景點分別位在哪一個縣市？將符合的代號填入口裡：每題 5 分，共 20 分

ㄅ. 南投縣 ㄆ. 臺南市
 ㄇ. 臺北市 ㄊ. 花蓮縣

① 安平古堡	ㄆ	② 太魯閣	ㄊ
			
③ 日月潭	ㄅ	④ 台北 101	ㄇ
			



一、是非題：每題 4 分，共 28 分

- (X) 1. 臺灣山林僅占全島面積的極小部分，可利用的林木資源十分稀少。
1. 臺灣山林面積覆蓋率高，可利用的林木資源豐富。
- (O) 2. 臺灣四面環海的地理特色帶來多樣的海洋資源。
- (X) 3. 清領時期在新竹發現的石油蘊藏量相當豐富，至今仍鑽井開採中。
3. 因蘊藏量不高，早已停採。
- (O) 4. 石油與天然氣是臺灣目前主要使用的能源，絕大部分從外國進口。
- (X) 5. 臺灣的大理石資源蘊藏量有限，現今已無開採活動。
5. 東部大理石礦產現今仍持續開採中。
- (O) 6. 隨著科技進步，人們開始從事深海考古、探勘海洋能源等活動。
- (X) 7. 臺灣西部海岸是落差極大的斜坡地形，因而造就豐富的魚類生態。
7. 臺灣西部海岸的海底地形平坦、寬廣。

二、選擇題：每題 5 分，共 35 分

- (4) 1. 臺灣東部海域有旗魚、鰹魚、鯖魚等多種魚類聚集，利於漁業發展，與下列哪一項因素最相關？(①颱風登陸②菲律賓海板塊擠壓③西南季風吹拂④黑潮常年流經)。
- (4) 2. 臺灣自清領時期就有煤礦開採紀錄，但是由於什麼因素影響，現今已停止開挖煤坑？(①煤源枯竭②開採成本偏高③經常發生礦災④以上選項都是)。
民國 90 停採。
- (1) 3. 經濟價值高的黑鮪魚是宜蘭蘇澳與哪一個地方的重要漁獲？(①屏東東港②臺南七股③嘉義東石④臺東池上)。
- (4) 4. 關於臺灣林業資源的利用，下列哪一個敘述錯誤？(①臺灣總督府修築鐵道開採高山林木②戰後，政府接續經營日治時期留下的林場③現今政府積極造林以維護生態④所有林業鐵路至今仍正常運輸木材)。
民國 80 停止。
- (3) 5. 將漁網張開固定在魚類經常棲息或洄游經過的海域，等待一段時間再收網取得漁獲。請問這種在東部常見的漁法稱作什麼？(①大型圍網②流刺網③定置網④底拖網)。

- (1) 6. 早期，工人在新北瑞芳的復興坑以開採下列哪一種礦產為主？(①煤②銅③銀④鑽石)。
ex: 復興礦坑。
- (2) 7. 西元 1980 年代末期，森林保護議題受到群眾關注，政府因此推行哪一項政策以保護臺灣的林木？(①要求全國企業停止生產木製商品②禁止砍伐天然林③禁止進口木製家具到國內④規定大學校園要栽種高海拔原生樹種)。

三、早期，下列地方分別是哪一種礦產的主要產地？將符合的連起來：每題 3 分，共 9 分

- | | | | | |
|-----------|---|---|---|--------|
| 1. 新北市金瓜石 | ● | ↘ | ● | ㄉ. 大理石 |
| 2. 花蓮縣和平村 | ● | ↗ | ● | ㄎ. 石油 |
| 3. 苗栗縣公館鄉 | ● | ↗ | ● | ㄏ. 金礦 |

四、對於臺灣漁業活動情形的介紹，正確的在()裡打√，錯誤的打×：每題 5 分，共 20 分

- (√) 1. 曼波魚是東部的重要漁獲之一。
- (X) 2. 現今已捕捉不到鬼頭刀。
東部
- (√) 3. 西部沿海地區是臺灣養殖漁業的發展重鎮。
- (X) 4. 烏魚群固定在每年夏季游到西南部海域產卵，許多漁民為了取得烏魚卵會趁此捕捉烏魚。
冬

五、右圖中標示的三處是早期臺灣重要自然資源的三大產地，依圖回答問題，選出正確答案，在□裡打√：每題 4 分，共 8 分



1. 圖中三處在早期是下列哪一種自然資源的主要分布地？
 ㄅ. 林木。 ㄎ. 珊瑚礁。
2. 圖中三處現今被政府規畫作什麼用途？
 ㄅ. 提供民眾進行生態旅遊的遊樂區。
 ㄎ. 只准許研究學者進入的考古遺址保存用地。



一、是非題：每題 4 分，共 20 分

- (○) 1. 日治時期，總督府曾規畫設置國立公園以保護臺灣的自然資源。
- (×) 2. 塑膠製品成本低、重量輕，政府應鼓勵大眾多加使用。^{2. 塑膠製品丟棄後易造成環境負擔，不該鼓勵使用。}
- (○) 3. 參加護樹與淨灘活動都是愛護地球的表現。^{環境汙染}
- (○) 4. 如何在發展經濟與環境保育間取得平衡是政府與民間該重視的議題。
- (×) 5. 政府鼓勵企業多使用再生資源，所以廠商應該回收過期食材，加工製成冷凍食品販賣。^{5. 過期食品不適合回收再販售。}

二、選擇題：每題 5 分，共 30 分

- (①) 1. 臺灣首座國家公園成立於哪一個縣市？(①屏東縣②臺北市③臺南市④臺東縣)。^{9 民那墾丁國家公園}
- (④) 2. 過度重視經濟開發可能會造成什麼問題？(①動物棲息地縮減②礦產資源蘊藏量不斷減少③海洋生態失衡④以上選項都有可能)。
- (③) 3. 下列哪一座國家公園不在臺灣本島？(①陽明山國家公園②太魯閣國家公園③東沙環礁國家公園④玉山國家公園)。^{①高橋市(東沙群島) ②南投縣 ③花蓮縣}
- (②) 4. 下列哪一種做法無法達到垃圾減量的目的？(①將廚餘製成有機肥料②喝瓶裝水取代手搖飲料③用舊玻璃瓶當花瓶，廢物利用④重視保養，延長物品的使用壽命)。^{都瓶子}
- (①) 5. 以稻殼製成的筷子因為具有哪一項特點，與傳統竹製免洗筷相比對環境更友善？(①回收農業廢棄物製成②全程皆為純手工製作③表面平滑美觀④不易被生物分解)。
- (④) 6. 有些縣市的農地因遭到重金屬汙染而被列管，必須接受整治並檢驗通過後才能恢復耕作。請問，上述情況通常是什麼因素造成的？(①居民抽取地下水②政府在河川上游興建水庫③農民採用稻鴨共生的方式種稻④工廠排放汙水)。^{①水污染 ②鴨鴨稻}

三、下列哪些是政府為保護自然生態所做的努力？是的在()裡打√，不是的打×：每題 3 分，共 18 分



- (√) 1. 實施封溪護魚。^{陽明山}
- (√) 2. 推動造林計畫。
- (√) 3. 設立國家公園。
- (√) 4. 復育瀕臨絕種的動物。
- (×) 5. 積極開採石油、天然氣。
- (×) 6. 放寬廢水、廢氣排放標準。

四、下列分別是對哪一個國家公園的介紹？將符合的代號填入()裡：每題 4 分，共 16 分

- ㄅ. 雪霸國家公園 ㄆ. 金門國家公園
ㄇ. 台江國家公園 ㄊ. 玉山國家公園

- (ㄅ) 1. 是臺灣第二高峰的所在地，也是櫻花鉤吻鮭的主要棲息區域。
- (ㄇ) 2. 境內有四處重要溼地，且可以見到位在臺灣島極西點的國聖港燈塔。
- (ㄊ) 3. 境內多高山地形，孕育了豐富的動植物生態，留有八通關古道遺跡。
- (ㄆ) 4. 是臺灣首座位於離島的國家公園，以維護戰役史蹟、傳統聚落等人文資源為主，兼具生態保育功能。

五、下列哪些是落實節能減碳的行為？是的在□裡打√，不是的打×：每題 4 分，共 16 分

①每餐都吃速食	×	②做好垃圾分類	√
			
③短程騎腳踏車	√	④自備購物袋	√
			

一、是非題：每題 2 分，共 16 分

- (X) 1. 現代社會強調個人權益，傳統的倫理道德觀念已經完全不重視。
1. 部分倫理道德觀念仍影響現代人的生活。
- (O) 2. 下載未經授權的音樂是違法行為。
- (O) 3. 國小五年級的家祥到超商幫爺爺買香菸，依據兒童及少年福利與權益保障法，店員應拒絕賣給他。
未滿12歲兒童 12-18歲少年
- (O) 4. 政府透過封溪護魚、復育螢火蟲等做法保護臺灣自然生態。
- (X) 5. 荷西時期，臺灣出現人口和產業快速往都市集中的「都市化」現象。
5. 「都市化」現象在日治時期較明顯。農→工商服務
- (X) 6. 中部科學工業園區是精密工業發展重鎮，有「臺灣矽谷」之稱。
6. 有「臺灣矽谷」之稱的是新竹科學園區。
- (O) 7. 新竹縣與新竹市可以藉由交通運輸系統的連結，增加彼此互動。
- (O) 8. 早期過度砍伐造成原生樹種銳減，政府因此下令禁止砍伐天然林。
民國80

二、選擇題：每題 3 分，共 33 分

- (3) 1. 有關「黑潮」的敘述，下列哪一項正確？
(1) 終年由北往南流 (2) 只流經臺灣西部海域 (3) 黑潮流經的海域易吸引魚類群聚 (4) 黑潮因海面浮著一層黑色油污而命名。
南 北 暗綠色
- (3) 2. 下列哪一項不屬於宗教信仰規範？
(1) 吃素 (2) 到教堂做禮拜 (3) 除夕圍爐 (4) 念誦經文。
以風俗習慣
- (1) 3. 下列哪一個做法對於減少垃圾量與資源消耗沒有幫助？
(1) 砍伐林木製作紙張 (2) 將稻殼加工製成筷子 (3) 回收咖啡渣製成餐具 (4) 將廢棄寶特瓶做成布料。
回收紙
- (2) 4. 法律和其他社會規範的最大不同之處是什麼？
(1) 約束個人言行 (2) 具強制力 (3) 維持社會秩序 (4) 違反者會受到輿論譴責。
- (1) 5. ★屬於臺灣較晚開發的區域，保有多樣自然景觀，該區的原住民人口比例是四個區域中最高。請問，下列哪一個縣市位在★？
(1) 花蓮縣 (2) 澎湖縣 (3) 雲林縣 (4) 桃園市。
以東部 以離島 以中部 以北部

- (4) 6. 下列哪一項不是都市主要提供的服務？
(1) 完善的教育機構 (2) 多樣的工作機會 (3) 先進的醫療設施 (4) 大面積種植農作物的場所。
- (4) 7. 「環境保育」是臺灣重要的發展目標，人們可以透過什麼方式在生活中落實？
(1) 進行垃圾分類與資源回收 (2) 清理沙灘上的垃圾 (3) 以搭乘大眾交通工具代替自行開車 (4) 以上選項都可以。
以鄉村
- (2) 8. 下列哪一位家長的行為違反兒童及少年福利與權益保障法中的規範？
(1) 阿貴不准 4 歲的女兒喝含酒精的飲品 (2) 阿娥叫 5 歲的兒子單獨待在商場的手扶梯旁等候 (3) 臨時要出差的阿鳳請婆婆到家中代為照顧 6 歲的兒子 (4) 阿強禁止 8 歲的女兒睡前玩手機遊戲。
6歲要特別照顧
- (3) 9. 下列哪一個位於南部的縣市開發較早，境內有許多古蹟留存，因此有「文化古都」之稱？
(1) 高雄市 (2) 嘉義縣 (3) 臺南市 (4) 屏東縣。
- (2) 10. 「清領時期曾在苗栗地區發現，便設置機具鑽井開採，現今則需仰賴進口，是相當重要的化石燃料。」請問上述介紹的是哪一種礦產資源？
(1) 銅 (2) 石油 (3) 鐵 (4) 石墨。
- (3) 11. 臺北市是人口密集、經濟發展快速的大都市，在臺北市中不會出現下列哪一個情形？
(1) 休閒娛樂場所多元化 (2) 以都市更新方式汰除老舊建築 (3) 工作人口多從事農、漁、牧產業 (4) 商家朝地下空間發展。
以鄉村

三、下列著名景點分別位在哪一個縣市？將符合的連起來：每題 2 分，共 10 分

- | | | | |
|-----------|---|---|--------|
| 1. 阿里山 | ● | ● | 5. 屏東縣 |
| 2. 八卦山大佛 | ● | ● | 6. 新北市 |
| 3. 淡水紅毛城 | ● | ● | 7. 彰化縣 |
| 4. 鵝鑾鼻燈塔 | ● | ● | 8. 嘉義縣 |
| 5. 北竿島芹壁村 | ● | ● | 9. 連江縣 |
- 馬祖