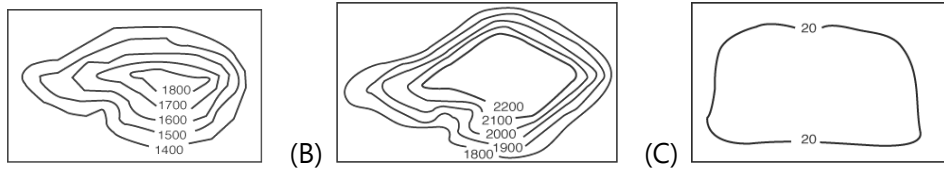


(B)1.下列哪一張等高線圖最能呈現非洲的地形主體？



(B)2.非洲蘊藏豐富的礦物資源，有鑽石、石油、金、煤、鐵、鈾等。請問非洲礦產豐富與該地的何項特色有關？(A)有豐富的動植物生態 (B)為地質古老的陸塊 (C)多數地區為熱帶氣候

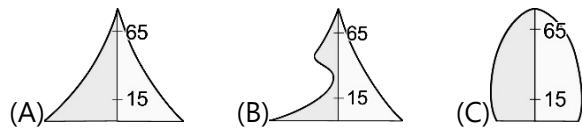
(B)3.小西在百科全書中讀到這段話『這裡因斷層陷落，形成很長的谷地，有地球的傷疤之說。谷地內有許多湖泊，兩側火山活動旺盛.....』，請問小西可能正在閱讀哪一地區的介紹？(A)北非 (B)東非 (C)紐西蘭

(B)4.非洲氣候普遍炎熱，且大致呈現南北對稱分布，請問此特色的形成與非洲哪項特徵有關？(A)兩側濱臨大洋 (B)赤道橫貫中部 (C)本初經線經過

(A)5.由於埃及境內開發了哪條運河，使得船隻不必像過去要繞行非洲南部的好望角，因而縮短歐洲與亞洲往來航行的時間？(A)蘇伊士運河 (B)威尼斯運河 (C)巴拿馬運河

(B)6.非洲部分國家因是由許多不同的族群共同組成，族群複雜，因而造成長期的動亂。請問上述現象的發生與下列哪一因素最有關？(A)地形阻隔 (B)殖民歷史 (C)水源爭奪。

(A)7.非洲是世界人口增加率最高的洲，請問下列哪一張人口金字塔圖最能代表非洲的人口結構？



(C)8.非洲多數國家因出口商品多集中在一兩種產品，而使得經濟易受到國際價格波動影響，請問下列哪一地區的國家在經濟上也有相同問題？(A)南歐(B)北美洲(C)中南美洲

(B)9.非洲沙漠面積廣大，北部有世界最大的沙漠--撒哈拉沙漠，南部有喀拉哈里沙漠、那米比沙漠。請問非洲南北沙漠形成的原因，與下列哪一因素有關？(A)深居內陸 (B)高壓籠罩 (C)地形阻隔

(A)10.小靜利用特休假到非洲某地旅遊，以下為她在某日旅遊日記寫下的紀錄：「這裡的天氣又溼又熱，雨林廣大，生態系豐富，棲息了很多不同的生物.....」。由以上紀錄推測，小靜所到之處為？(A)剛果盆地 (B)亞馬孫盆地 (C)東印度群島

(A)11.小鈞到非洲某地渡假，他觀察到該地居民多為阿拉伯人，信仰與西亞相同，可看到清真寺建築，請問小鈞到了非洲哪一區域旅遊？(A)北非 (B)中非 (C)南非

(C)12.游耕是非洲傳統的經濟活動之一，請問下列何者是它的特色？(A)常見於非洲的乾燥地區 (B)會實施施肥來提高產量 (C)會透過棄耕來恢復地力

(B)13.西非和東非是非洲熱帶栽培業發達的地區，小伊想到當地投資設廠，考量當地的農業資源，請問她應選擇下列何種產業投資較適合？(A)棉紡織烘焙廠 (B)可可加工廠 (C)葡萄酒釀造廠

(A)14.『打不倒的勇者』是一部描述曼德拉總統如何帶領國家改變的電影。曼德拉總統的國家位於非洲，雖擁有豐富的黃金、鑽石等資源，但因過去長期實施種族隔離政策，導致內部存在嚴重的種族衝突與貧富差距現象，深深影響國家的發展。請問曼德拉總統的國家是？(A)南非共和國 (B)埃及 (C)奈及利亞

(C)15.1960年代，埃及在尼羅河中游興建了亞斯文高壩攔截河水，雖然增加了灌溉用水，但是也帶來許多負面影響。請問下列何者『不是』埃及興建亞斯文高壩所造成的負面影響？(A)歷史古蹟被淹沒 (B)農地增加施肥需求 (C)增加水災發生頻率

(A)16.大洋洲是指分布在哪一廣大海洋上的許多島嶼？(A)太平洋 (B)大西洋 (C)印度洋

(B)17.澳洲大分水嶺以東的東南沿海地區氣候溫和多雨，為大都市聚集的地方，如雪梨。請問澳洲東南沿海氣候溼潤與下列哪一因素有關？(A)西風的迎風坡 (B)東南信風迎風坡 (C)東北信風迎風坡

(A)18.如果從臺灣飛往美國紐約，飛越哪個地方可縮短距離，降低飛航成本？(A)北極海 (B)大西洋 (C)中國

(C)19.小珈想利用12月的假期，體驗永夜現象，請問下列哪一地點是最佳的旅遊選擇？(A)35°N (B)80°S (C)75°N

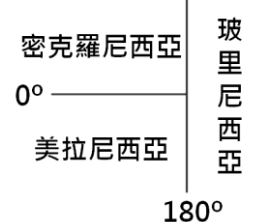
(C)20.北極地區在海、空運輸及資源的地位日趨重要，為世界各國關注的地區之一。請問北極地區的交通與資源對哪一洲的經濟發展實質幫助最小？(A)歐洲 (B)亞洲 (C)非洲

(A)21.南極地區是地球上氣溫最低的地方，請問：是什麼原因造成南極地區的氣溫更低於北極地區？

(A)以2000多公尺的高原為主 (B)地表植批覆蓋率低 (C)距離主要大陸太遠

(B)22.右圖中為大洋洲三大島群的簡圖，請問以下有關三大島群的比較及敘述，何者正確？(A)三大島群多位處中緯度地區 (B)密克羅尼西亞位於北半球 (C)美拉尼西亞距離台灣比較近。

(B)23.紐西蘭因地形豐富，而有活的地形教室之稱，請問在紐西蘭南島常見哪種地形景觀？(A)火山河地形 (B)冰河地形 (C)風蝕地形



- (C)24.下列哪一敘述最適合用來形容澳洲中西部的地表景象？(A)遼闊的莽原 (B)豐富的森林 (C)廣大的乾燥地區
- (A)25.南、北極地區作物難以生長，不利人居，請問此現象與此二區的哪項地理特徵有關？(A)氣候嚴寒 (B)多火山活動 (C)四面環海 (D)氣候嚴寒
- (C)26.紐西蘭位居水半球中心，與其他主要陸地距離甚遠，這項特徵對紐西蘭在經濟發展上造成了哪項負面影響？(A)勞力資源不足 (B)產品加工困難 (C)運輸成本較高
- (A)27.阿超到澳洲自助旅行，他發現公路上有很多有趣的標示，例如「不要用手指戳袋鼠」、「來車請小心鴉鵒」等。請問造成澳洲當地有許多特有種生物的主因為何？(A)位置孤立 (B)氣候乾燥 (C)面積廣大
- (C)28.澳洲與紐西蘭早期為英國殖民地，因此與歐洲貿易往來較密切，但目前貿易重心已逐漸轉往亞太地區。請問澳洲、紐西蘭目前與下列哪一經濟組織的國家往來密切，曾多次參與相關會議及運作？(A)EU (B)NAFTA (C)APEC
- (C)29.台灣在大洋洲的邦交國吐瓦魯，因多數島嶼面積小且地勢低，近年來受暖化影響，國土面臨淹沒危機，居民為求生存，逐漸遷居到其他國家。由以上敘述判斷，吐瓦魯多是由何種性質的島嶼所組成？(A)大陸島 (B)火山島 (C)珊瑚礁島
- (A)30.右圖為澳洲自流井示意圖。澳洲中西部氣候乾燥少雨，因此開發自流井協助產業發展。請問自流井的設置與澳洲何種產業活動有關？(A)牧羊業 (B)鐵礦開採 (C)小麥種植

