

大學入學考試中心
109年試辦考試（適用於108課綱）

社會考科

— 作答注意事項 —

考試時間： 110 分鐘

作答方式：

- 選擇題用 2B 鉛筆在「答題卷」上作答；更正時，應以橡皮擦擦拭，切勿使用修正液（帶）。
- 除題目另有規定外，非選擇題用筆尖較粗之黑色墨水的筆在「答題卷」上作答；更正時，可以使用修正液（帶）。
- 考生須依上述規定畫記或作答，若未依規定而導致答案難以辨識或評閱時，恐將影響考生成績並傷及權益。
- 答題卷每人一張，不得要求增補。

選擇題計分方式：

- 單選題：每題有n個選項，其中只有一個是正確或最適當的選項。各題答對者，得該題的分數；答錯、未作答或畫記多於一個選項者，該題以零分計算。

第壹部分、選擇題（占74分）

說明：第1題至第37題為單選題，每題2分。

1. 某國貧富差距過大，該國政府認為，這是該國房價過度高昂所致。為了抑制房價，該國實施新法，規定凡個人遺產擁有的房屋超過子女自住所需，一律課徵百分之百的遺產稅。假定該國的憲法基本原則與我國類似，下列對此一新法的評論，哪項最適當？
 - (A)憲法雖保護財產權，但人死後並無權利，遺產不屬財產權保障
 - (B)因為該法律有助抑制房價且僅限制特定個人，故符合比例原則
 - (C)繼承遺產為不勞而獲，該法係屬維護社會善良風俗之合憲手段
 - (D)抑制房價有助公益，但政府應考慮是否有侵害權利更小之手段
2. 甲與乙在民國 109 年結婚，婚後約定甲以工作所得支付家庭開支，乙辭職在家，專心操持家務。甲乙兩人依法採用法定財產制。關於甲乙兩人在婚姻存續間的財產關係，下列何者最符合我國民法的規定及其立法精神？
 - (A)因甲支付家庭開支為一家之主，若乙婚後有債務，依據民法甲必須代為償還
 - (B)因乙操持家務無工作所得，基於性別平等，甲應給乙部分婚前財產做為補償
 - (C)甲乙雙方在婚後應仍各自擁有自己的婚前財產，以確保夫妻兩人的權益平等
 - (D)因夫妻須共享財產，故依法甲乙都應該將自己婚後財產改為與配偶共同所有
3. 網路上有人批評現今我國司法常過度保護刑事被告，例如：刑事案件憑社會常理就可以猜到被告有罪，法官卻以證據不足判無罪；法官以自由心證，流於個人主觀與恣意，不管經驗法則；即使罪證確鑿，還是要求經各級法院進行多次審判才能定罪，這樣的制度是浪費國家資源。下列何者最適合反駁上述網路的批評？
 - (A)當案件證據不足，法官應依自由心證來判決被告有罪，而非依社會常理認定
 - (B)當案件證據不足，法官應依法要求被告證明自己無罪，而非依社會常理判決
 - (C)因經驗法則不屬法律原則，法官審判應依自由心證，以遵守依法審判的規定
 - (D)讓案件經過不同審級才定罪，係為透過各級法院多次審理，以防止判決錯誤
4. 世界貿易組織係政府間國際組織，旨在促進全球貿易之自由及貿易規則的可預測性。下列何者為該組織為達成上述宗旨所採取的政策？
 - (A)保護各國發明創作智慧財產權
 - (B)以補助促進各國間之貿易發展
 - (C)避免不公平競爭扭曲國際貿易
 - (D)金援各國扶助產業與金融發展
5. 國健署 2017 年宣布對免稅菸品課徵每包 20 元的健康福利捐，主要目的之一是為了進一步降低菸害帶來的外部成本。下列各項針對特定族群的政府政策中，哪一項的政策效果與前述政策最相似？
 - (A)設置不分區立委的婦女保障名額
 - (B)每週提供國小學童飲用免費牛奶
 - (C)免費提供身心障礙人士復康巴士
 - (D)免費提供高齡國民施打流感疫苗

6-9 為題組

◎ 大新科技總公司設立於美國，其經營特點是零庫存，透過網際網路接受訂貨、即時生產（Just in Time），不經過中盤商而由公司直銷到消費者手中。雖然這種經營方式，可能導致交貨期延長和單位物流成本增加，但該公司卻能克服困難，於 21 世紀初發展成知名的跨國企業，在全球各地廣設生產據點和客服中心，公司總部也根據市場需求不斷研發新產品。

大新的成功與其用人文化密切相關，外文系畢業的臺籍女生吳意文就是其中一例。吳意文第一份工作是電腦公司業務，之後加入大新，受重用成為產品開發部門總監，現長期旅居美國，管理臺美研發團隊。

許多人都好奇，吳意文沒有理工背景，如何帶領研發團隊？但她指出，科技產品的研發趨勢為重視使用者體驗，她的長項在於理解用戶需求，讓研發者不會只著眼於技術突破，使人文與技術有效互補。不過，回首職涯，吳意文也承認，身為一個外文系畢業卻任職科技公司的女生，當初高層要升任她當研發主管時，難免自我懷疑而問道：「我是女的，又是外文系，適合嗎？」但主管的一句「妳為何畫地自限？」讓她獲得更多勇氣。對於自己的跨領域突破，吳意文強調企業用人重視多元，亦即對不同文化背景員工皆能無差別對待，無論所學為何、各種思維觀點，都給予機會發揮才能，是員工可以追求自我突破的重要因素。請問：

6. 根據題文，下列何者不屬於大新公司發展歷程中所需增加配置的資源？
- (A)研發產品的支出 (B)網路銷售的平台
(C)存貨的倉儲設備 (D)國外的分支機構
7. 根據題文，吳意文的所得收入分別對臺灣與美國的國內生產毛額（GDP）與國民所得毛額（GNI）有何影響？
- (A)使臺灣GDP與美國GNI上升
(B)使臺灣GDP與臺灣GNI上升
(C)使美國GDP與美國GNI上升
(D)使美國GDP與臺灣GNI上升
8. 依據題文，該公司用人重視多元，與下列哪項面對不同文化的主張最相似？
- (A)不同文化間的融合，將能引發文化創新
(B)善用不同文化的多樣性，有助技術突破
(C)不同文化群體應被一視同仁，獲得同等發展機會
(D)處境不利群體的文化，應受政策保障以落實平等
9. 性別身分一度對題文主角的職場升遷過程產生影響，下列哪項性別研究的結論最適合詮釋此影響？
- (A)職場存在不合理性別分工常導致女性缺乏資源
(B)社會的性別角色往往影響個人自我實現的追求
(C)同工不同酬使職場存在女性升遷的玻璃天花板
(D)缺乏法規保障致使雇主未能落實多元性別平等

10-11 為題組

- ◎ 某高中的公民與社會課程進行「延伸探究」的小組學習，某小組選定我國近三屆立法院生態及立法委員選舉的主題，撰寫學習報告。表 1 是他們整理的其中一項資料，內容是我國近三屆的立法委員選舉中，不分區立委得票率超過 1% 的政黨及其席次的統計。請問：

表 1

2012 年 (第 8 屆)		2016 年 (第 9 屆)		2020 年 (第 10 屆)	
政黨	得票率 (席次)	政黨	得票率 (席次)	政黨	得票率 (席次)
國民黨	44.55% (16)	民進黨	44.06% (18)	民進黨	33.98% (13)
民進黨	34.62% (13)	國民黨	26.91% (11)	國民黨	33.36% (13)
台聯黨	8.96% (3)	親民黨	6.52% (3)	民眾黨	11.22% (5)
親民黨	5.49% (2)	時代力量	6.10% (2)	時代力量	7.75% (3)
綠黨	1.74% (0)	新黨	4.18% (0)	親民黨	3.66% (0)
新黨	1.49% (0)	綠社盟	2.53% (0)	臺灣基進	3.16% (0)
健保黨	1.24% (0)	台聯黨	2.51% (0)	綠黨	2.41% (0)
		信望盟	1.70% (0)	新黨	1.04% (0)
		民國黨	1.62% (0)	一邊一國行動黨	1.01% (0)

10. 以下是同學們在探究之初擬定的假說，表 1 資料最能夠支持哪項假說？
- (A) 沒有任何政黨可以取得立法院的過半席次
 - (B) 兩個最大政黨合計囊括立法院過半之席次
 - (C) 小黨推出的候選人難以在縣市選區中獲勝
 - (D) 政黨席次分配門檻不利於小黨的政治參與
11. 如果同學們想要進一步瞭解這三屆立法委員選舉選民整體參與投票的情況，下列哪項資料最適當？
- (A) 這三屆立法委員選舉各選區的選舉公報
 - (B) 這三屆投票當日所完成的出口民調統計
 - (C) 這三屆立法委員當選人及其得票率統計
 - (D) 這三屆選舉人數及有效票和無效票總數
- 註：出口民調是指在投票所出口，訪問剛完成投票的選民之投票意向的民意調查。
12. 1945 年 8 月 6 日美軍在廣島投下原子彈後，「廣島縣產業獎勵館」是少數沒有完全傾倒的建築物。戰後，日本政府將該建築更名為「原爆ドーム」(原爆圓頂館，照片 1)。1996 年，聯合國教科文組織 (UNESCO) 特將之登錄為世界文化遺產。這種做法的目的最可能是：
- (A) 歌頌人類發明原子彈的偉大科學成就
 - (B) 展現建築經典於戰爭中仍可屹立不搖
 - (C) 呈現人民追求和平並終結核武的願望
 - (D) 作為二戰同盟國戰勝軸心國的紀念物



照片 1

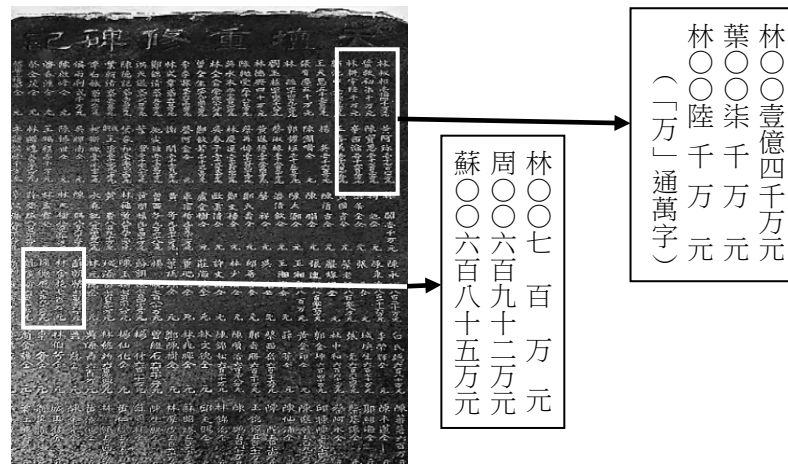
13. 一本研究現代東亞史的書籍《靠不住的伙伴》，書中描述史達林、毛澤東和金日成三位領導者間的複雜關係，例如：披露金日成如何誘使史達林同意他發動「此戰爭」；史達林如何迫使毛澤東參與「此戰爭」；以及金、史兩人在毛背後如何暗渡陳倉。所謂「靠不住的伙伴」，即指三個各懷鬼胎的共黨伙伴。文中所指的「此戰爭」最可能是：
- (A)第二次世界大戰 (B)國共內戰 (C)韓戰 (D)中蘇邊界衝突
14. 日治時期，官方刊印的《太魯閣蕃討伐誌》（1914）、《太魯閣蕃討伐寫真帖》（1915）、《理蕃誌稿》（1921）等出版品，對於1914年「太魯閣事件」的記載，各有其強調的內容與刻意隱瞞的事蹟。儘管如此，從史料的特性來看，下列何者有可能是上述史料的共同記錄？
- (A)起事原因是總督府官逼民反所造成
(B)日本軍警在戰爭過程中的英勇表現
(C)事件後對太魯閣族部落的改造計畫
(D)太魯閣峽谷風景壯麗適合觀光遊憩
15. 日本治臺後，設立新式製糖廠，總督府利用「原料採集區制度」，來確保糖業生產的穩定，卻造成蔗農生活困頓，而有「第一釐，種甘蔗乎會社磅」之俗諺產生。此一俗諺產生與上述制度的關聯性為何？
- (A)採集區內設立糖廠須先向官方申請許可
(B)採集區內種植甘蔗非經許可只用於製糖
(C)採集區內蔗農繳納的稅金高於其他稻農
(D)採集區內種植甘蔗收購價格由糖廠決定
16. 表 2 為「戰後臺灣省遷入、遷出人數統計」，表中 1946、1947 兩年遷入臺灣的人，除部分是中國大陸來臺接收的官員和眷屬外，最多者應是：

表 2（人口單位：萬人）

年別	遷入人數	遷出人數	增加人數	人口總數
1946	2.65	0.83	1.83	609.02
1947	3.77	0.98	2.79	649.51
1948	8.09	1.10	7.00	680.61
1949	37.45	3.68	33.78	739.69
1950	17.94	7.34	10.60	755.44

- (A)來臺協助受降的美軍顧問
(B)國共內戰來臺躲避戰亂者
(C)從各地被遣返的臺籍人士
(D)從南洋戰場回臺的日本人

17. 某同學從事臺南府城歷史考察時，拍下「天壇重修碑記」上的個人捐款(照片 2)，若由此金額來看，此碑設置的年代最可能是：



照片 2

- (A)1910年代西來庵事件爆發之後
(B)1920年代初新式教育推行之際
(C)1930年代末皇民化運動推動時
(D)1940年代末中央政府遷臺前後
18. 「廳」是清代富有特色的行政區劃之一，不同區域所設的「廳」其作用並不相同。雍正、乾隆年間，廳制在「這個區域」的新開疆域、民族聚居等交界地帶推行，目的在加強對少數民族地區的控制。「這個區域」最可能是：
(A)長江三角洲 (B)東南地區 (C)東北地區 (D)西南地區
19. 從臺灣民間信仰發展歷程來看，漢人來臺移墾之初，常會在移居地供奉來自原鄉信仰的特定神明，與其他地區的信仰有所區別。下列哪一神明信仰可以反映這種現象？
(A)玄天上帝 (B)土地公 (C)觀音 (D)清水祖師
20. 十七世紀時，明崇禎皇帝因為當時的曆法對於節氣及日、月蝕等的測定，與實際情況常有很大差距，乃命徐光啟開設曆局，改革曆法。數年後，徐光啟、李天經等人編纂完成《崇禎曆書》。後世評價這部曆書，稱它能「與當時世界天文學同步」。徐光啟等人能夠完成這個艱鉅任務的重要關鍵是：
(A)科舉發達，許多士人都能協助修曆法 (B)來華耶穌會教士協助徐光啟修訂曆法
(C)與日本交流，並參考日本的曆法知識 (D)朝廷派遣留學生，前往歐美各國考察
21. 某國政府認為：國家欲其文明進化，公理彰明，必須逐漸改良制度，停罷科舉，讓國民通曉「國語」及「法國」文字，學課章程的漢字也不偏廢。這是哪一國家的規定？
(A)越南 (B)琉球 (C)日本 (D)緬甸
22. 學校畢旅參訪北港糖廠，解說員介紹糖廠歷史時，特別提及廠房在太平洋戰爭末期曾遭受美軍轟炸，受損嚴重，還有其他地區，像是高雄、屏東、嘉義、彰化及花蓮等地的糖廠也無一倖免。此時，解說員拿出一包白糖作為有獎問答的獎品，詢問同學美軍轟炸糖廠的最主要目的，下列哪個回答最合理？
(A)避免日本將蔗糖運銷到國際市場，賺取外匯
(B)避免臺灣糖廠提供其在太平洋戰區部隊軍糧
(C)摧毀日本利用甘蔗製造酒精成為戰時的燃料
(D)摧毀日本國內蔗糖供應，打擊其戰鬥的信心

23. 某朝政府有鑑於前朝末年社會動亂、人民離散，乃下令清查戶口，登記籍貫、姓名、年齡、丁口、田宅、資產等。同時，命各郡縣核實土田，製成相關圖冊。無論土田、丁口皆歸於戶；並根據田地徵賦，根據丁口徵役。政府也承繼前朝以職業進行分類，將戶分為民戶、軍戶與匠戶等類。這最可能是何時的情況？
(A)唐代 (B)宋代 (C)明代 (D)清代
24. 二次大戰後，美國為防堵共產勢力的擴張，邀集英、法等國共同成立某一國際組織，藉以強化美國在該地區的外交政策。但各成員國的想法與立場並不全然一致，使得此一組織無法有效對付共黨。之後，此地區又出現幾個共產政權，多個成員國陸續退出，最後該組織解散。這個組織最可能是：
(A)國際聯盟 (B)華沙公約組織
(C)華盛頓公約組織 (D)東南亞公約組織
25. 學者指出：某一朝代，士人致力闡揚儒學，推廣宗族組織，強化家族的凝聚力；又建立社倉，提供農民借貸周轉之用。這個時期沒有發生大規模的民亂，成為這個朝代的顯著特徵。這個朝代是：
(A)東漢 (B)唐代 (C)宋代 (D)明代
26. 某地區植被景觀的特色是：「一年生的植物根系很淺，春天偶然降了點雨，立刻蓬勃生長、開花、結籽，在地表乾涸前即完成其生命週期；多年生植物則擁有強大根系，根深和根幅都比株高和株幅大許多倍，側根向四面八方擴展很遠，植株間隔很大。所有植物葉子很小，有的變成棒狀或刺狀，甚至無葉；葉面表皮有的木質化、角質層深厚，有的表層有蠟質層或大量細毛被覆。」出現該種植被景觀的地區，在下列哪個行星風帶分布最廣？
(A)信風帶 (B)西風帶 (C)赤道低壓帶 (D)副熱帶高壓帶
27. 圖 1 是阿根廷北部不同農業類型的分布示意圖。根據圖中資訊，下列哪項推論最為合理？




圖 1

- (A)農業經營的商業性質高低和距海遠近有關
(B)農業機械化程度受到地表坡度大小的影響
(C)農業土地利用的集約度和都市距離成反比
(D)農場規模大小受作物內容或牲畜種類左右

28. 圖 2 為某地區的居民，獲得三種商品或服務的空間移動示意圖。下列有關該地居民空間移動的推論，何者最為合理？

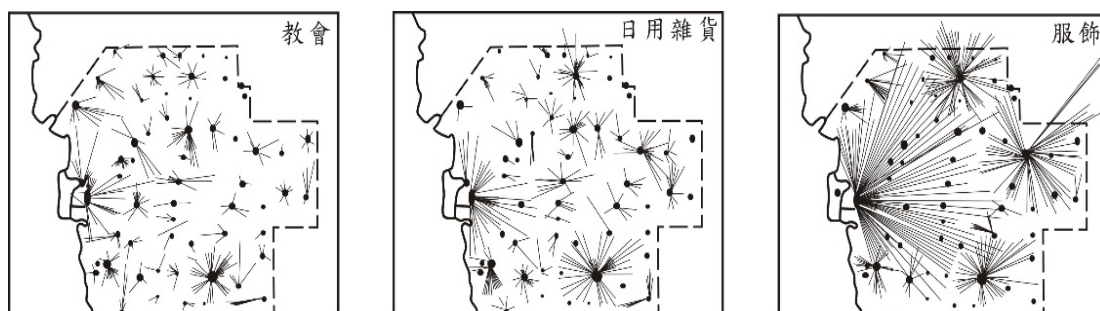


圖 2

- (A) 所獲商品或服務的等級愈高，移動的距離愈遠
- (B) 商品或服務的需求頻率愈高，移動的距離愈遠
- (C) 供應商品或服務的地點愈多，移動的距離愈遠
- (D) 取得服務的移動距離遠於取得商品的移動距離

29-31 為題組

◎ 圖 3 是畫家 George Cuitt 於蘇格蘭西部某一荒島附近寫生後創作的油彩，畫作中展現寫生時的風強浪高，襯映著當地特殊的地形景觀，形成壯闊的構圖。請問：



圖 3

29. 畫家 George Cuitt 前往該島附近寫生的月分最可能是：

- (A) 4月
- (B) 7月
- (C) 9月
- (D) 11月

30. 下列何種地形描述最可能出現在該島嶼上？

- (A) 寬闊深入陸地的海灣
- (B) 滿布乳白石柱的岩洞
- (C) 近似正六角形的石柱
- (D) 隨水流堆積的礫石堆

31. 若要在臺灣找到類似圖 3 中呈現的地形景觀，下列何處最可能符合？

- (A) 龜山
- (B) 澎湖
- (C) 金門
- (D) 小琉球

32-34 為題組

- ◎ 臺灣平原、盆地、丘陵和台地地區的原住民族，一般通稱為平埔族群。分布各地的平埔族群，其維生方式和生活習俗略有差異。圖 4 為某地區平埔族群的住家，住家外圍的椰子、香蕉、波羅蜜等水果，是族人日常採集的對象之一。日常的維生方式，以農耕和狩獵為主。農耕方法是在族社的埔地上：「種禾(陸稻)於園。種之法，先於秋八、九月誅茅(割茅草)，平覆其埔(覆蓋在地面)；使草不沾露，自枯而朽，土鬆且肥，俟明歲三、四月而播。場功畢(收成完畢)，仍荒其地；隔年再種，法如之(方法一樣)。」至於狩獵則以捕鹿為主，是男性專屬的工作，部落禁止私自獵鹿，也不全年獵捕，而是到「秋末冬初」鹿群出現時才共同捕鹿，不濫捕以維持鹿隻的數量。請問：




圖 4

32. 題文所述的平埔族群，最可能分布於下列何處？
(A)臺北盆地 (B)桃園台地 (C)竹苗丘陵 (D)嘉南平原
33. 題文中平埔族群「捕鹿」禁止私獵且在「秋末冬初」進行，原因最可能為何？
(A)鹿的活動力弱狩獵容易
(B)為讓獵物可以繁衍生息
(C)因應天冷增加肉的攝取
(D)荷蘭收購鹿皮多在歲末
34. 題文所述之平埔族群耕種和狩獵的運作方式，可作為下列哪項結論的佐證？
(A)平埔族群順應自然環境的歲時特性，在不同時間分別務農狩獵
(B)平埔族群除狩獵外，也採集魚蝦、通草和水籐等以與漢人交易
(C)平埔族群習將未吃完的陸稻製酒，有客人來常用酒和檳榔款待
(D)平埔族群重生女輕男，家中生女稱「有賺」，生男則嘆「無賺」

35-37 為題組

◎ 1494 年，葡、西為了解決兩國在海上的競爭，在教皇主持下簽訂條約，約定西經 46.5 度以西發現的陸地歸西班牙，以東則歸葡萄牙。依據此條約，西班牙積極向西發展，不僅占有大部分的中南美洲，更將勢力推進到菲律賓與南洋群島，而與東來的葡萄牙發生衝突。十六世紀，西班牙在太平洋開闢大帆船貿易航路，圖 5 是 1564 年從墨西哥阿卡普爾科 (Acapulco) 啟航的海圖記錄。該貿易航路雖因運輸周期長，且自然條件不佳，容易發生海難，但替西班牙帝國創造極為豐厚的利源。從阿卡普爾科輸出白銀、黃銅以及可可等作物；從馬尼拉輸入絲綢、瓷器、棉布、象牙、茶葉等，一趟航程可獲利 5、6 倍，也讓許多亞洲國家獲得相當大的利益，更促成亞、美二洲之間的物種大交換。請問：

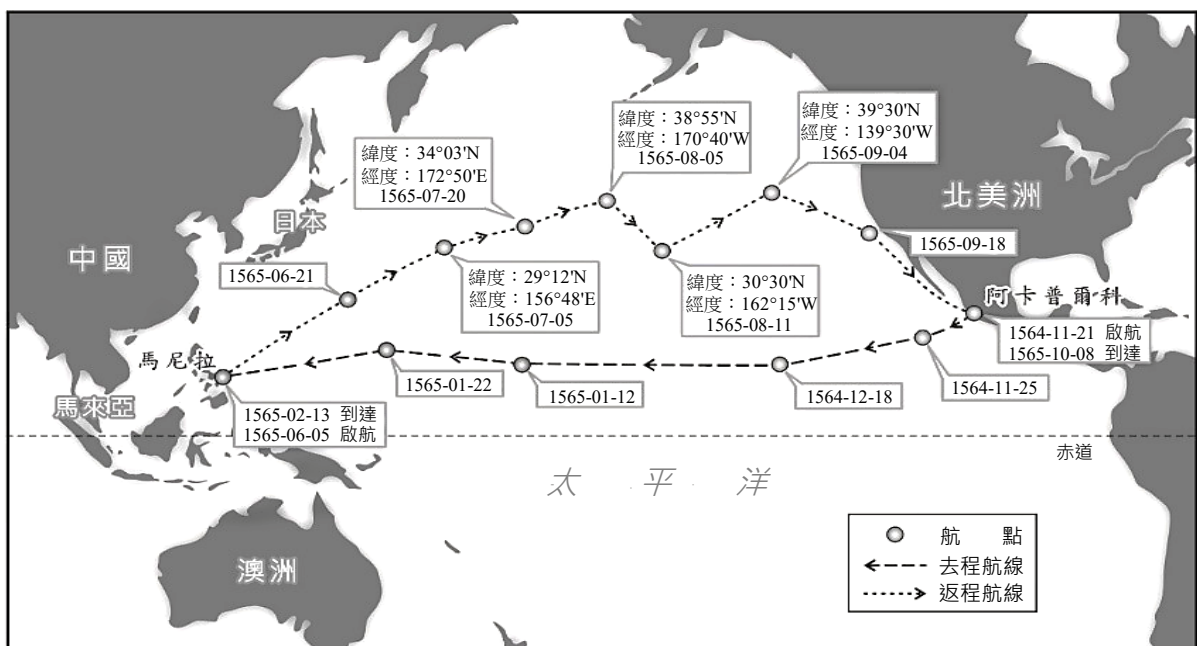


圖 5

35. 導致大帆船貿易航路容易發生海難的原因，最可能為下列何者？
- (A)春、秋季節多濃霧 (B)夏、秋之際多颱風
(C)秋、冬時節多海嘯 (D)冬、春時期多冰山
36. 圖 5 顯示，大帆船從馬尼拉返航阿卡普爾科時的航線，和從阿卡普爾科啟航到馬尼拉的航線不一致。下列何者是導致啟、返航路線不一的最主要原因？
- (A)風系與洋流的性質差異 (B)大帆船載重噸位的大小
(C)進出口商品性質的區別 (D)葡、西海上勢力的劃分
37. 大帆船貿易航路的發展，與下列明、清之際中國哪一現象或發展關係最密切？
- (A)蕃薯等作物引進增加糧食的供應，助長中國人口的增加
(B)大量白銀流入使中國經濟混亂，沿海人民遷居南洋謀生
(C)葡、西火砲引入中國帶來動亂，導致清初頒布「禁海令」
(D)鴉片傳入中國，促進玉石雕刻朝精美鼻煙壺工藝品發展

第貳部分、混合題或非選擇題（占 70 分）

說明：本部分共有 6 題組，選擇題每題 2 分，非選擇題每一子題配分標於題末，限在標示題號作答區內作答。「非選擇題作圖部分」使用 2B 鉛筆作答，更正時，應以橡皮擦擦拭，切勿使用修正液（帶）。請由左而右橫式書寫，否則將酌予扣分。

38-40 為題組

◎ 圖 6 為東亞某地區數值地形模型（DTM）網格資料，上方為北方，此網格解析度長寬均為 10 公里，高程單位為公尺。請問：

8	24	53	217	1106	1177	2104	3249	2970	2293	670
10	24	144	560	550	1375	2184	3283	1962	1671	578
2	41	278	479	1074	2001	2460	2319	2670	1271	550
10	88	91	522	1291	611	2357	2410	1649	969	254
6	29	75	264	418	1576	2484	2157	1687	287	564
19	87	221	277	777	2189	1911	2711	988	173	88
16	72	50	101	185	1674	2189	1249	255	375	
6	82	35	68	714	1785	2079	1904	294	124	

圖 6

38. 圖 6 中最低點與最高點的距離約為多少公里？
 (A) 50-65 (B) 70-85 (C) 90-105 (D) 110-125

39. 依示例在答題卷上標示出主要稜線所在的網格。(2 分)

示例：

4	154	5
6	152	20
41	2	7

40. 若該地區吹起暖濕的西風，導致此地區 1500 公尺以上迎風山區皆壟罩在雨區之中，請從圖 6 網格資料估算此地區的雨區範圍，在答題卷上作答此雨區範圍面積並以 50 字內說明估算過程或理由。(4 分)

41-45 為題組

- ◎ 社會領域課程進行「問題探究」分組學習，某組同學蒐集到下列資料：
甲同學蒐集的是世界咖啡豆主要產地的分布圖（圖 7）。

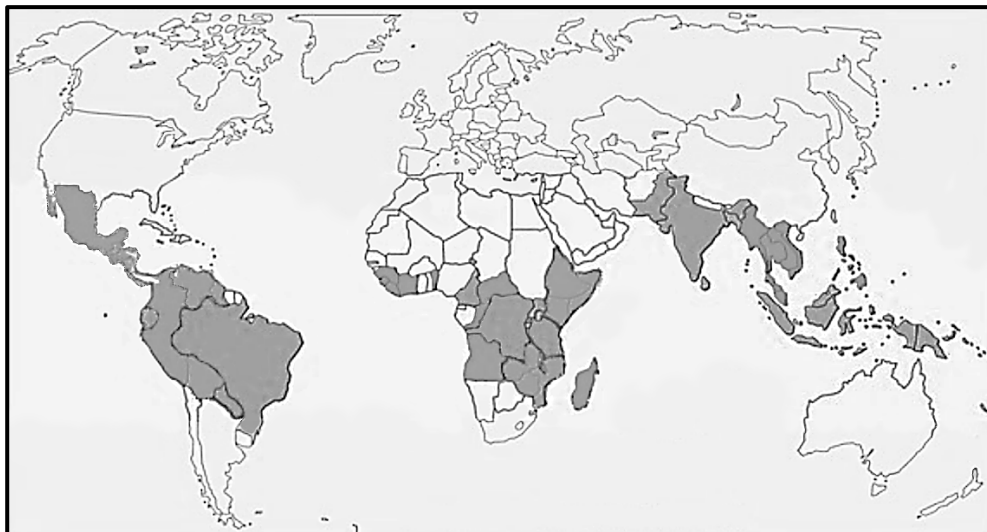


圖 7

乙同學蒐集到一份咖啡產地和消費地的咖啡價格資料：

「生產國的出口商，向農民收購咖啡豆的價格是 1 公斤 1-3 元新臺幣，但出口報價平均 1 公斤 80 元。消費國的進口商進口咖啡豆並製成熟豆後，1 公斤可賣 890 元。而咖啡館 1 公斤豆子可煮出 55 杯咖啡，市場價格 5500 元」。

丙同學蒐集到一篇巴西咖啡生產勞動的調查報告：

「咖啡栽培過程存在童工與奴工現象，其中巴西童工比率更高於其他產地。童工年齡小至 5 歲，每天工作 8 至 10 小時，工資極低，且經常發生接觸農藥而中毒等事件。儘管巴西法律禁止雇用童工，但咖啡產業的童工問題一直存在，童工長大組成家庭後，其子女也多為童工，形成貧窮的世代循環。此外，巴西也屢屢查獲咖啡農場的奴工事件。2011 年國際勞工組織發表的《巴西農奴的主因》調查報告顯示，被逼為奴的農工多來自貧窮地區，被人力仲介以不實待遇誑騙，到農場後才發現業主僅提供不到最低工資一半的薪水，且食宿費用極高，品質也惡劣，以致農工根本拿不到錢；若農工打算離開，即遭仲介毒打。巴西雖於 1888 年廢除奴役制度，任何奴役行為皆屬不法，但奴役現象依舊存在，只不過換了新面貌」。

請問：

41. 根據圖 7 提供的資訊，可推論咖啡作物偏好下列哪項生長環境條件？
- (A)灌溉系統發達的區域 (B)年溫差與日溫差明顯的區域
(C)日照充足風向穩定的區域 (D)氣候炎熱年雨量豐沛的區域
42. 丙同學蒐集的調查報告，最適合作為以下哪項主張的支持論證？
- (A)巴西咖啡栽培業與其農民被殖民成為奴工的歷史緊密結合
(B)巴西咖啡產業仍存在勞動剝削，違反社會永續發展的理念
(C)國際非政府組織致力稽查巴西咖啡產業的童工和奴工問題
(D)巴西政府亟需立法解決咖啡產業的童工和奴工等相關問題

43. 根據咖啡產地和消費地的價格資料，顯示咖啡生產國和消費國之間，存在下列何種關係？
- (A) 咖啡豆全球貿易的垂直整合
 - (B) 產品加工技術的擴散與模仿
 - (C) 咖啡栽培業的國際勞動分工
 - (D) 不平等交換的利益分配不均
44. 從上述同學蒐集的資料判斷，該學習小組探究的問題最可能是下列何者？
- (A) 巴西經濟與咖啡的發展史
 - (B) 殖民地式經濟與勞動剝削
 - (C) 咖啡產銷與環境生態保育
 - (D) 熱帶作物栽培與殖民擴張
45. 圖 7 中位於中南美洲或非洲的咖啡生產國，多因殖民影響，形成國內首要都市的規模常遠大於其他都市的特徵。若將上述都市特徵以「都市規模」與「累加人口比例」呈現，請於答題卷上繪出其關係圖。(4 分)

46-50 為題組

- ◎ 2019 年底武漢爆發新型冠狀病毒引發的急性呼吸道傳染疾病，並向世界各地擴散，隨即引起國際組織和各國高度關切。

世界衛生組織 (WHO) 立即召開防疫會議，起初拒絕我國參加，後來疫情擴散嚴重以及多國聲援，最終同意我國以「臺北」名義透過線上參與防疫專家論壇。聯合國的國際民航組織 (ICAO) 也拒絕將我國納入與疫情爆發有關的航空旅行後勤計劃，而引起一些國家對我國產生誤解。

隨著疾病擴散迅速，許多國家居民感到恐慌，且浮現排華心理以及相關衝突事件，甚至各國媒體也出現對華人的歧視語言。有美國媒體對此現象分析指出：中國崛起為全球經濟和軍事強國，引發亞洲鄰國以及西方大國人民的不安，而對疫情的恐懼，則更加放大了人們對中國的潛在敵視。這說明仇外情緒常與政治和經濟之對峙相關。

為有效抑止疫情擴散，我國政府依法對感染高危險群採行居家隔離、居家檢疫、集中檢疫或其他必要措施；但卻有民眾違反居家隔離或檢疫的管制規定，逕自離家外出，因而遭處罰鍰。由於國內防疫物資不足，政府除積極擴增口罩產能外，也依《傳染病防治法》之規定，徵用廠商生產的口罩並給予補償，於 2020 年 2 月起，透過健保藥局實名配售。許多民間網友則發揮防疫動能，設計「藥局口罩網路即時地圖」，使用線上地圖作為底圖，在地圖上使用不同顏色標示各藥局的口罩供應現況是售完、量少或充足，方便大家上網查詢，減少民眾到藥局排隊買口罩的奔波之苦。請問：

46. 依據題文資訊，思考此次疫情涉及的全球化與國家治理問題，下列哪項詮釋最適當？
- (A) 傳染疾病的全球擴散顯示國家領土疆界的重要性下降
 - (B) 傳染疾病的擴散凸顯國家與國家的互動關係日益重要
 - (C) 控制傳染疫情有賴各國政府和國際非政府組織的合作
 - (D) 參與全球防疫工作與國際組織會員身分問題具有關連

47. 網友協作的「藥局口罩網路即時地圖」，大為減少民眾購買口罩的奔波之苦。下列何種情境最適合採用這種由網民協作的即時地圖？
 (A)展示校園內各種植物的空間分布 (B)旅遊時搜尋當地熱門的網美餐廳
 (C)突發性的公安事件分享救災資源 (D)分析某種癌症是否有群聚的特性
48. 題文提及政府徵用廠商口罩之政策，從行政法原理原則的角度來看，下列哪項評論最適當？
 (A)政府徵用口罩對權利限制較小，無須考慮是否違反比例原則
 (B)政府徵用口罩的政策符合法律規定，並不違反法律優位原則
 (C)因政府徵用口罩未經過總統下令授權，故違反法律保留原則
 (D)政府徵用口罩以致廠商無法販售口罩，故違反信賴保護原則
49. 題文中美國媒體對於「為何疾病恐懼伴隨出現歧視」之現象提出分析，其凸顯出的全球議題最可能為下列何者？請勾選一項並簡要摘述題文做為佐證。（請在答題卷上作答；未勾議題者，此題不予計分）（4分，限30字內）

凸顯的議題（請勾選一項）	佐證題文之摘述
<input type="checkbox"/> 疾病致死率升高導致的排華現象 <input type="checkbox"/> 媒體推波助瀾下的東西文化衝突 <input type="checkbox"/> 大國競爭下引發的種族主義現象 <input type="checkbox"/> 媒體再現中存在的種族刻板印象	

50. 若某甲自疫區入境卻違反檢疫規定逕自外出，其逕自外出的個人成本線如圖 8 所示，圖之橫軸為逕自外出時間長短，縱軸則為所引發之個人成本高低。請在答題卷的圖中，繪出因某甲逕自外出所相對應產生的社會成本線。（4分）

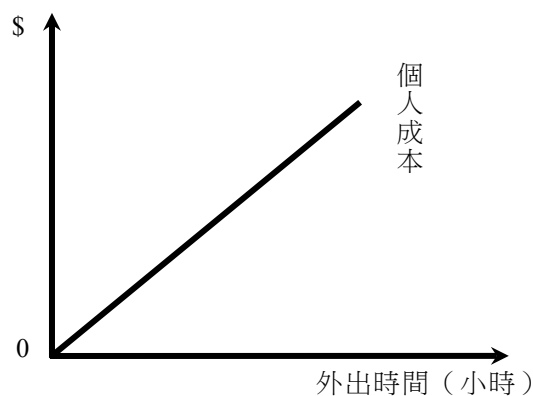


圖 8

51-53 為題組

- ◎臺灣的地理位置在清帝國眼中具有「屏障」的角色，1683年施琅以「臺灣地方，北連吳會，南接粵嶠，延袤數千里，山川峻峭，海道迂迴，乃江（江蘇）、浙（浙江）、閩（福建）、粵（廣東）四省之左護」為理由之一，主張留臺。1894年，甲午戰爭爆發，次年，清廷戰敗，和日本簽訂馬關條約，將臺、澎「永遠讓與日本」，臺地紳民不服，成立臺灣民主國希望繼續能作清帝國的「屏藩」。

民主國成立時，「總統」或「紳民」不時發表「惟是臺灣疆土，荷大清經營締造兩百餘年，今須自立為國，感念列聖舊恩，仍應恭奉正朔，遙作屏藩」、「臺灣者，吾臺人之所自有，何得任人之私相授受？清廷雖棄我，我豈可復自棄耶！」等慷慨言論以爭取同情。但學者對民主國成立的動機和性質有諸多評論，認為民主國的民眾基礎甚為薄弱，只是晚清的官吏企圖在西方政治制度的外衣下，繼續保有自己的權力。請問：

51. 依據題文所提供的資訊，有關臺灣民主國成立的推論，下列何者最為合理？
- (A) 自立為國是手段，回歸清朝是目的
 - (B) 回歸清朝是手段，自立為國是目的
 - (C) 追求民主是手段，臺人自主是目的
 - (D) 臺人自主是手段，追求民主是目的
52. 施琅提及臺灣是大清帝國四個省分的「左護」。請依示例（圖 9）在答題卷上，從大清帝國的首都往外畫上箭頭，標出施琅是以哪種方向為視角描述臺灣與這四個省分的相對位置。（2 分）

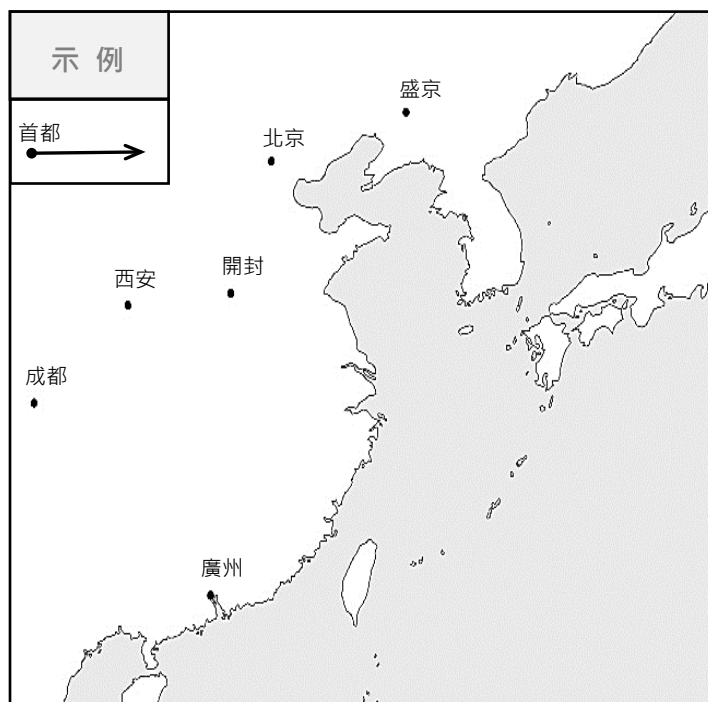


圖 9

53. 從法理的角度思考，臺灣民主國應屬於清領時期或是日治時期？請勾選一個歷史分期並簡要說明判斷的理由。（請在答題卷上作答；未勾選分期僅說明理由者，此題不予計分）（4 分）

歷史分期	理由
<input type="checkbox"/> 清領時期	
<input type="checkbox"/> 日治時期	

54-56 為題組

- ◎ 屏東平原除沿海低濕沼澤帶外，大致從潮州斷層線向西至高屏溪岸，依次區分為沖積扇帶、扇端湧泉帶、沖積平原帶三個地形區（圖 10）。康熙 61 年（1722）朱一貴事件後，政府將其規劃為守隘平埔族人、粵人漢移民和閩人漢移民的維生空間。

但在嘉慶年間，古令埔（今屏東東港溪上游）曾發生過土地糾紛。古令埔原為守隘平埔族人的屯耕區，閩人楊茂卻向官府申請開墾，遭到粵人鍾麟江等人的抗議。鍾麟江申訴的理由為：「該地若經楊茂開墾，倘有意外，粵人將前無生路，後無退門，故呈請禁墾。」後經官府宣判並立碑公告：「該處古令埔永禁開墾，但准社番自行墾耕；不許假借其他名號抽租，亦不許圍莊，閩、粵人等不得侵佔滋事。」

從這樁土地紛爭，可看到屏東平原土地變遷的歷史，也可觀察到清朝政府利用空間來進行族群治理的特性。請問：

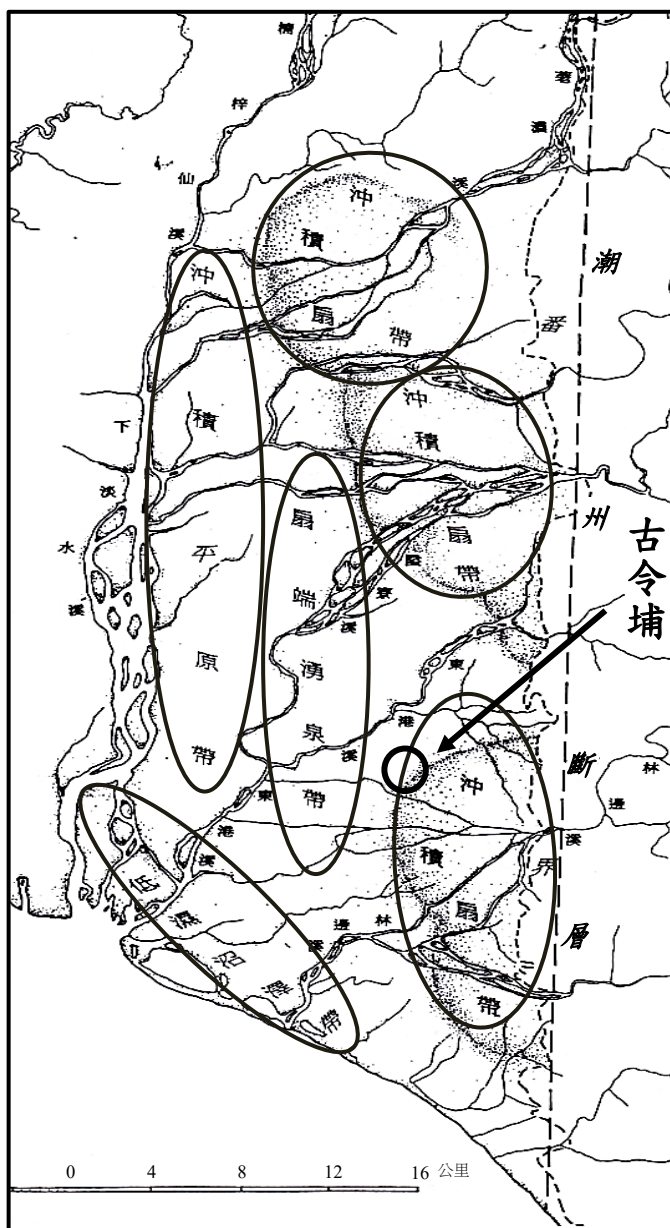


圖 10

54. 康熙 61 年巡臺御史黃叔瓚有詩云：「蔗田萬頃碧萋萋，一望龍蔥路欲迷。」該詩句描述的景觀最可能出現在題文中哪個地形區？
(A)低濕沼澤帶 (B)沖積平原帶 (C)扇端湧泉帶 (D)沖積扇帶
55. 依據題文資訊，清朝政府利用空間來進行族群治理之特性為下列何者？
(A)分而治之的族群政策 (B)族群融合的邊疆治理
(C)分層課稅的土地管理 (D)一田多主的土地制度

56. 從古今埔的土地糾紛來看，清朝官府對「熟番」地權採取保護的態度，請在答題卷上舉出一條證據並說明理由。(4分)

證據	理由

57-61 為題組

◎ 近代以來，殖民者為了強化統治，常對殖民地進行許多調查，例如日本在 1905-1940 年間，對臺灣進行過 7 次人口調查，並建立完整的戶籍制度。圖 11 為臺灣某一家庭在此時期的戶籍資料；圖 12 為該資料的放大圖。其中種別欄的數值，可隨戶口實查而更動；其餘欄位記載的內容，如表 3 所示。某社會學者曾評論：殖民者藉由蒐集資料建立適合當地的規範，並藉此進行嚴密監視，讓任何犯罪與違法都能受到懲罰。一位學者甚至形容：在日本統治下，臺灣很可能是全世界被最徹底調查的殖民地。請問：

圖 11

表 3

種族	分為福(福建)、廣(廣東)、生(生番)、熟(熟番)四種
種別	分三類：一是官員或良善者；二是一般人；三是有前科或受禁錮者。各因其類別，依序須每隔一年、六個月、三個月，接受警察實查調整註記。
不具	有關身體傷殘的註記，主要有聾(啞)、盲、痴、瘋四種
種痘	註記天花疫苗的接種次數與罹患概況

事	山	事	所 住 現
斗六廳海豐堡生厝庄百六拾貳番地吳()妹慶 應七年壹月一日婚烟入戶 光緒廿九年三月一日死亡		斗六廳海豐堡海口厝庄五百貳拾九番地林()烟作 光緒廿九年八月廿日分戶	斗六廳海豐堡海口厝庄五百貳拾番



斗六廳海豐堡生厝庄百六拾貳番地吳()妹慶 應七年壹月一日婚烟入戶 光緒廿九年三月一日死亡	斗六廳海豐堡海口厝庄五百貳拾九番地林()烟作 光緒廿九年八月廿日分戶
---	--

足 纏	吸食	阿 片	族 種	足 纏	吸食	阿 片	族 種
纏			福				福
痘 種	具 不	別 種	痘 種	具 不	別 種	痘 種	具 不
	一		一	天	盲		一



足 纏	吸食	阿 片	族 種	足 纏	吸食	阿 片	族 種	地 現住所
纏			福				福	
痘 種	具 不	別 種	痘 種	具 不	別 種	痘 種	具 不	
	一		一	天	盲		一	
妻				主 戶				
月 生 年	姓 名	眼 睛	無 刺 刺	母 父	月 生 年	姓 名	無 刺 刺	母 父
光緒廿九年九月廿四日	吳 氏				天保拾叁年七月八日	林 烟作		
			男 生 出	三 女			男 生 出	長 男
								光緒廿九年八月廿日分戶

圖 12

57. 戶籍資料顯示，林○以從事「畑作」（旱作）為業。他從事旱作農業的原因，和當地哪項環境特性密切相關？
- (A)乾濕季節分明 (B)颱風登陸頻仍
(C)耕地起伏不平 (D)夏季日照強烈
58. 從題文中社會學者的評論來看，殖民者在殖民地建立社會規範的功效，最可能為下列何者？
- (A)殖民者透過規範確立懲罰機制，維護社會倫理
(B)以規範進行社會控制，實現殖民者的統治目的
(C)從殖民母國的脈絡建立社會規範，將更具功效
(D)落實規範使殖民地信任殖民母國，能穩定人心
59. 若學生收集與圖 11 同類型的資料，加以整理判讀後，可作為下列何項「問題探究」的資訊？
- (A)傳統聚落的人口組成 (B)居民宗教信仰的分布
(C)聚落人口規模的變遷 (D)城鄉之間的人口移動
60. 以聯合國推動的普世人權理念來看，圖 12 與表 3 所顯示的人口普查項目規範，部分並不合理。下列何者最可能是「違反」人權理念的普查項目及理由？
- (A)「種族」：不應強化族群的刻板印象引發種族歧視
(B)「種別」：不應以此資訊作為依據而形成差別對待
(C)「不具」：不應形成貼標籤效應進而引發群體偏見
(D)「種痘」：不應蒐集個人醫療資訊導致侵犯隱私權
61. 日治時期的戶籍資料可以作為探究哪些課題的佐證？請參考圖 11、12 的內容，在答題卷的表格作答。（4 分）

可探究的課題	可作為證據的理由
例：臺人的壽命探討	例：可從戶主或妻的「生年月日」和「事由」中死亡日期計算得知
總督府眼中的臺人陋習	
	「種族」欄中有「福」的註記，可知該戶主和妻子的祖籍為福建

62-63 題為非選題

62. 我國對於少年刑事案件在司法程序上，與一般刑事案件有所差別。其中一個差別在於，少年刑事案件更為重視保護涉案少年的個人資料。依據法律規定，媒體在報導少年案件時，不得讓社會大眾得知涉案少年是誰；審理過程中，非與少年相關人士原則上不可在法庭內旁聽；同時政府機關也應該保密或銷毀涉案少年的犯罪紀錄。請依據「兒童權利公約第 10 號一般性意見」的精神，在答題卷的表格中勾選一項上述規定之目的，並說明該目的對兒童及少年保護的意義(4 分，限 50 字以內；「規定的目的」和「對兒童及少年保護的意義」須同時作答始計分)。

規定之目的（請勾選一項）	該目的對兒童及少年保護的意義
<input type="checkbox"/> 尊重隱私 <input type="checkbox"/> 公正審理 <input type="checkbox"/> 程序正義	

63. 在公民與社會的課堂上，老師提問：為什麼我國公民的效忠對象應該是國家而非統治者？以下是二位同學的回答，哪個回答最合理？請在答題卷的表格中勾選一項，並寫出據以判斷的理由（4 分，限 50 字以內；「最合理的回答」和「判斷的理由」須同時作答始計分）。

最合理的回答（請勾選一項）	判斷的理由
<input type="checkbox"/> 我國是民主國家，統治者常因選舉而更迭，難以作為公民效忠的對象 <input type="checkbox"/> 我國採行民主共和的制度，國家的建立與運作並非以統治者為依歸	