

一年級地理科補考題庫

(B)1.下圖(三)為某城市商業區的位置分布圖。請問位於(2, B)的是哪一個地點？(A)7-11 (B)公園 (C)無印良品。

	1	2	3
A	銀行	藥局	小北百貨
B	7-11	公園	全聯
C	NIKE專賣店	無印良品	異人館
D	新光三越	貴族世家	一蘭拉麵店

(A)2.下圖是 702 班的教室座位表。就讀 701 班的小恩跟班上同學玩猜猜樂遊戲，他說：「我在 702 班的好友坐在協志的西南方、依林的北方」，請問小恩的好友是哪一位？(A)黎明 (B)若瑄

德華	若瑄	協志	富城
王菲	黎明	杰倫	啟賢
曼玉	依林	心凌	丞琳

(C)3.位置的表示方法有絕對位置與相對位置，下列哪一敘述是運用「絕對位置」的表示方法？(A)省躬國小位於萬年殿旁邊 (B)彥文教官站在學務處前方走廊 (C)南寧高中位於台南市南區萬年路 167 號。

(A)4.本初經線是一條相當重要的經線。請問：下列對於本初經線的敘述，何者正確？(A)為南北向的線 (B)為 90 度經線 (C)通過美國紐約。

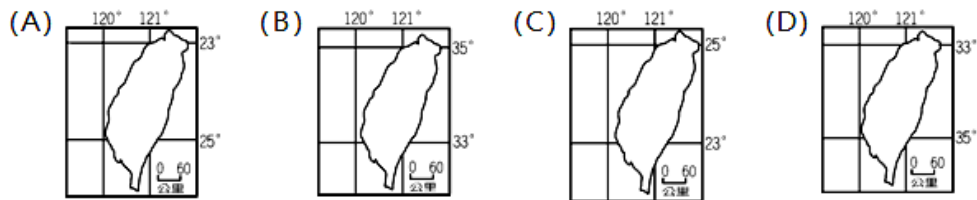
(C)5.小婉夢想能開飛機繞行地球一圈，若小婉以同樣速度在下列緯線中飛行一圈，請問繞行何者所需花的時間最少？(A)0 度緯線 (B)北緯 30 度線 (C)北緯 50 度線。

(B)6.「印尼為國土跨越南北半球的國家，氣候炎熱」，由此句話可知下列哪一條重要的經緯線通過印尼？(A)本初經線 (B)赤道 (C)北回歸線。

(A)7.每年到了 12 月 31 日這天，世界各重要城市會舉辦大型的跨年晚會活動，活動最高潮往往是在倒數計時迎接新的一年來到的時候。但台灣台北、澳洲雪梨、美國紐約、英國倫敦倒數計時的時間並不一致，造成這種時間差異的原因為何？(A)經度位置不同 (B)緯度位置不同 (C)文化習俗不同。

(A)8.小先住在自由國，他打算於元旦假期開船到快樂國度假。小先想知道從自由國到快樂國的距離約有多遠，要預估開船所需花費的時間，卻發現在手邊的 2 張地圖上，測量出的兩國距離分別為 2 公分與 5 公分，長度不相同。請問造成此種差異的原因與地圖的何種要素不同有關？(A)比例尺 (B)圖例 (C)方向標。

(C)9.台灣島在東經 120~122 度，北緯 22~25 度之間。下列為四張經緯度位置不同的臺灣地圖，哪一張圖正確的表達了台灣島範圍？



(A)10.下圖為學者對於臺灣櫻花鉤吻鮭的形成推論。請問：在冰河時期過後，隨著融冰的變化，臺灣和亞洲大陸之間出現哪一個海域，使得兩地隔離，於是台灣島形成了獨特的生態環境？

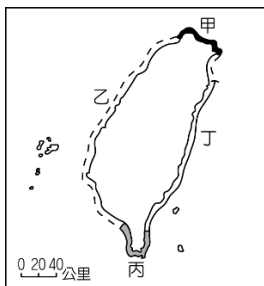
(A)臺灣海峽 (B)東海(C)太平洋。



(C)11.台灣因與周圍國家有經濟海域重疊的問題，使得台灣漁船在台灣周圍海域進行捕魚時，容易與周圍國家產生糾紛，常傳出被扣押或追捕事件。請問通常國家所界定的經濟海域範圍為多少哩？ (A) 12 哩 (B) 20 哩 (C) 200 哩。

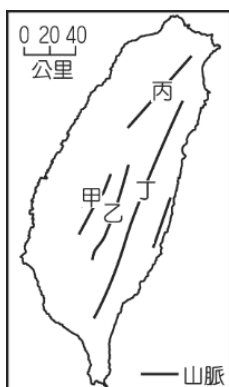
(B)12.分層設色圖是運用不同的顏色，來表示不同的高度。請問在台灣島的分層設色圖中，哪一種顏色所占的面積會最多? (A)黃色 (B)咖啡色 (C)深綠色

(C)13.右圖為台灣海岸分布簡圖，請問在『丁』海岸可見到下列哪一景象？ (A)潟湖養蚵 (B)珊瑚礁遍布 (C)高聳的懸崖。



(C)14.小晴為地理小老師，正在協助同學了解台灣島地形種類的特徵，請問她不會說到以下哪一地形的特色？ (A)高聳崎嶇的山地 (B)低而平坦的平原 (C)遼闊廣大的高原。

(B)15.牛排店老闆阿禎打算利用元旦連假帶領員工去挑戰全臺的最高峰，藉以激勵員工不屈不撓的精神。請問：阿禎老闆是打算去攀爬右圖中的哪一座山脈？ (A)甲 (B)乙 (C)丙。



(A)16.海岸類型依構成物質可以分為沙岸與岩岸，請問下列哪一種地形景觀常見於岩岸地區？

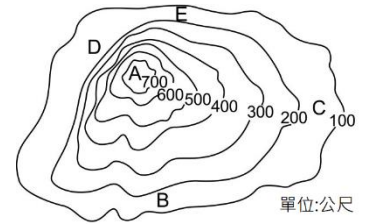
(A)岬角 (B)沙洲 (C)瀉湖。

(B)17.金門列嶼原為中國沿海的丘陵，很久以前因為海平面上升的關係，使得金門列嶼變成了海面上的小島。請問金門列嶼是屬於何者類型的島嶼？ (A)火山島 (B)大陸島 (C)珊瑚礁島

(A)18.台灣的離島多為火山島，這與台灣島的哪一特徵有關？ (A)位於板塊擠壓帶 (B)北迴歸線橫貫 (C)地形多高山

(B)19.小慧利用三天休假到位於台灣島西側海域的『甲』離島度假，此離島為古時海底火山噴發而形成的。小慧在當地看到了特殊的玄武柱狀岩、砗磲石堆砌的古宅及美麗海景。請問『甲』離島為？(A)馬祖 (B)澎湖群島 (C)綠島。

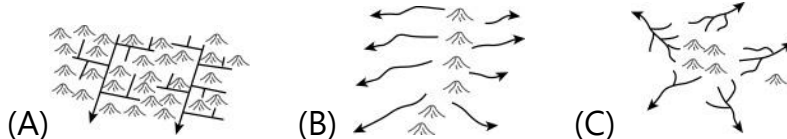
(C)20.右圖為快樂山的等高線地形圖。就讀國中的小香與爺爺利用假日到快樂山爬山，請問：小香與爺爺走下列哪一條路線上山會因坡度較陡而感到較累？ (A)B⇨A (B)C⇨A (C)D⇨A。



(A)21.「2010年7月，高雄市美濃區傳出下冰雹的天氣現象，五元硬幣大小的冰塊從天而降，嚇壞了當地民眾，所幸並無傳出人員傷亡情況。」，請問上文中的天氣現象符合水循環中的何種概念？(A)降水(B)蒸發(C)逕流。

(C)22.小棠的爸爸是臺灣的養殖業者，每年冬季來臨時，他便開始擔心會發生產業損失的問題。小棠爸爸的擔心和下列哪一種氣象災害關係最大？(A)颱風(B)暴雨(C)寒流。

(B)23.下列四張圖中，哪一張圖最適合用來說明分水嶺與台灣河川流向的關係？

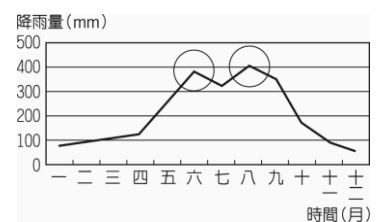


(B)24.在下列台灣河川中，哪條河川因所在地區冬季易降雨，流量是最穩定的？(A)濁水溪 (B)淡水河 (C)高屏溪

(B)25.臺灣許多河川都建有攔沙壩，興建該設施的主要目的是為了？ (A)減緩海岸後退的問題 (B)延長水庫的使用年限 (C)方便魚兒游至上游產卵。

(A)26.今年暑假時，小玲的爸爸帶著家人到阿里山度假，爸爸當時決定的理由是『山上涼爽，這樣不僅可少吹冷氣，節能減碳，還能爬山運動健身，一舉兩得。』請問：山區的氣溫通常較平地區低溫的原因為何？(A)地勢較高 (B)緯度較高(C)氣壓較高。

(B)27.右圖是臺灣每個月平均降雨量資料。圖中很明顯出現兩次降雨的高峰期，請問八、九月分降雨高峰的出現，主要與下列何種降水類型有關？ (A)梅雨 (B)颱風雨 (C)地形雨。



(C)28.比較台灣南部、北部地區的河川，台灣南部容易出現「荒溪型」的河川，這是因為南部地區的何種自然特徵？(A)地形起伏較小 (B)河川長度較短 (C)降水集中於夏季。

(C)29.如果只考慮降水特色，台灣哪一地區從冬季到春初，會因降水不足，最容易發生缺水危機，因此最需興建水庫，來滿足用水？(A)東北部 (B)東南部 (C)西南部

(A)30.週一早晨升旗時，小南發現旗桿上的旗幟正往西北方飄動。由此可推知，當時應是吹何種方向的風？ (A)東南風 (B)西北風 (C)西風。