

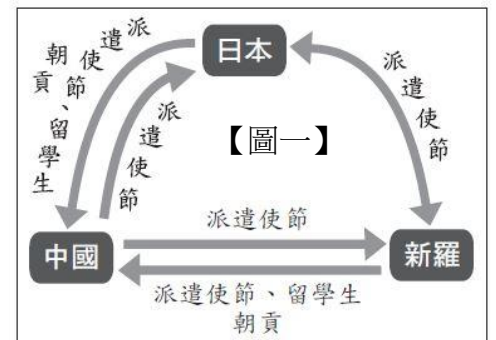
臺南市立鹽行國中111學年度第一學期八年級 補考 社會科試題庫

班級： 座號： 姓名：

選擇：共25題/100分

1. (A) 塔里木盆地位在新疆南部，因其降雨量稀少，盆地中間主要為塔克拉瑪干沙漠，水源主要來自周邊雪山夏季融雪所形成的雪水。請問，下列何者為塔里木盆地降水量稀少的原因？
(A) 季風難以到達 (B) 位於高緯度地區 (C) 地處青藏高原 (D) 環境過度開發。

2. (A) 右圖一為唐朝時期與其他周邊國家互動的情形，請問，根據圖片內容判斷，這時候的交流對日本產生下列哪種影響？
(A) 中國文化傳入日本 (B) 日本成為亞洲強國
(C) 日本推動西化運動 (D) 日本實施鎖國政策。



3. (B) 為針對新竹縣與新竹市合併升格議題，立法院內政委員會於年初多次舉行「縣市合併改制與地方制度法修法」公聽會，許多立委、民意代表、產業、醫療、交通和地方居民代表皆與會表達自身意見，新竹市市長亦對於大新竹升格合併的急迫性表達訴求。請問，下列何者正確？
(A) 政府應直接將新竹縣市進行合併，無須進行法律修正
(B) 召開公聽會可聽取民眾意見，體現民主國家民意政治
(C) 政府施政無須以民意為依歸，此合併議題為政治噱頭
(D) 新竹市長因未能進行新竹縣市合併，已辭職下臺負責。
4. (A) 漢朝大儒韋賢因為精通儒家經典，擔任高官，其子孫也在政府身居要職。因此當地居民盛行一句話：「與其留給子孫滿筐的黃金，不如教他們學好一部經書。」請問，之所以有這樣的描述出現，和下列何者的出現最有關聯？
(A) 世家大族 (B) 封建貴族 (C) 胡漢融合 (D) 北伐匈奴。

5. (C) 右圖二呈現了某一時期的中外交流情形，請問，下列何者符合這時候的交流情形？

【圖二】



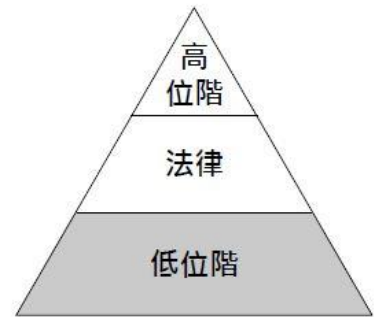
- (A) 中外雙方以戰爭達成文化交流
(B) 中國境內出現胡人，造就胡漢融合
(C) 商旅利用絲綢之路來進行貿易
(D) 中國文化向外擴展，形成東亞文化圈。
6. (C) 「法國今年的聖誕節是個非常『中國化』的節日，堆放在聖誕樹下的禮品都是中國生產的，而樹上懸掛的彩球、燈泡等裝飾品，甚至整棵聖誕樹也都來自中國。」上述現象與中國的何項特色最為相關？
(A) 農礦資源豐富 (B) 邊境貿易活絡 (C) 國內消費市場廣大 (D) 勞工多且工資低廉。
7. (B) 為了控制人口成長的速度，中國政府嚴格控制生育，而在不同時期，也有不同的口號，例如某段時間，中國政府推出的口號為：「一人超生，全村結紮」。請問，從這段口號判斷，下列敘述何者正確？
(A) 中國政府鼓勵多生女生，弭補性別比失衡
(B) 國家實施一胎化政策，希望減少人口自然增加
(C) 因應人口老化，鼓勵大家不要再進行生育
(D) 人口逐漸老化，政府準備開放民眾多生第二胎。

8. (B) 右圖三為西元2020年美國總統大選，兩位總統候選人拜登 (Biden) 及川普 (Trump) 的各州選舉人得票數分布圖，最後由民主黨的拜登取得勝選，擊敗共和黨的川普，亦代表川普連任失敗。請問，關於美國本次的總統大選，下列敘述何者正確？

(A) 民主黨成為在野黨，需監督政府施政

【圖三】

- (B) 美國本次總統大選結果導致政黨轉移
 (C) 共和黨成為執政黨，需進行政策擬定
 (D) 美國總統被賦予施政無須參照民意之權力。



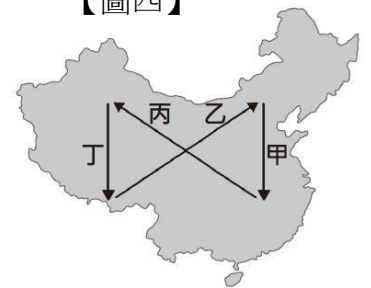
9. (B) 我國中央與地方政府權限的畫分採「均權制度」，其中具有因地制宜性質的事務由地方負責。依此規定，下列何種事項是屬於地方政府的職權？ (A) 招考公務人員 (B) 施打公費疫苗 (C) 增設地方法院 (D) 彈劾失職官員

10. (A) 「西元2021年八月初，臺灣參加東京奧運國手包機前往日本參賽，卻被發現選手搭乘經濟艙、隨行官員搭乘商務艙，引發經濟艙風波，前體育署長在第一時間扛起責任，公開請辭，並於去年九月初、東京奧運結束後正式下臺。」請問，根據上述新聞報導內容判斷，這個事件和下列何種民主政治的特色有關？

(A) 責任政治 (B) 民意政治 (C) 政黨政治 (D) 法治政治。

【圖四】

11. (C) 中國的氣候受到地形、緯度、距海遠近等因素影響，而有空間上的差異。請問，【圖四】中的那一條路線，明顯符合了中國夏季氣候由濕熱到乾熱的特性？



(A) 甲 (B) 乙 (C) 丙 (D) 丁。

12. (D) 「為了方便南北交通往來，中國開闢直通北部黑龍江省與南部海南省的列車，總距離約四千三百公里，單趟車程約四十七小時，該班次連結中國最北與最南的省份，故有『天南海北第一車』之稱。許多民眾選擇在冬季搭乘火車南下，一路從嚴寒的冰天雪地到溫暖的海南島過冬。以一月為例，黑龍江省哈爾濱的月均溫下探-18.5度，而海南省海口卻是18.5度。冬季時搭乘這班列車的遊客，必須帶著由冬季到夏季的衣物，親身感受『一車過四季』的旅遊經驗！」請問，從上述文字內容判斷，造成中國南北兩端氣溫落差大的原因，最有可能為下列何者？

(A) 季風走向 (B) 海拔高度 (C) 距海遠近 (D) 緯度高低。

13. (C) 近年來中國企業逐漸在全球經貿中扮演重要的角色，並積極併購的方式取得所有權，如瑞典的汽車公司、美國的個人電腦等品牌。請問：中國企業採用上述方式，其主要目的為下列何者？ (A) 擴展國家領土範圍 (B) 減緩國內勞力短缺 (C) 獲取產業生產技術 (D) 國內區域均衡發展。

14. (A) 青櫻是19世紀末在上海報社任職的編輯，考慮到報紙的時效性，若他想以最快的速度聯繫某位學者撰寫評論，應該會選擇以下何種方式？ (A) 電報 (B) 手機 (C) 寄信 (D) 驛站。

15. (B) 日本政府 2008 年推出的留學生 30 萬人計畫，其目的是為了吸引各國的頂尖學生成為日本的重要高度人才，實際的情況卻是留學生成了「學工」，在便利商店或餐飲業等服務業都可以看到外國留學生的身影，為了學費每天超時工作，但當局對黑工一事視而不見。日本放任這種狀況的原因與下列敘述何者相同？ (A) 工廠移至東南亞國家 (B) 超商推出無人店服務 (C) 開發老人照護新產業 (D) 港口多進口工業原料。

16. (D) 下列何者屬於地方自治團體？ (A) 臺灣省 (B) 彰化縣中西里 (C) 屏東縣楓港村 (D) 嘉義縣阿里山鄉。

17. (D) 玉玲參加一場演講會，發表的演講內容有「鄭和出使西洋」、「蒙古西征」等題目。由此推斷，這次演講的主題最可能是下列哪一項？ (A) 科技發明與文明變遷 (B) 中外文學的傳承與發揚 (C) 歷史洪流下的革新變法 (D) 中國與西方的文化交流。

18. (C) 在法律制定的過程中，可能因為部分利益團體向民意代表施壓，使立法機關所制定的法律忽略多數民意。下列何項權利的行使，有助於補救上述的缺失？ (A) 受益權 (B) 訴願權 (C) 複決權 (D) 服公職權。

19.(B) 附圖是日本的蛋包飯及日文發音，由圖可見日本文化具有何種特色？



(A)單一性 (B)多元性 (C)傳統性 (D)專業性。

20.(C) 有一位臣子上書給皇帝：「鴉片流毒於天下，則危害甚巨，……使數十年後，中原幾無可以禦敵之兵，且無可以充餉之銀。」皇帝因而派他到廣州查禁鴉片。請問：上文應是哪一位臣子的上書？ (A)李鴻章 (B)奕訢 (C)林則徐 (D)曾國藩

21.(D) 「北大之父」蔡元培曾提出徵婚條件：「一:天足、二:識字、三:男不娶妾、四:男死，女可改嫁、五:不合可離婚」這種徵婚條件的出現和下列何者有關？ (A)清廷明令禁止纏足、辮髮 (B)清政府鼓勵滿漢通婚 (C)中日戰爭時日本強改風俗 (D)開港通商後新思想傳入。

22.(A) 十四世紀時，為了進行貿易而東來的阿拉伯商人，在前往中國首都的路程上，發現頻繁設置的招待所，而服色各異的外國使節、公務往來的官員均在此進出。請問：此招待所為何？ (A)驛站 (B)市舶司 (C)坊市 (D)夜市。

23.(B) 根據我國相關規定，下列何者是由公民直選產生？(A)行政院院長 (B)立法委員 (C)司法院院長 (D)監察委員。

24.(B) 「在貴族掌政的階段，平民沒有受教育的機會，但隨著貴族階層沒落，被迫流落民間，依靠講學維生，造成私人講學風氣盛行，國與國之間因為競爭激烈，更競相爭取人才，能力傑出者，甚至可位居國家卿相之位。」請問，根據上述文字內容判斷，這樣的情形最有可能會出現在下列何時？ (A)商朝時期 (B)春秋戰國 (C)漢朝時期 (D)魏晉南北朝。

25.(D) 日本氣象廳公布境內多座火山活動狀況後，富士山在開山前夕舉辦火山爆發的防災演練，確認應對措施。請問：日本火山活動頻繁的主因為何？ (A)位於季風氣候區 (B)海岸線長而曲折 (C)南北橫跨緯度大 (D)多個板塊交會處。