

臺南市立鹽行國中 111 學年度第二學期九年級社會科補考題庫

班級： 座號： 姓名：



範圍：範圍： 第六冊歷史科第 3-4 章、公民科第 1-4 章+第四冊歷史科、公民科第 1-6 章 ※共 40 題，每題 2.5 分。

一、單選題：

<p>1</p>	<p>右圖是上公民課時使用的教具，根據圖中的相對關係判斷，該「權利救濟機關」應為下列何者？</p> <p>(A)調解委員會 (B)憲法法庭 (C)行政法院 (D)上級主管機關。</p>	
<p>2</p>	<p>某些學生為了節省開銷而使用盜版教科書，嚴重影響圖書業者的權益，因此某圖書協會向政府陳情，希望能修法將盜印書籍的行為，由告訴乃論改為非告訴乃論之罪。根據上述內容判斷，下列敘述何者正確？</p> <p>(A)如果修法通過，盜印書籍不再能以調解解決 (B)能實現該團體要求的中央政府機關為司法院 (C)文中團體所行使的人民基本權利為訴願權。 (D)文中大學生若被提告，將可能要負起行政責任</p>	
<p>3</p>	<p>某學生以左圖中二則示例，說明《憲法》關於自由權的概念。根據二則示例的共同意涵判斷，下列何者最可能是學生所要說明的概念？</p> <p>(A)政府可依法律限制人民權利 (B)契約行為應依循契約自由原則 (C)犯罪處罰須符合罪刑法定原則 (D)侵權行為應負損害賠償責任</p>	<ul style="list-style-type: none"> ● 人民有飼養寵物的自由，但飼主若放任寵物影響鄰居安全，可能會遭主管機關處以罰鍰。 ● 人民有言論自由，但若其言論涉及侮辱他人人格，可能會觸犯公然侮辱罪。
<p>4</p>	<p>國中生小琪寄了一封陳情信給某位公職人員，信中敘述父親沉迷賭博，導致家中欠債遭地下錢莊討錢，害他的父母離異、家庭破碎，希望有人能幫幫他，讓父親不再沉溺賭海。該名公職人員收到信後立刻啟動偵辦，循線破獲非法賭場，並依法對賭場業者與賭徒提起公訴。根據上述內容判斷，小琪寄信的對象應是下列何者？</p> <p>(A)法官 (B)檢察官 (C)律師 (D)警察局局長</p>	
<p>5</p>	<p>老師在課堂上進行猜謎遊戲，要同學從右圖提示中猜出謎題所指的官員。根據圖中內容判斷，下列何者屬於此官員的職權範圍？</p> <p>(A)代表國家偵查、追訴刑事犯罪 (B)審理立法委員提出的總統彈劾案 (C)在法庭上獨立審判各種訴訟案件 (D)提出憲法修正案及領土變更案</p>	<p>猜謎提示</p> <ol style="list-style-type: none"> 1. 我的產生方式是由總統提名，經立法院同意後任命。 2. 我是憲法法庭的成員之一。 3. 當對法律的適用產生疑義時，就是我發揮功能的時了。
<p>6</p>	<p>第一次世界大戰期間，中國考量自身優劣，初期採取中立立場，僅派遣華工赴歐洲協助戰事。直至戰爭後期，中國才決定參戰。請問：在此戰爭中中國結果為何？</p> <p>(A)戰勝國；但無法收回山東權利 (B)戰勝國；廢除所有不平等條約 (C)戰敗國；續簽不平等條約 (D)戰敗國；再度割讓土地。</p>	
<p>7</p>	<p>歷史事實與歷史解釋不同，歷史事實是呈現客觀的事實本身；而歷史解釋則是史學家對史實的詮釋。就民國初年的「新文化運動」而言，下列哪一項敘述屬於史學家對史實的解釋？</p> <p>(A)新文化運動帶來學術思想蓬勃發展。 (B)提倡民主與科學的思維 (C)胡適、陳獨秀提倡白話文 (D)大量西方學說在此時期被引進</p>	

臺南市立鹽行國中 111 學年度第二學期九年級社會科補考題庫

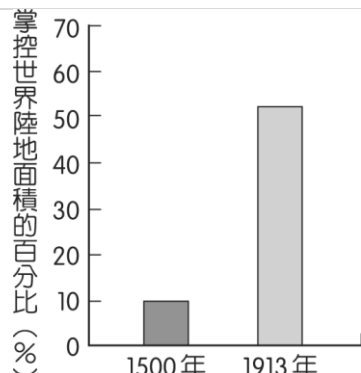
班級： 座號： 姓名：

- 8 右圖是一幅某時期的宣傳海報，此宣傳海報最早可能在下列何時何地傳布？
 (A)1919~1930 年的臺灣 (B)1949~1960 年的臺灣
 (C)1932~1945 年的瀋陽 (D)1960~1970 年的瀋陽。
- 
- 9 附圖為小佑在《漫畫知中國》一書中看到某事件的背景。根據圖中內容判斷，該事件發生的時間應為何？
 (A)1902 年 (B)民國 1912 年
 (C)1919 年 (D)民國 1928 年。
- 
- 10 小勝蒐集了許多社會紛爭事件的資料，將其分類後，結果如表所示。根據表中資訊判斷，下列說明何者正確？
 (A)檢察官應主動進行偵查的件數共 25 件
 (B)可經由和解方式直接解決的件數共 35 件
 (C)應由普通法院進行訴訟審理的件數共 65 件
 (D)當事人可聲請調解委員會調解的件數共 65 件。
- | 事件類別 | 件數(件) |
|-----------|-------|
| 民事事件 | 35 |
| 告訴乃論刑事案件 | 40 |
| 非告訴乃論刑事案件 | 25 |
- 11 在咖啡廳打工的小恩，自從年齡不受《勞動基準法》童工規定的保護後，老闆開始要求他每週五加班到凌晨。某日，小恩與客人發生衝突，因而被移送少年法庭審理。根據上述內容判斷，下列關於小恩的敘述何者最適當？
 (A)可能受到保護管束處分 (B)屬於完全行為能力人
 (C)屬於無責任能力人 (D)可能被處以十五萬元罰鍰
- 12 近來社會上出現飼養螞蟻當觀賞寵物的新興活動，於是小翰從國外購入蟻后、工蟻等活體進行銷售。但由於小翰自國外輸入外來種螞蟻的行為，已涉嫌擅自輸入有害生物種，違反相關法律規定，檢察官得知後，蒐集相關事證依法將他起訴。下列何者是小翰在上述程序後最可能面臨的情況？
 (A)遭法官判處有期徒刑
 (B)依法被處以罰鍰處分
 (C)在法庭上和緩，負責賠償所有損失
 (D)不服判決結果，繼續提出行政救濟
- 13 右圖呈現出某項法律規定施行前、後，幸福社區公告內容的變化，根據圖中訊息判斷，施行該法律最主要的目的應是下列何者？
 (A)促進社會互動 (B) 監控公共事務
 (C)查核虛假訊息 (D) 保護個人資料。
- | 幸福社區公告：管理費繳納情形(101年11-12月) | | | |
|----------------------------|--------|----------|--------|
| 9號1樓 王○○ | 3,000元 | 9號2樓 陳○○ | 3,000元 |
| 9號3樓 廖○○ | 尚未繳納 | 9號4樓 劉○○ | 3,000元 |
| 請尚未繳納的住戶儘速繳納 | | | |
- 14 右表為四家律師事務所某年的業務資料，小君為其中一家事務所的員工，且該事務所當年接受的委託業務中，能以調解方式處理的件數總計為 50 件。根據表中資料判斷，小君最可能在哪一家事務所工作？
 (A)甲 (B)乙 (C)丙 (D)丁
- | 律師事務所 | 告訴乃論刑事案件 | 非告訴乃論刑事案件 | 民事事件 |
|-------|----------|-----------|------|
| 甲 | 20 | 20 | 10 |
| 乙 | 30 | 20 | 10 |
| 丙 | 30 | 25 | 25 |
| 丁 | 20 | 40 | 30 |
- 單位：件

臺南市立鹽行國中 111 學年度第二學期九年級社會科補考題庫

班級： 座號： 姓名：

15 附圖呈現在 1500 年與 1913 年，某一洲的國家因政治、軍事、經濟力量的轉變，所掌控的世界陸地面積比例的變化。此一洲最可能是下列何者？
(A)非洲 (B)美洲 (C)歐洲 (D)亞洲。



16 「戰勝的各國認為啟蒙運動的自由理論是一切革命動亂的根源，也是拿破崙得以宰制歐洲的原因，所以他們要抵制革命成果，並恢復之前歐洲的政治秩序。」上文是描述下列哪一會議召開的背景？
(A)巴黎和會 (B)開羅會議 (C)雅爾達會議 (D)維也納會議。

17 右表是四個歐洲國家在第一次世界大戰爆發後的反應，根據表中內容判斷，何者屬於「同盟國」陣營？
(A)甲丙 (B)丙丁 (C)甲乙 (D)乙丁。

國家	事件後的反應
甲	全面動員軍隊，對付奧匈帝國等國。
乙	得到德國全力支持，向塞爾維亞宣戰。
丙	為支持同一民族，同時向法國和俄國宣戰。
丁	因德軍入侵比利時，向德國宣戰。

18 一位學者提出某國際組織的失敗原因如下，請問：此組織最可能是下列何者？
(1)會員國並未包括所有重要的國家：發起國美國未加入。
(2)每一會員國權利平等，各有否決權，所以運作效率不彰。
(3)組織缺乏武力來制裁國際侵略行為。
(A)聯合國 (B)國際聯盟 (C)華沙公約組織 (D)北大西洋公約組織。

19 右圖是小美在某一份專題報告中所舉的例子。根據其內容判斷，下列何者最可能是小美報告的主題？
(A)永續發展 (B)全球關連 (C)產業轉型 (D)國際貿易。


(1) 流感、SARS 等疾病，透過便捷的交通運輸網在世界各地蔓延。
(2) 部分國家發展工業時大量使用化石燃料，加速地球暖化。
(3) 國際金融風暴與國際油價攀升，對各國經濟發展造成影響。

20 二十世紀時，奧匈帝國向塞爾維亞宣戰後，隔天，甲、乙兩國領袖互通電報，其部分內容如附圖所示，甲、乙兩國最可能是下列何者？
(A)甲：俄國、乙：德國
(B)甲：俄國、乙：法國
(C)甲：法國、乙：德國
(D)甲：法國、乙：俄國。

<p>甲國發出的電報</p> <p>對塞爾維亞而言，這是一場卑鄙的戰爭。基於同為斯拉夫民族的立場，我國人民極為憤怒，而這種巨大壓力，將迫使我不惜走上戰爭之路。為了避免歐洲陷入戰火，我懇求你，想辦法阻止你盟國奧地利的戰爭行為。</p>	<p>乙國發出的電報</p> <p>我不認為奧地利對塞爾維亞的宣戰，是卑鄙的行動。因為奧地利根據過去經驗判斷，塞爾維亞所作的承諾完全不可靠。因此，在奧、塞的衝突中，我建議貴國不要支持塞爾維亞，保持旁觀，避免捲入歐洲這場最可怕的戰爭。</p>
---	---

21 南韓政府為了避免好萊塢壟斷世界電影市場，制定「銀幕配額」制度，限制每年必須至少上映 260 天南韓國產電影，而電視臺每年也須播映 40% 的自製影片。南韓政府的這些政策，將產生下列何種影響？
(A) 有助於國內文化漸趨單一性。 (B) 造成本國語言、傳統習慣逐漸消失
(C) 鼓勵民眾接受西方文化的傳遞 (D) 避免本國文化在西方文化強勢擴張之下逐漸消失

22 右圖是 1949 年至 1990 年間歐洲部分地圖，圖中深灰色的區域曾屬同一國家，但在此期間卻依虛線為界，分屬不同政權。此長期分裂情況發生的原因，主要與下列何者有關？
(A) 第三世界的出現 (B) 冷戰局勢的發展
(C) 宗教信仰的差異 (D) 民族主義的盛行。



臺南市立鹽行國中 111 學年度第二學期九年級社會科補考題庫

班級： 座號： 姓名：

題組題:

部分民眾家裡會安裝俗稱「機上盒」的電子設備，連接電視，用以觀看節目或影片，若機上盒內部被預設連結，或是提供安裝指引至非法盜版網站，則製造、進口或銷售者已經違反我國法律規定，涉及侵權，最高可被處以 2 年有期徒刑，併科 50 萬元罰金。法務部呼籲民眾，拒絕購買此類未獲授權管道的電子設備，共同維護創作者的權利，也避免造成不公平的商業競爭。根據上文內容，回答下列第 25-27 題。

23 上文中提及的法律，最可能為下列何者？ (A)《民法》(B)《著作權法》(C)《商標法》(D)《專利法》。

24 根據上文，侵權者若自行主張此現象屬於「合理使用」是否成立？

(A)成立，因為播放的節目具有原創性 (B)成立，因為消費者有支付購買費用
(C)不成立，已損及原創者獲得經濟報酬 (D)不成立，因為沒有註明原作出處來源。

由上文可知，法務部的呼籲應與達成何項目的最相關？

25 (A) 擴大公共資源分享 (B) 維護市場交易秩序 (C) 促進知識文化傳播 (D) 帶動資訊科技發展。

臺南市立鹽行國中 111 學年度第二學期第二次定期考 九年級 社會科 答案卷

每題 2.5 分，共 40 題

1	2	3	4	5	6	7	8	9	10
A	A	A	B	B	A	A	C	C	A
11	12	13	14	15	16	17	18	19	20
A	A	D	D	C	D	A	B	B	A
21	22	23	24	25					
D	B	B	C	B					