

一年級社會補考題庫

壹、選擇：

- () 根據西元 2017 年的資料，臺灣進、出口貿易在世界排名第 18 名，全球貿易夥伴多達 220 個國家和地區。在臺灣面積、人口皆未及全球 1%，許多產業，如晶圓代工、半導體等產值甚至居世界之冠，此事實說明臺灣何種地理特徵？ (A) 蘊藏豐富礦產 (B) 氣候溫和宜人 (C) 國際貿易發達 (D) 四面環海位置。
- () 清帝國統治時期，清廷依照什麼標準將原住民分為「熟番」及「生番」？ (A) 是否有納稅、服勞役 (B) 識字程度 (C) 財產多寡 (D) 與漢人熟識程度。
- () 四位同學報名參加〈臺灣歷史密室脫逃〉，他們各自拿到四張解題線索(如附圖)。請問：線索共同推論出哪一個地點？ (A) 臺南 (B) 基隆 (C) 雲林 (D) 澎湖。

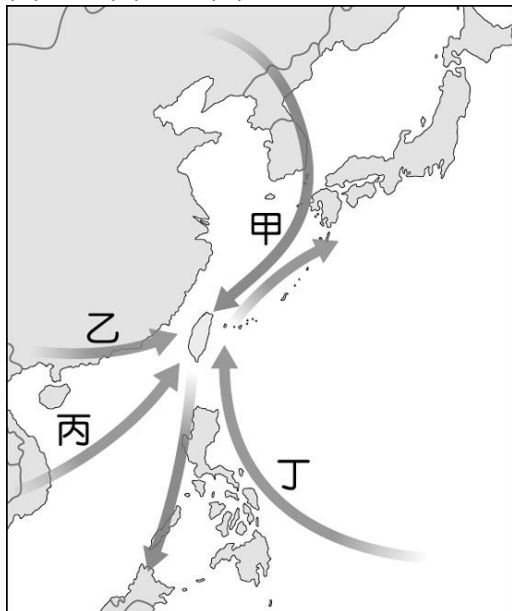
紅毛番

沈有容

天后宮

明代

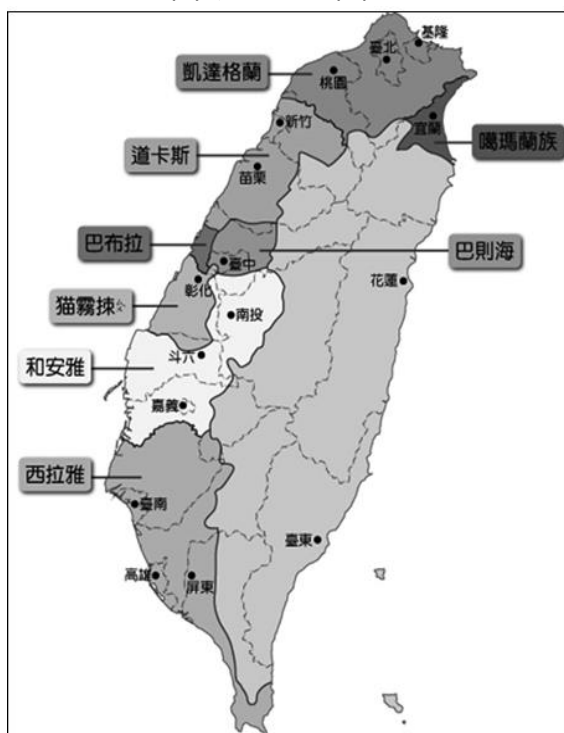
- () 西班牙人占領臺灣北部的目的除為傳教外，亦想以臺灣作為發展對某國貿易的跳板，不料該國實施鎖國政策，導致西班牙外貿受挫。請問：西班牙人原先欲與哪一國家發展貿易關係？ (A) 越南 (B) 日本 (C) 緬甸 (D) 英國。
- () 自荷蘭在臺時期到鄭氏在臺時期，下列何者一直都是相當重要的出口商品？ (A) 香料 (B) 鹿皮 (C) 軍需品 (D) 稻米。
- () 前資深體育主播傅達仁，因受病痛折磨多年，醫院多次發出病危通知，最後，他選擇到瑞士進行安樂死，要以灑脫姿態與世界告別，並呼籲我國能早日通過安樂死的法案，讓病患能夠「善終」，不要長期受到病痛折磨。以上描述可以彰顯下列哪一個概念？ (A) 公正審訊 (B) 隱藏自我 (C) 受人支配 (D) 人性尊嚴。
- () 臺灣氣候溫和，到了冬天，常是許多候鳥避冬之地。附圖中，候鳥冬季遷徙的路線應為何者？ (A) 甲 (B) 乙 (C) 丙 (D) 丁。



- () 附圖為花媽一家人在群組的對話，根據內容，何者的「人性尊嚴」受到重視？ (A) 橘子 (B) 花媽 (C) 柚子 (D) 花爸。

人物	說法
橘子	媽媽，弟弟每次都不倒垃圾！
花媽	女生多做點家事是應該的，阿媽以前也是這樣要求我。
柚子	爸爸，我將來想當一名化妝師。
花爸	好喔，我以前想學化妝都會被爺爺罵！以後你可以教爸爸怎麼保養。

- () 附圖是臺灣十七世紀某一族群的分布圖，此族群自日治時代曾有另一名稱，與其他原住民有所區別。請問：這是指當時哪個族群分類名稱？ (A) 生番 (B) 山地同胞 (C) 平埔族 (D) 高砂族。



- () 以下是某位性平專家在談話節目中的訪談內容：

臺灣目前缺乏「家務有給」觀念，一般家庭的先生只給太太菜錢、水電費等基本開銷，卻忽略了妻子的「人力成本」。例如：目前請家務清潔到府服務每月需 1 萬多元，24 小時保母約 3 萬元，還有其他雜務也需請助理來做，將這些人力支出加總後，可估算家庭主婦的年薪至少百萬。所以在家操持家務照顧家人的妻子，對家庭也具有同樣的功勞。

請問：他的說法主要是從哪一層面探討性別平等問題？ (A) 責任承擔 (B) 貢獻肯定 (C) 利益分配 (D) 需求滿足。

11. ()附圖是一網格座標，圖中有多種景觀。請問：(C, 1)所在的網格是下列哪一種景觀？ (A)礦坑 (B)墓地 (C)沼澤 (D)椰子樹。

	A	B	C	D	E
1			椰子樹		
2		涼亭		沼澤	
3	礦坑		墓地		

12. ()公民老師要學生說出有關於「人權」的意義或例子，以下四位學生何者論述正確？

(A)



德國納粹屠殺猶太人，罔顧人權。

東海

(B)



人權是後天才能有，不是與生俱來。

家馨

(C)



選擇自己要的生活方式與人權無關。

芳蒂

(D)




人權不是普世價值，只屬於某些人擁有。

強生

13. ()「此回歸線是太陽直射地表的最北界，主要通過臺灣的嘉義縣及花蓮縣等。」文中的回歸線是指幾度？ (A)南緯 23.5 度 (B)北緯 23.5 度 (C)南緯 66.5 度 (D)北緯 66.5 度。

14. ()甲、乙的經度分別為東經 70 度與西經 30 度。請問：甲乙兩地的經度相差幾度？ (A)30 度 (B)40 度 (C)70 度 (D)100 度。

15. ()聖惠在某篇介紹臺灣史前文化的文章中，發現一張如附圖的照片，人獸形狀的玉質耳飾，相當精美。另外，還有大型村落和石板棺遺跡的介紹。根據上述內容判斷，這篇文章的內容最有可能在探討下列何者？ (A)圓山文化 (B)長濱文化 (C)大坌坑文化 (D)卑南文化。



16. ()附圖是擷取自臺灣第一份國際性合約的內

容，請判斷文中的公司應是隸屬於下列何國？ (A)西班牙 (B)英國 (C)荷蘭 (D)英國。

第十條：國姓爺要把奪去的船隻、設備還給公司。

第十一條：國姓爺要安排足夠的船給公司，以便將人員、物品送抵公司大船中。

第十二條：公司人員滯留期間，國姓爺的手下每天要以合理的價格供應人員所需食物。

第十三條：國姓爺的手下若非為聯繫需要，不得接近城堡(熱蘭遮城)。

第十四條：公司撤退前，此城堡將只懸掛一面白旗。

17. ()小豪長期關注鄰近甲、乙兩國的發展，他運用附表中三項全球評比資料來呈現現況。從小豪的資料可以看出甲、乙兩國的人權發展為何？ (A)甲國法律能符合《世界人權宣言》精神 (B)乙國將《世界人權宣言》視為施政指標 (C)甲國在保障人權上有很大進步的空間 (D)乙國人權保障下享有充分的選擇自由。

	甲國	乙國
自由度	93 分 / 民眾充分享有政治權利與公民自由	10 分 / 強行鎮壓各種抗爭活動，並逮捕異議人士
民主指數	完全民主 / 年輕人踴躍參與選舉，立法改革有助司法獨立	威權政治 / 透過科技系統進行公民監控與隔離
人權報告	政府尊重國內言論及新聞自由	透過商業施壓方式企圖操縱他國媒體

18. ()阿豪今年出國旅行決定用抽籤的方式來決定目的地，若他抽到「臺灣位於該國西北方」的籤，則依據附圖，他最可能前往哪一個國家？ (A)中國 (B)日本 (C)帛琉 (D)越南。

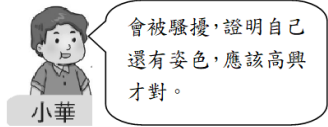


19. ()臺灣早期人類歷經一段沒有文字記載的史前時代，學者利用考古發掘，了解臺灣史前文化的發展。附表為史前時期三個階段的文化，如按照臺灣史前文化演進，其先後順序如何？ (A)甲乙丙 (B)乙甲丙 (C)乙丙甲 (D)丙乙甲。

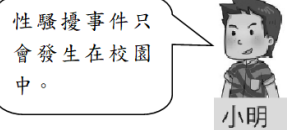
甲	金屬器時代
乙	舊石器時代
丙	新石器時代

20. ()同學們討論「性騷擾」的相關議題，其中何人的說法正確？

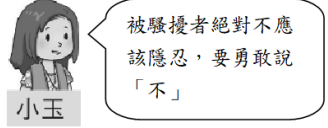
(A)



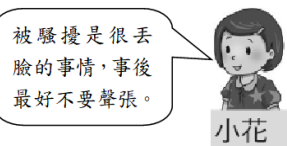
(B)



(C)



(D)



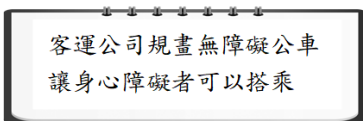
21. ()附圖為十六~十七世紀甲國到亞洲貿易的路線圖，根據圖中的航海路線，和在亞洲設立據點的位置判斷，甲國最可能為下列何者？ (A)英國 (B)荷蘭 (C)西班牙 (D)葡萄牙。



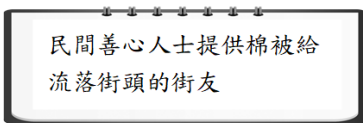
22. ()臺北約位於東經 120 度。請問：臺北與倫敦的時間相差幾個小時？ (A)8 小時 (B)12 小時 (C)16 小時 (D)24 小時。

23. ()下列何者是透過國家制定法律保障人權的例子？

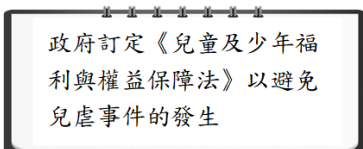
(A)



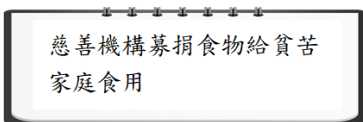
(B)



(C)



(D)



24. ()一名騎著單車的女子小婕，遇到一名素行不良

的男子騎車經過其旁，竟伸出狼爪，掐了小婕的臀部，嚇得小婕驚聲尖叫，記下車牌後報案。上述男子行為已違反下列哪一部法律的規定？ (A)《民法》 (B)《性騷擾防治法》 (C)《性別平等教育法》 (D)《性別工作平等法》。

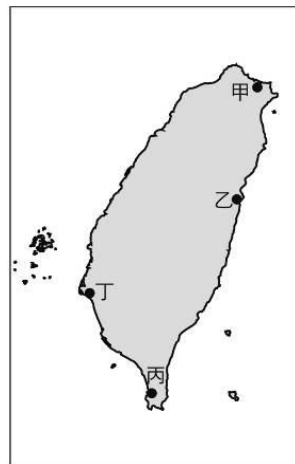
25. ()不同比例尺的地圖，涵蓋範圍大小不同，地理訊息的詳細程度也不同。若我們要認識學校周邊的詳細道路，應該選擇下列哪一個比例尺的地圖最為適宜？ (A)1/5,000 的市街圖 (B)1/50,000 的地形圖 (C)1/100,000 的衛星影像圖 (D)1/36,000,000 的世界地圖。

26. ()阿福是「某時期」的商人，自統治者手中取得與特定區域的原住民部落進行交易活動的權利。他經常帶著日常生活用品(如鐵器、布匹等)，向原住民交換鹿隻，所得的鹿皮與鹿肉，一部分作為稅賦上繳給統治者，一部分自行出售獲取利潤。下列敘述何者正確？ (A)「某時期」最早可能為荷蘭在臺時期 (B)阿福是以荷蘭人的身分取得交易權利 (C)此時期的統治者為從中國移入的漢人 (D)交易活動當中獲最大利益者為原住民。

27. ()附圖是十七世紀西班牙人繪製的地圖，由圖中海岸線的型態可知，該地最可能具有下列何種地理特性？ (A)海岸線平直 (B)多沙洲潟湖 (C)海水深度大 (D)港灣易淤積



28. ()「七股鹽場歷經日人株式會社與國民政府的開發與經營，成為臺灣史上規模最大的晒鹽場，也曾是我國工業用鹽重要的生產地。」請問：上述所提及的鹽場，最可能在附圖何處看到？ (A)甲 (B)乙 (C)丙 (D)丁。



29. ()我國為防治家庭暴力採行了不少措施，如設置婦幼保護專線、協助安置被害人等。若子女對父母親有言語或肢體等暴力行為，根據我國法律規定，如欲達成法律上的隔離效力，可供受害者尋求協助的機關，及此機關所能採行的因應作為，下列配對組合何者正確？ (A)地方法院、核發保護令 (B)警察機關、核發保護令 (C)地方法院、宣告停止親權 (D)警察機關、宣告停止親權。

30. ()阿米找了兩則故事，想要說明某時期統治者對於原住民的某項政策。請問：她的報告主題可能為何？

故事一

有一位叫沈光文的老先生隨著統治者一起到了臺灣，他很受到統治者的敬重並且建議統治者設立學校。之後，他移居目加溜灣社，教平埔族讀書識字，並且行醫濟世。

故事二

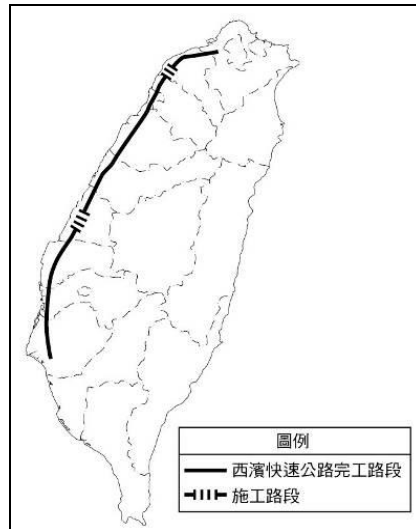
在這個時期，統治者設立學校，讓部分原住民可以到私塾去讀書。其中新港與麻豆部落的平埔族在儒家思想的教導下，終於學會漢人的耕種技巧，並知道要勤勞工作、積極儲蓄，也學會漢人禮儀，因此他們比附近其他部落的原住民更加優秀。

(A)荷蘭在臺時期對原住民的經濟政策 (B)荷蘭在臺時期對原住民的教育政策 (C)鄭氏在臺時期對原住民的經濟政策 (D)鄭氏在臺時期對原住民的教育政策。

31. ()家人之間關係親密，生活上常會有許多互動，但難免有時會有衝突發生。請問：面對家人之間的衝突，下列哪一作法最適切？ (A)衝突過了就好，不用太在意 (B)直接報警，讓公權力介入 (C)好好溝通，相互尊重彼此看法 (D)聽父母的話就對了，孩子不需有個人看法。
32. ()芬芬蒐集「大肚王」的相關資料時，發現鄭成功的軍隊曾為了「屯墾」入侵大肚社的領土，與大肚社人開戰；鄭軍將領劉國軒也曾入侵大肚王轄下的沙轆社，並放火燒毀村社，僅少數社民逃到埔里。請問：下列哪項敘述對這些資料的解讀較不客觀？ (A)漢人拓墾過程中侵奪原住民土地，激起多次原住民抗官事件 (B)漢人逐漸壓縮到原住民的生活空間 (C)原住民只要服從漢人，就不會有原漢衝突 (D)原住民的生活和文化，因外來者衝擊而被迫改變。
33. ()原住民族群很早就懂得耕作，他們通常在離家不遠的地方找一塊地，先將樹林砍掉，然後以火焚燒，利用焚燒所留下來的灰燼作為肥料，等待來年土地肥沃之後，再以樹枝做的木棍在土地上挖洞播種。二、三年之後，土地利用得差不多了，又換鄰近的另一塊地砍林燒樹，周而復始。請問：這種耕種的方式稱為什麼？ (A)精耕細作 (B)集約農業 (C)游耕 (D)觀光農業。
34. ()臺灣最早由德國購入的兩部火車頭，一個命名為「騰雲號」，另一則命名為「御風號」，都是「極快速」之意，當時最高時速為 35 公里。目前騰雲號仍在展示，而御風號已遭解體。請問：根據上述資料顯示，這最有可能和下列何人的事蹟相關？ (A)朱一貴 (B)

吳沙 (C)沈葆楨 (D)劉銘傳。

35. ()西濱快速公路北自新北市八里起，南至臺南市喜樹，全長 315.4 公里，原建設目的是為紓解國道 1 號及國道 3 號壅塞車流，並與國道 1 號、國道 3 號及東西向快速公路，建構臺灣西部地區整體之公路路網，達到全面且快速之公路運輸目標。右圖為西濱快速公路後續計畫示意圖，根據圖中路線所示，西濱快速道路最不可能經過哪一個地形區？ (A)桃園台地 (B)苗栗丘陵 (C)嘉南平原 (D)屏東平原。



36. ()課堂中老師請四位同學介紹家中同住的成員，下列哪一位同學的家庭屬於「折衷家庭」？


(A)



昊文

我的家裡有爸爸、媽媽、哥哥和我。

(B)



允喬

我的家裡只有媽媽、弟弟和我。

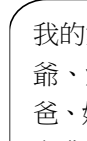
(C)



吉力

我的家裡有爺爺、奶奶、伯伯、伯母、堂哥、爸爸、媽媽、妹妹和我。

(D)



可青

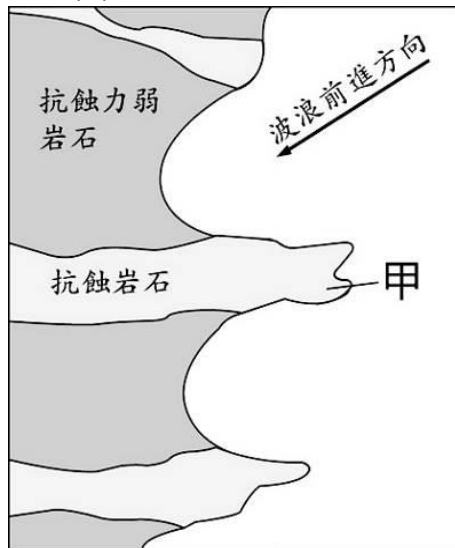
我的家裡有爺爺、奶奶、爸爸、媽媽、姐姐和我。

37. ()我國政府為了解決現代父母的生養難題，已開始擬訂各項政策因應。下圖何者是目前我國政府已實施的因應方案？ (A)甲乙丙 (B)甲乙丁 (C)甲丙丁 (D)乙丙丁。

- (甲)實施育嬰假
(乙)提供育兒津貼
(丙)發放生育給付
(丁)規定生養子女數的下限

38. ()附圖為地理百科的圖片。請問：附圖中突出海中的地形「甲」稱為什麼？ (A)岬角 (B)灣澳 (C)沙

洲 (D)珊瑚礁。



39. ()附圖為阿芳和阿華的對話。根據對話內容判斷，阿芳可向政府尋求何種協助？ (A)對先生實施感化教育 (B)剝奪先生的親權 (C)要求先生接受親職教育 (D)向法院聲請保護令。

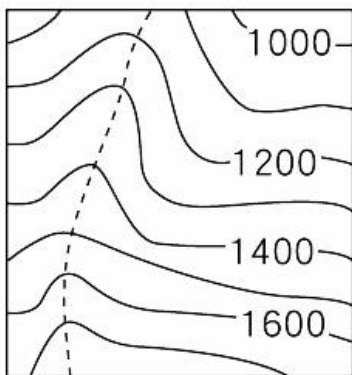
阿芳：我先生常用言語侮辱、脅迫我，讓我每天都感到驚恐、害怕。



阿華：別再默默忍受了，還是盡快請政府介入以提供協助吧！



40. ()附圖為某山坡地的等高線地形圖，圖中虛線處最可能表現為下列何種地形？ (A)懸崖 (B)窪地 (C)河谷 (D)山脊



41. ()歷史課時，同學們編寫一部歷史劇的劇本，其中片段如下。請問：同學們正在為哪一歷史事件編寫劇本？ (A)清法戰爭 (B)牡丹社事件 (C)郭懷一事件 (D)朱一貴事件。

(兩國代表正為某一事件

進行交涉)


清帝國代表：「『生番』都是化外之民，不屬於我國政府管轄。」

日本代表：「『生番』殺人，貴國卻置之不理，故我國將出師問罪，只是『生番』居住的地區與貴國府治相鄰，為免傷兩國和氣，所以先行奉告。」

清帝國代表：「『生番』既屬我國化外，問罪不問罪，由貴國裁奪。」

不久，日本乃向外界公告軍事行動，派兵至臺灣。

42. ()附圖為碩民與親屬外出旅遊所住的房間配置示意圖，已知碩民的堂哥住在甲房間，碩民的姐姐住在乙房間，父親住在丙房間，表妹住在丁房間。上述碩民與四人之間存在哪些親屬關係？ (A)姻親、法定血親 (B)配偶、直系血親 (C)直系血親、旁系血親 (D)姻親、直系血親、旁系血親



43. ()附圖是清帝國大臣對臺灣棄留問題的議論，經過一番激烈爭論後，關於最後結果的說明，下列何者正確？ (A)皇帝採納大臣甲的意見 (B)大臣乙應為施琅將軍 (C)在經濟考量之下保有臺灣 (D)雍正皇帝將臺灣納入版圖。

大臣甲：臺灣乃彈丸之地，沒有什麼價值，不如賣給其他國家。

大臣乙：臺灣可以鞏固東南沿海門戶安全，一旦落入外人之手後果不堪設想。

44. ()清帝國於雍正年間，在原諸羅縣管轄地區，增設彰化縣與淡水廳，促使清廷作成這項決策的因素為何？ (A)臺灣發生嚴重的風災 (B)日本海盜大舉襲擊臺灣 (C)歐洲國家的軍隊入侵臺灣 (D)臺灣發生大規模的民間動亂。

45. ()不少女性在職涯中經常為了養育兒女或是照顧家人，被迫要離開職場，等到想重回職場，卻受限於年紀增長而不好找工作。為此，勞動部從西元 2018 年開始試辦「婦出江湖」計畫，規畫課程讓婦女朋友找回自信，也和企業合作，鼓勵多雇用二度就業婦女，彌補人力資源的短缺。前述內容主要與現代社會的何種趨勢相關？ (A)婚姻價值觀的轉變 (B)生育觀念的變化 (C)住所與就業場域的變遷 (D)女性就業的普遍。

46. ()附表是清代臺灣土地開墾面積的資料。清帝國治理早期，臺灣土地開墾增加緩慢，至光緒年間開墾面積卻大幅增加，最可能的因素為何？ (A)清末中國面臨對外戰爭的壓力，人民選擇來臺避難 (B)開港通商後，吸引商人來臺種植經濟作物 (C)廢除渡臺禁令鼓勵漢人來臺開墾，加速東部開發 (D)外國人入侵臺灣，清廷增加防臺軍力，以軍屯方式積極開墾。

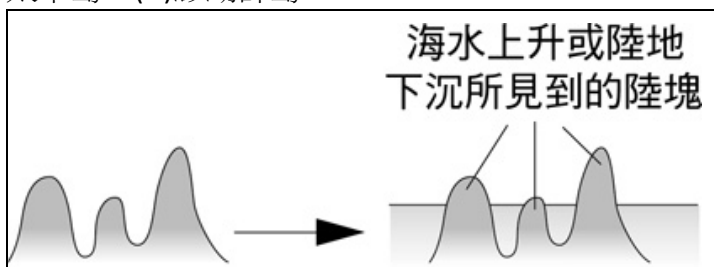
時間	總開墾面積
康熙 23 年	約 18,500 甲
康熙 49 年	約 30,100 甲
雍正 13 年	約 52,800 甲
乾隆 27 年	約 61,900 甲
光緒 14 年	約 370,000 甲

47. ()清廷在「為防臺而治臺」的政策下頒布了渡臺禁令，用來規範及限制漢人的移民人數。另外，為了避免原漢衝突，清廷乃劃定「番界」，嚴禁漢人越界開墾。然而，這些政策對當時的臺灣社會造成許多重大的影響，下列有關清帝國初期的治臺政策，哪項敘述較為正確？ (A)劃界封山政策被澈底執行，臺灣原住民的生活空間未被侵略 (B)清帝國初期申請來臺的手續非常簡單，大量漢人移民獲得來臺的合法資格 (C)清廷係因在臺女子過多，故才頒布渡臺禁令，希望能平衡臺灣男女人口的比例 (D)在臺「羅漢腳」眾多，成為臺灣社會治安的隱憂。

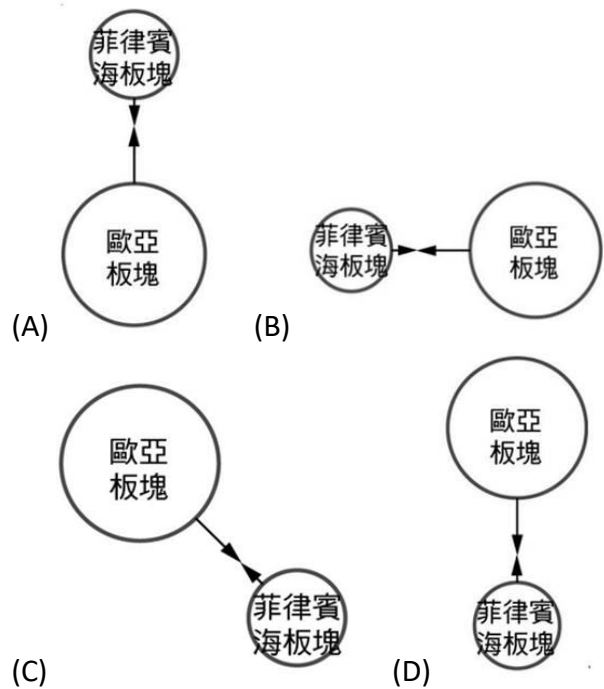
48. ()附表為小花婚禮打算邀請的部分親友名單，若她欲先聯繫直系血親，再依序聯繫旁系血親、姻親及上述關係以外的人，則下列何者符合其聯繫次序？

親友	稱謂
甲	外婆
乙	伯母
丙	親家
丁	舅舅

- (A)甲乙丙丁 (B)甲丁乙丙 (C)乙甲丙丁 (D)乙丙甲丁。
49. ()臺灣周圍離島的成因不同，下列哪一個島嶼的成因最能以附圖來說明？ (A)蘭嶼 (B)金門列嶼 (C)太平島 (D)澎湖群島。



50. ()位於花蓮縣玉里鎮的舊鐵路橋興建於日治昭和 5 年(西元 1930 年)，橋的中段剛好位於板塊交界處，每年因地殼擠壓運動造成橋墩落差。由於維修困難，加上行車安全考量，現已改建為「玉富自行車道」，是全臺第一條改建自鐵路的自行車道，獨一無二的板塊交界處地標也成為許多遊客拍照的景點。請問：若要利用圖示來呈現上述板塊交界的相對位置及推擠方向，下列哪一張示意圖最正確？



一年級社會補考題庫答案

1. 《答案》C
2. 《答案》A
3. 《答案》D
4. 《答案》B
5. 《答案》B
6. 《答案》D
7. 《答案》A
8. 《答案》C
9. 《答案》C
10. 《答案》B
11. 《答案》D
12. 《答案》A
13. 《答案》B
14. 《答案》D
15. 《答案》D
16. 《答案》C
17. 《答案》A
18. 《答案》C
19. 《答案》C
20. 《答案》C
21. 《答案》B
22. 《答案》A
23. 《答案》C
24. 《答案》B
25. 《答案》A
26. 《答案》A
27. 《答案》C
28. 《答案》D
29. 《答案》A
30. 《答案》D
31. 《答案》C
32. 《答案》C
33. 《答案》C
34. 《答案》D
35. 《答案》D
36. 《答案》D
37. 《答案》A
38. 《答案》A
39. 《答案》D
40. 《答案》D
41. 《答案》B
42. 《答案》C
43. 《答案》B
44. 《答案》D
45. 《答案》D
46. 《答案》C
47. 《答案》D
48. 《答案》B
49. 《答案》B
50. 《答案》C