


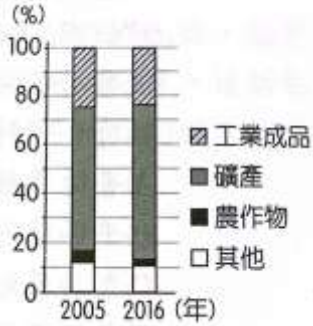
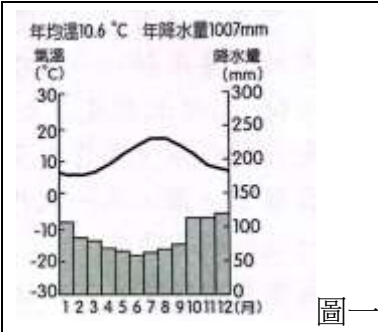




範圍：範圍：第 1-6 冊 全冊範圍 ※共 40 題，每題 2.5 分。

一、單選題：

1	<p>附圖為臺灣某地區的地形圖，請問：圖中西北角的深灰色區塊具有下列何項特徵？</p> <p>(A)人口密集的盆地 (B)主要稻米生產地 (C)新市鎮開發的台地 (D)高山旅遊觀光勝地。</p>	
2	<p>右圖為歐洲東方快車的路線示意圖，若欲搭乘此一頂級鐵道路線，由起站巴黎至伊斯坦堡旅遊歐陸，沿途經過的歐洲國家在氣候特徵上，大致有何種變化？</p> <p>(A)年均溫愈來愈高 (B)年降水量愈來愈少 (C)年溫差愈來愈小 (D)沿線國家全年皆少雨。</p>	
3	<p>美國總統拜登計畫拓展美鐵公司(Amtrak)的全國服務網，推出多條鐵路及高速鐵路路線，右圖中的勝利谷至拉斯維加斯鐵路路線即為其中之一。請問：這條路線將最可能面臨到下列哪一個環境問題？</p> <p>(A)降水量稀少，溫差變化大 (B)氣溫變化劇烈，暴雨集中 (C)夏、秋季節常有颶風侵襲 (D)氣候嚴寒，凍土分布廣大。</p>	
4	<p>右圖中灰色色塊為澳洲無尾熊棲地分布圖，根據圖中資訊判斷，下列敘述何者符合棲息地的特色？</p> <p>(A)棲地為澳洲人口相對較少處 (B)棲地主要位於大分水嶺以東 (C)主要位於溫帶地中海型氣候範圍 (D)棲地沿海有西澳涼流流經。</p>	
5	<p>右圖為中國某學者根據自然和人文的綜合數據，繪製的重要地理分界帶。此分界帶大致為下列何種現象的過渡區？</p> <p>(A)產業：水田區與旱田區 (B)水文：內流區與外流區 (C)氣候：熱帶季風與副熱帶季風 (D)地形：第二級階梯與第三級階梯。</p>	
6	<p>有一專門收錄世界各地大自然聲音的網站，只要點選地圖上的標記，就可以聽到當地各種自然界的聲音。當點選圖中的「甲」標記時，最可能聽到下列何種聲音？</p> <p>(A)熱帶雨林中青蛙的鳴叫聲 (B)廣闊莽原上獅子的怒吼聲 (C)海上浮冰撞擊和摩擦的聲音 (D)沙漠中強風吹起沙塵的聲音。</p>	

- 7 右表為某四個國家對外主要的出口品清單。由表中資料判斷，何者最可能位於漠南非洲？  
(A)甲 (B)乙 (C)丙 (D)丁。
- |   |             |
|---|-------------|
| 甲 | 電腦、汽車、軟體    |
| 乙 | 鋼鐵、汽車、電子產品  |
| 丙 | 咖啡、可可、石油、鐵礦 |
| 丁 | 牛乳、小麥、鐵礦    |
- 8 狄亞哥到南美洲從事地理考察，路線是從右圖中的乙地到甲地。請問：若將沿途經過的氣候類型依經過的順序排列，下列何者正確？  
(甲)熱帶莽原氣候 (乙)熱帶雨林氣候 (丙)熱帶沙漠氣候 (丁)高地氣候 (A)甲乙丙丁 (B)乙甲丙丁 (C)乙甲丁丙 (D)丙丁甲乙。
- 
- 9 右圖為四個假想國家某年的進出口貿易情形，圖中箭頭為貨品輸出的方向。請依圖中資料判斷，哪一國家在該年度的進出口貿易情形為出超？  
(A)甲 (B)乙 (C)丙 (D)丁。
- 
- 10 小勝前往澳洲進行打工旅遊，他應徵了澳洲某地葡萄園的工作，工作時間為 9 月到隔年 3 月，他在日記裡寫道：「工作內容為葡萄採摘、葡萄藤修剪等，工作期間雨季剛結束，氣候漸漸乾燥變熱，後來幾乎不下雨，讓我有些適應不良。」根據日記內容，小勝可能在附圖中哪一個氣候帶工作？  
(A)甲 (B)丙 (C)丁 (D)戊。
- 
- 11 右圖為漠南非洲國家 2005 年和 2016 年的出口商品結構圖。由圖可知，該地區的出口商品種類較為單一，造成上述特色的主要原因應為下列何者？  
(A)基礎設施完善，原物料需求降低  
(B)人口稀少，不利輕工業活動發展  
(C)工業技術先進，礦產開採量提高  
(D)仍維持殖民時期的經濟發展模式
- 
- 12 北美洲及歐洲分處於大西洋兩側，受洋流及盛行風向影響，大西洋東西兩側的氣候類型差異頗大，下表一為大西洋兩側甲、乙、丙、丁四個都市的經緯度位置，這四個都市分別位於美國五大湖區、美國東南部、南歐及西歐四個地區，依上地判斷，圖(一)所展示的氣候圖應為表(一)中哪個都市的氣候圖？
- 
- | 都市 | 經度      | 緯度      |
|----|---------|---------|
| 甲  | 9.15°W  | 38.71°N |
| 乙  | 87.65°W | 41.85°N |
| 丙  | 80.21°W | 25.78°N |
| 丁  | 4.13°W  | 50.36°N |
- 13 英國商人陶德，於西元 1867 年在大稻埕成立洋行，並從中國福建安溪引入茶苗在北臺灣種植，將茶葉運至美國銷售，沒想到獲得不少利潤，其他洋行也開始仿效競爭…。上述的貿易活動的發展與下列哪一史事的影響最具相關？ (A)郭懷一事件 (B)牡丹社事件 (C)清法戰爭 (D) 英法聯軍。

<p>14</p>	<p>小勝參加了一場歷史讀書會，專門討論歷代帝王建設、作為。同桌有 4 位友人分別談論了不同朝代的帝王事蹟，聊天內容與座位如附圖所示。小勝兩旁的同學分別討論了清朝的皇帝，根據圖中內容判斷，他的座位最有可能位於圖中何處？ (A)甲 (B)乙 (C)丙 (D)丁。</p>	
<p>15</p>	<p>阿亮計畫寫一篇歷史論文，向圖書館借閱了以下書籍： 請問：阿亮的論文主題最可能與何者相關？ (A)鄭和下西洋 (B) 漢人海商的貿易網路 (C)明清帝國的朝貢貿易 (D) 耶穌會傳教士東來。</p>	
<p>16</p>	<p>道光年間爆發的鴉片戰爭，致使建立近兩百年的大清王朝，遭遇到過去未曾面對的嚴重主權挑戰，並成為清朝衰弱的序曲。請問：清朝在鴉片戰爭後，主權的喪失最先由右圖中哪一個地區開始？ (A)甲 (B)乙 (C)丙 (D)丁。</p>	
<p>17</p>	<p>右圖是十九世紀前期某國與中國的三角貿易關係，箭頭所示代表輸出的國家。然而這樣的三角關係相當薄弱，最後更因為 A 商品而爆發什麼戰爭？ (A)鴉片戰爭 (B)英法聯軍 (C)清法戰爭 (D)八國聯軍之役。</p>	
<p>18</p>	<p>西元 1923 年的冬天，日本東京上空曾經散布傳單數十萬張，上頭寫著：「臺灣三十年來，備受塗炭之苦，專制政治不但違背人道，且違背立憲法治……欲收統治臺灣之功……賦與臺灣人民參政權之外，別無方法可想。」請問：此傳單用意為何？ (A)抗議警察權力過大 (B) 呼籲日本放棄對臺統治 (C)主張成立臺灣民眾黨 (D)爭取設立臺灣議會。</p>	
<p>19</p>	<p>孫中山在《建國大綱》中將國家建設分為軍政、訓政和憲政三個時期。請問：右圖中的「甲」應填入下列何者最適當？ (A)袁世凱下臺 (B)北伐完成 (C)北伐開始 (D)中華民國成立。</p>	
<p>20</p>	<p>自西元一九三〇年代起，德國開始積極準備對外擴張的工作，陸續併吞了奧地利與捷克，但為了避免在戰爭的過程中腹背受敵，於是簽訂了哪個條約？ (A)《雅爾達密約》 (B)《德蘇互不侵犯條約》 (C)《凡爾賽條約》 (D)《辛丑和約》。</p>	

21	<p>右圖是歷史老師在課堂時說明「某會議」的相關圖示，根據圖中內容判斷，關於「某會議」的敘述何者正確？</p> <p>(A)會議舉辦的地點在巴黎 (B)會議後成立「國際聯盟」 (C)與拿破崙的軍事行動相關 (D)會後刺激法國大革命爆發</p>											
22	<p>右圖是二戰後東亞某區域衝突的形勢圖，深色部分是衝突所在地。這裡在歷史上曾是中國的保護國，清帝國時期因中國對外戰爭失利而淪為歐洲國家的殖民地。二戰後，當地擺脫殖民統治，在追求國家統一及受國際局勢的對立發展而爆發戰爭。請問：關於這場區域衝突，下列敘述何者正確？</p> <p>(A)內戰結束後仍未完成統一 (B)這場戰爭爆發於朝鮮半島 (C)可視為美蘇對抗的角力賽 (D)美國強力支持下終結分裂。</p>											
23	<p>小勝想要針對 11 世紀後期的英國進行當代的文藝小說創作，右表中是他設定的資料內容，但在人物設定上錯誤百出。根據表中內容判斷，哪一人物的設定正確？</p> <p>(A)約翰 (B)亞倫 (C)安迪 (D)喬治</p>	<table border="1" data-bbox="1246 1166 1872 1426"> <thead> <tr> <th>人物</th> <th>角色設定</th> </tr> </thead> <tbody> <tr> <td>約翰</td> <td>以當地方言進行創作的詩人</td> </tr> <tr> <td>亞倫</td> <td>英法聯軍時被派往中國的軍人</td> </tr> <tr> <td>安迪</td> <td>東印度公司派遣至印度的人員</td> </tr> <tr> <td>喬治</td> <td>效忠羅馬公教的虔誠神父</td> </tr> </tbody> </table>	人物	角色設定	約翰	以當地方言進行創作的詩人	亞倫	英法聯軍時被派往中國的軍人	安迪	東印度公司派遣至印度的人員	喬治	效忠羅馬公教的虔誠神父
人物	角色設定											
約翰	以當地方言進行創作的詩人											
亞倫	英法聯軍時被派往中國的軍人											
安迪	東印度公司派遣至印度的人員											
喬治	效忠羅馬公教的虔誠神父											
24	<p>「原住民族歲時祭儀」是國定民俗節日，凡具原住民身分者，於所屬族群之歲時祭儀放假日，只要提供證明為原住民的戶籍謄本即可辦理放假。其表現了下列何種精神？</p> <p>(A)加強部落生態保護 (B)協助部落自治發展 (C)尊重部落文化傳承 (D)加強部落意識。</p>											
25	<p>為配合交通部觀光局推動的智慧觀光，臺北市、新北市和基隆市合作發行「北北基好玩卡」，結合電子票證、智慧 App 及使用指南，可無限搭乘捷運、公車，還可免費參觀周邊必遊景點，並憑卡享有許多店家的優惠。下列相關敘述何者正確？</p> <p>(A)文中三個地方政府屬於相同層級 (B)文中提到的地方政府內有兩個直轄市 (C)文中該卡的發行是由地方議會協商辦理 (D)文中三者的合作促進了區域的安全衛生</p>											
26	<p>右圖是某法規的修正的內容—— 前述法規的修正主要是透過下列何項方式來遏止酒駕的行為？</p> <p>(A)增加負向的金錢誘因 (B)增加負向的非金錢誘因 (C)減少正向的金錢誘因 (D)減少正向的非金錢誘因。</p>	<div style="border: 1px solid gray; padding: 10px;"> <p>過去汽機車駕駛人若遭到警察攔檢但拒絕酒測，依據《道路交通管理處罰條例》可處 9 萬元罰鍰，西元 2020 年修正的法規實施後，將汽機車駕駛人拒絕酒測的罰鍰提高至 18 萬元。</p> </div>										
27	<p>勞動部統計，國內外籍移工人數逐年成長，移工總人數由民國 100 年的 425,660 人增長到民國 109 年的 709,123 人，近十年間增幅達 66%。其中，產業移工更由民國 100 年的 227,806 人增長到民國 109 年的 457,267 人，近十年間增幅更高達 100%，面對上述移工人數快速增加，下列哪一個議題是政府當務之急的作為？</p> <p>(A)快速提升移工在臺的工作職位 (B)相關管理及勞動權益保障議題 (C)外籍移工來臺的婚姻仲介議題 (D)外籍移工歸化國籍的保障議題。</p>											

- 28 嘉義縣東石鄉海埔新生地近年發展迅速，有業者買下東石幼兒園旁建地，計畫設置太陽能板。部分居民擔心太陽能板的設置會危及住戶及幼兒安全，高喊口號抗議，希望業者能另擇他地，不要影響居民生活。居民抗議的最大原因為何？  
(A)防止企業經營影響居民權益 (B)釐清參與公共事務的範圍  
(C)促使居民主動參與 (D)分享資源避免獨占。
- 29 下列為小勝在網路上看到的一篇報導，依據內容判斷，何者敘述正確？  
近來新台幣匯率強勢波動，臺灣機械工業同業公會理事長表示，新臺幣幣值之變化，讓臺灣機械業者在國際上面對南韓廠商的競爭，壓力愈來愈大，不利於我國出口，希望政府相關機構能適度穩定匯率，緩解出口商壓力。  
(A)文中新台幣幣值的變化是指貶值  
(B)文中所提相關機構應為立法院  
(C)此時從國外進口商品的成本可能降低  
(D)此時將美金兌換成新台幣較為有利
- 30 臺灣人口老化問題嚴重，因應高齡照護的需求，中華民國家庭照顧者關懷總呼籲政府參考日本，修法制定「長期照顧安排假」，包含 30 天的有薪假及 150 天的彈性假期，讓勞工可以因應照顧歷程中的各種狀況，照顧不離職。根據上述內容判斷，下列敘述何者正確？  
(A)文中人口變化趨勢可能造成扶養比降低  
(B)該團體呼籲政府修法協助家庭職能發揮  
(C)該團體的主要訴求為捍衛團體成員利益  
(D)該團體的行為符合理性思考批判之德性
- 31 有則報導中提及解決紛爭方式如下：  
司法機關為解訟源，鼓勵將簡易案件移付鄉鎮市區調解委員會辦理調解，既可節省時間、金錢，也能有效且妥適的解決當事人紛爭，維護社會秩序。根據統計，2021 年臺中市調解成立案件將近二萬例，調解績效全國居冠，爭訟止息，功不可沒。  
根據上述內容判斷，下列敘述何者正確？  
(A)檢察官依職權須主動偵查之案件，適用此種解決方式  
(B)開車撞傷人但未能談妥賠償金額可用上述方式解決紛爭  
(C)調解委員由法官擔任，故調解成立後，不得再提起訴訟  
(D)上述解決紛爭方式，其法律效力等於雙方訂定之契約
- 32 某工廠擁有三條生產線，分別生產甲、乙、丙三項產品，上半年的銷售成果如右圖所示。近日廠長決定停止生產其中一項產品，並把該生產線轉為生產其他二項產品中的其中一種，期望增加工廠的利潤。在考量各產線上半年獲利的狀況下，根據圖中資訊判斷，下列四個方案中，何者最能達成廠長的目標？  
(A)停止生產甲，增加生產乙 (B)停止生產甲，增加生產丙  
(C)停止生產乙，增加生產甲 (D)停止生產乙，增加生產丙。
- 
- | 姓名 | 可以領到的選票           |
|----|-------------------|
| 浩辰 | 市長、市議員、里長         |
| 佩儀 | 縣長、縣議員、市長、市民代表、里長 |
| 敏琇 | 市長、市議員、區長、區民代表、里長 |
- 33 為節省選務經費，我國政府將直轄市長、直轄市議員、縣市長、縣市議員、鄉鎮市長、鄉鎮市民代表、直轄市山地原住民區長、直轄市山地原住民區民代表及村里長等九類地方公職人員合併於同一天舉行。右表為浩辰、佩儀、敏琇三人在此選舉中可拿到的選票，根據表中內容判斷，三人居住的縣市最可能依序為下列何者？  
(A)桃園市、花蓮市、基隆市 (B)台東市、嘉義市、高雄市  
(C)台北市、南投市、新竹市 (D)嘉義市、宜蘭市、新北市
- 34 13 歲的心萍因與芊芊起爭執，在網路社群媒體以不雅言語發文不斷攻擊芊芊，芊芊因而鬱鬱寡歡，甚至需求助精神科，芊芊母親知情後，至警局提告心萍公然侮辱罪，並要求賠償精神損失。根據內容判斷，下列敘述何者正確？  
(A)案件將移送少年法庭，由法官審理處以保護處分 (B)芊芊母親向警局提告公然侮辱之行為，稱為自訴  
(C)心萍為限制責任能力人，依法可以減輕刑事責任 (D)心萍為無行為能力人，家長須負起連帶賠償責任

臺南市立鹽行國中 112 學年度第二學期九年級 第二次段考 社會科試題卷

班級： 座號： 姓名：

35 佑哲在網路上看到四種薪資不同的工作機會，已知甲工作薪水為 35,000 元，若僅以薪資作為選擇工作的機會，佑哲的選擇及其機會成本如右表。根據內容判斷，下列敘述何者正確？

- (A)甲、乙兩樣工作做選擇時，佑哲選擇乙工作
- (B)丙、丁兩樣工作做選擇時，佑哲選擇丁工作
- (C)四種工作中，薪資最高者為乙，最低者為丙
- (D)四種工作中，薪資最高者為甲，最低者為丁

選擇比較的工作	最佳選擇的機會成本
甲、乙	32,000
乙、丙	30,000
丙、丁	30,000

臺南市立鹽行國中 112 學年度第一學期第二次定期考 九年級 社會科 答案卷

每題 2.5 分，共 40 題

1	2	3	4	5	6	7	8	9	10
C	B	A	B	A	A	C	D	D	D
11	12	13	14	15	16	17	18	19	20
D	D	D	C	D	C	A	D	B	B
21	22	23	24	25	26	27	28	29	30
C	C	D	C	B	A	B	A	C	B
31	32	33	34	35					
B	C	D	A	B					