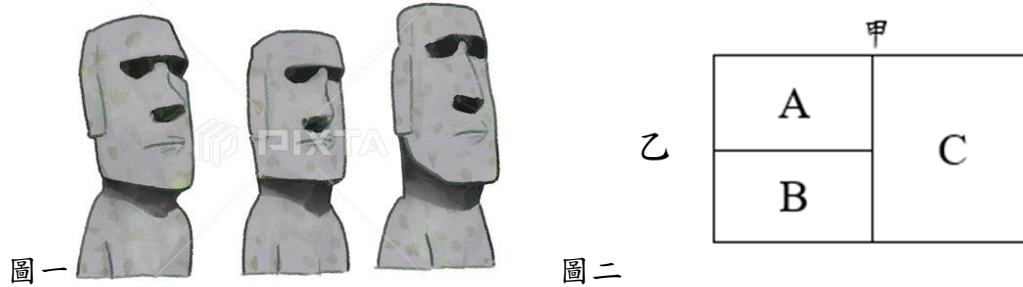


★共 25 題，每題 4 分 (1-9 題地理，10-17 歷史，18-25 公)

1. (C) 復活節島之所以有著一股神秘氣息，因為島的位置孤懸海外，天然資源有限，歷史上復活節島上的部落居民曾因為人口過多，有資源爭奪的事件發生。復活節島顧名思義是當時發現這座島的時間是在復活節而得名的。島上的摩艾像至今仍然是考古學家抱持許多疑問的一項古物，一直以來有不少關於這些石像成因的推論，像是一說法是指復活節島居民有著祖先崇拜的觀念，他們相信先人有著神秘力量，所以建造出自己部落裡的首長或是祭司的巨型石像，這些石像基本上都是面向內陸，背對著海，其寓意代表著這些石像能夠保佑後代子民。請問，復活節島位在大洋洲三大島群的哪一個？(A) A (B) B (C) C。



2. (D) 承上題，為大洋洲三大島群的簡圖，圖二中甲、乙 代表其分界線。請問：甲界線與下列哪條線相符？(A) 赤道 (B) 北回歸線 (C) 本初經線 (D) 國際換日線。
3. (B) 歐、亞、美三洲的航班，為了節省航行距離，很多飛機、貨輪會繞行北極圈去另一個半球，但是由於北極氣候嚴寒，冬季常常必須要專業破冰船幫忙取道，隨著□□□□的影響，有些專業船隻可以靠自己內建的破冰裝置即可航行；由於破冰船十分昂貴，船公司不需要額外支出破冰船的費用，成本大幅降低，商機無窮。請問□□□□最有可能是？(A) 空氣汙染 (B) 全球暖化 (C) 板塊移動 (D) 極地風帶。
4. (B) 承上題，在俄羅斯北極物流中心資料顯示，北極東北航道從中國經西伯利亞沿海到荷蘭鹿特丹只需 20 天，途經蘇伊士運河則需 48 天。請問除了商用貨輪運送貨物外，也能將北極地區主要的礦產□□運送到其他地區。請問□□最有可能是？(A) 鐵礦 (B) 石油 (C) 煤礦 (D) 鈾礦。

●2021 年馬來西亞歌手黃明志因為創作玻璃心這首歌，在網路上拉起一波聲浪，他接受外媒訪問，談起自己創作的初衷，直指這是一場社會實驗，如果中共禁播，那就應驗了玻璃心的歌詞。裡面有段歌詞：「你說你（很努力），不換肩（走了十里），扛著棉花採著牠愛的蜂蜜（共同富裕）…說個話，還要自帶消音，怕被送進去，種哈密瓜再教育…」請依據上述文本，回答以下問題



5. (D) 歌詞中「扛著棉花採著牠愛的蜂蜜…」，目前中華人民共和國是世界最大棉花消費國、第二大棉花生產國。請問：中國棉花最大的產區以及有瓜果之鄉的美稱是在說地圖中的哪裡？(A) 甲 (B) 乙 (C) 丙 (D) 丁
6. (B) 請問該區適合種植棉花的條件，何者為非？(A) 日照充足 (B) 雨量充沛 (C) 雪水灌溉 (D) 疏鬆沙壤
7. (C) 歌詞中「說個話，還要自帶消音，怕被送進去，種哈密瓜再教育…」，暗喻今年 2021 年 3 月的新聞，關注「人權問題」的瑞典時尚品牌 H&M，因懷疑中國強迫該區少數民族勞動生產「血棉花」，率先宣布終止與中國廠合作，並停止從該區採購原料，讓中國網友玻璃心碎滿地，紛紛抵制，連帶牽連許多國際品牌，請問該少數民族為？(A) 蒙古族 (B) 藏族 (C) 維吾爾族 (D) 壯族

8. ( B )住在英國倫敦的文生利用聖誕假期，前往中國西藏自治區首府拉薩旅遊，為了配合目的地所在國家的時間，他應該將手錶時間做下列何種調整？(A)調慢 8 小時(B)調快 8 小時(C)調慢 11 小時(D)調快 11 小時。
9. ( A )中國在 2021 年第 13 屆全國人大常委會第 30 次會議今天通過修正人口與計畫生育法，正式開放一對夫妻可生育 3 個子女，「三孩政策」從此取得法律依據。這些措施中，也包括中國官方激烈打擊校外補習業的「雙減政策」。請問，中國從一胎化政策到開放「二胎」到現在的「三孩政策」，是為了要解決以下問題：請問下列問題何者為非？(A)人口太少 (B)人口老化 (C)未來勞動力不足 (D)少子化
10. ( A )「本人奉命將鴉片運往京城銷毀，可怕路上被人換掉，於是就地銷毀。選在了較近的虎門，或許人們認為直接燒掉就行，浸泡是多此一舉。但實際上煙土拌桐油焚毀法會使得多餘的油滲入土裡，有心人還能挖出來吸食，且會造成大量的煙霧，這相當於是所有人都在同時吸煙。這顯然違背銷煙的初衷。海水浸化法是最好的辦法，全部銷毀了兩百三十七萬六千二百五十四斤鴉片。」請問：說話的人為何？(A)林則徐 (B)道光皇帝  
(C)梁啟超 (D)康有為。
11. ( C )德川幕府末期，時局動盪，黑船來航，日本被迫打開國門，一時之間內憂外患並起。福澤諭吉夾在佐幕派與尊皇派之間，甚至面臨來自浪人的殺機。即使如此，他仍不畏「攘夷」的主流觀點，堅信唯有向西方國家學習，日本才能富強，遂致力於翻譯外文書，並創辦西洋文明的火車頭學校「慶應義塾」以及《時事新報》。請問日本在當時受到哪個國家的影響被迫開港通商？(A)英國 (B)法國 (C)美國 (D)德國。
12. ( C )承上題，在接觸西方知識之後，福澤諭吉更積極提倡自由平等、男女平等、婚姻自主等思想。首次訪美後，他帶回日本第一部韋氏辭典，出版介紹西方文明的專書《西洋事情》，成為日本英語教育的先鋒。雖然他終生不願踏入政治圈，卻在各方面大大地影響日本現代化的改革運動，促使日本晉升亞洲強國，進而改變了整個世界的歷史。請問：下列何者為上文敘述中的改革運動？(A)大化革新 (B)大正民主 (C)明治維新 (D)戰前昭和。
13. ( A )「1900 年，在慈禧太后默許民眾攻擊教堂及傳教士，甚至包圍北京的外國使館後，美軍第十五步兵團首次被派遣至中國保護僑民。……後來，當日本在今日北京附近發動侵華的軍事行動，與中國爆發戰爭，美國政府不願捲入戰局，因此決定撤離第十五步兵團，結束多年的派駐。」根據上文，美國首次派遣第十五步兵團至中國，最可能與下列何者有關？(A)義和團事變 (B)禮儀之爭 (C)戊戌政變 (D)查禁鴉片。
14. ( C )宜珊查閱清末的歷史資料，他發現在這個時期婦女地位逐漸提高。請問：下列何者應該不是他所找到的資料內容？(A)女子應該接受教育 (B)女性能謀求就業機會 (C)婦女應遵守三從四德 (D)女性可自由戀愛結婚。
15. ( C )在中國近代史上，此處的租界開闢最早，存在時間最長，面積最大，經濟的發展十分快速，對周邊地區的近現代歷史發展產生了深遠影響，成為中國人接觸西方文化的一個重要窗口，上述的「此處」應該是指何者？  
(A)北京 (B)天津 (C)上海 (D)南京。
16. ( B )西元 1910 年，四川巡警道的勸諭婦女放足白話告示中提到：「從前未禁纏足，以天足為醜。現在人人都是天足，個個都以纏足為醜，爾等再不放足，真是不知自醜。」此種放足的風氣最早在何時出現？(A)明末清初 (B)清末民初 (C)宋末元初 (D)元末明初。
17. ( D )晚清時期的秋瑾，為新時代女性的代表。如果我們仔細研究她的生平及主張，應該會出現下列何者？  
(甲)不贊成傳統婚姻對女性的束縛 (乙)認為女子無才便是德 (丙)鼓吹男女平等 (丁)提倡女性求學自立

(A)甲乙丙 (B)乙丙丁 (C)甲乙丁 (D)甲丙丁。

18. ( C )元旦開始政府及開放美國含萊克多巴胺(瘦肉精)豬肉進口，有地方縣市政府表示對美國進口豬肉檢驗將採取最嚴格的標準。中央政府指稱地方政府這樣違背中央政策，部分地方政府聲稱這是地方政府的權限。請問：中央政府與直轄市、縣(市)發生權限爭議時，依照我國《憲法》規定，由下列哪個機關來解決？

(A)行政院 (B)司法院 (C)立法院 (D)考試院。

19. ( A )當中央與地方發生爭議時，可依據哪些法律的規定加以解決？(A)《憲法》與《地方制度法》 (B)《憲法》與《中央法規標準法》 (C)《憲法》與《人民團體法》(D)《憲法》與《民法》。

20. ( A )每當選舉的時候，我們常可聽到候選人發表各種政見，表達自己的政治訴求，就縣長的職權而言，下列四位候選人所提的政見，何者是合理可行的？(A)王大年說他當選後要發放老人年金(B)張小蘭說她當選後要制定《婦幼福利法》(C)黃一元說他當選後要爭取與他國建交(D)李小芬說她當選後要促成臺灣加入聯合國。

21. ( D )新北市坪林區為繁榮地方，在勘查當地自然環境特色後，結合人力、物力、財力和土地等資源，興建「茶葉博物館」，並與茶農合作經營「茶區步道」，以推廣鄉內的茶葉產品，籌措地方自治財源。請問：上述鄉公所作為，屬於哪一種性質的地方建設？

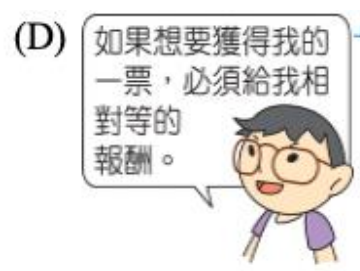

(A)文化方面的資產保存 (B)福利方面的社會救助 (C)政治方面的本土運動 (D)經濟方面的公共造產。

22. ( D )青年學子為爭取《憲法》保障之人民基本權利，可能上街進行集會活動，例如1990年的「野百合學運」。上述青年學子的行為，最可能是屬於下列何種概念的展現？

(A)權力分立 (B)政黨輪替 (C)地方自治 (D)政治參與。

23. ( B )BBC報導：沙烏地阿拉伯將於2015年底舉行地方選舉，約有7千名候選人將競選全國 284個地方政府委員會議席，其中包括逾900位女性候選人。這是沙烏地阿拉伯歷史上首次賦予女性投票選舉和被選舉的權利，官員表示約13萬女性已登記成為選民，不過，當地約有135萬男性選民，女性選民數字仍相差甚遠。請問：此前沙烏地阿拉伯的女性無選舉資格，是違反哪一項選舉原則？(A)普通 (B)平等 (C)直接 (D)無記名。

24. ( D )以下四個人政治參與的方式，何者是較不理性且有可能是違法的？



25. ( D )關於右圖的活動內容，下列敘述何者正確？

(A)落實權力制衡的理念(B)屬於競選活動(C)只有公民才可以參加(D)屬於政治參與。

